

275

QUESTÕES COMENTADAS

QUESTÕES PARA POLÍCIA MILITAR DO ESTADO DE
SÃO PAULO - SOLDADO

MA010-19-PM-SP-SOLDADO-CADER-TESTE

OBRA

Questões Comentadas para o Concurso PM-SP - cargo de Soldado

AUTORES

Língua Portuguesa - Profª Zenaide Auxiliadora Pachegas Branco

Matemática - Profª Evelise Leiko Uyeda Akashi

Noções Básicas de Informática - Profº Carlos Alexandre Quiqueto/Ovidio Lopes da Cruz Netto

Noções Básicas de Administração Pública - Profª Mariela Cardoso

História Geral e História do Brasil - Profª Silvia Helena de Araújo

Geografia Geral e Geografia do Brasil - Profª Letícia Veloso

Atualidades - Profª Mariela Cardoso

PRODUÇÃO/ASSESSORIA

Mari de Barros

Juliana Pivotto

DIAGRAMAÇÃO

Willian Lopes

CAPA

Joel Ferreira dos Santos

SUMÁRIO

Língua Portuguesa.....	1
Matemática.....	23
Noções Básicas de Informática.....	59
Noções Básicas de Administração Pública.....	89
História Geral e História do Brasil.....	93
Geografia Geral e Geografia do Brasil	99
Atualidades.....	103

LÍNGUA PORTUGUESA

1. (PM-SP – SOLDADO PM DE 2ª CLASSE – VUNESP – 2018) Estudos divulgados pela OMS (Organização Mundial da Saúde) mostram que, só no ano de 2010, 50 milhões de pessoas no mundo sobreviveram a acidentes de trânsito com algum traumatismo ou ferida. Se nada for feito, a estimativa é de que teremos 1,9 milhão de mortes no trânsito em 2020 e 2,4 milhões em 2030.

Disponível em: <www.sbotrj.com.br>. (Adaptado.)

O texto estabelece uma relação entre

- a) traumatismo ou ferida e seus tratamentos.
- b) acidentes de trânsito e suas causas.
- c) mortes no trânsito e suas repercussões.
- d) mortes no trânsito e suas formas de prevenção.
- e) acidentes de trânsito e suas consequências.

2. (PM-SP – SOLDADO PM DE 2ª CLASSE – VUNESP – 2018)



Disponível em: <www.sbotrj.com.br>.

O cartaz chama atenção para o fato de que

- a) enviar mensagens pelo celular enquanto se dirige pode provocar acidentes.
- b) é importante que os pais estejam informados sobre o paradeiro dos filhos.
- c) os traumatismos mais graves são resultado de acidentes de trânsito.
- d) dirigir após usar o celular é um comportamento perigoso, que deve ser evitado.
- e) os jovens são as principais vítimas de acidentes de trânsito no Brasil.

3. (PM-SP – SOLDADO PM DE 2ª CLASSE – VUNESP – 2018) O modo verbal em "não digite" expressa um conselho, assim como ocorre com a expressão destacada em:

- a) Como não haverá expediente bancário na sexta-feira, o boleto poderá ser pago na segunda-feira.
- b) O morador não autorizou a entrada do técnico para a medição do consumo de gás no imóvel.
- c) Atenção: não se esqueçam de usar o cinto de segurança também no banco de trás do automóvel.
- d) Pesquisadores canadenses descobriram que o macarrão não induz o ganho de peso.
- e) Os candidatos que não apresentarem um documento com foto não poderão realizar a prova.

4. (PM-SP – SOLDADO PM DE 2ª CLASSE – VUNESP – 2018)

Por que o criador do botão 'curtir' do Facebook apagou as redes sociais do celular

A tecnologia só deve prender nossa atenção nos momentos em que nós queremos, conscientemente, prestar atenção nela. "Em todos os outros casos, deve ficar fora do nosso caminho."

Quem afirma não é um dos críticos tradicionais das redes sociais, mas justamente o executivo responsável pela criação do botão 'curtir' nos primórdios do Facebook, há mais de dez anos.

Depois de perceber que as notificações de aplicativos como o próprio Facebook ocupavam boa parte do seu dia, eram distrativas e o afastavam das relações na vida real, o matemático Justin Rosenstein decidiu apagar todas as redes sociais, aplicativos de e-mails e notícias de seu celular, em busca de mais "presença" no mundo off-line.

Interrogado se ele se arrepende por ter criado a fonte da distração que hoje tanto critica, responde: "Nenhum arrependimento. Sempre que se tenta progredir, haverá consequências inesperadas. Você tem que ter humildade e ter muita atenção no que acontece depois, para fazer mudanças conforme for apropriado".

Ricardo Senra.

Disponível em: <www.bbc.com>. (Adaptado.)

Justin Rosenstein apagou as redes sociais do celular porque elas

- a) geravam discussões pouco edificantes que incitavam a intolerância.
- b) demandavam que ele passasse tempo excessivo envolvido no trabalho.
- c) faziam com que ele se distanciasse das interações na vida não virtual.
- d) exigiam que ele dedicasse muita atenção à resolução de equações.
- e) impulsionaram os negócios e exigiram computadores mais sofisticados.

5. (PM-SP – SOLDADO PM DE 2ª CLASSE – VUNESP – 2018)



Bill Watterson. *O melhor de Calvin*. Disponível em: <<http://cultura.estadao.com.br>>. Acesso em 31 mar. 2018.

Na fala do último quadrinho, o garoto

- a) revela-se entediado diante da falta de opções de diversão.
- b) contraria a afirmação de que sábado é o melhor dia da semana.
- c) mostra-se confuso diante da grande variedade de atividades.
- d) reforça a ideia de que se lançará a diversas distrações.
- e) reduz as oportunidades de diversão a uma única.

6. (PM-SP – SOLDADO PM DE 2ª CLASSE – VUNESP – 2018)

Geovani Martins: como a favela me fez escritor

Nasci em Bangu, Zona Oeste do Rio de Janeiro, em 1991. Em 2004, aos 13 anos de idade, mudei com minha mãe e meus irmãos para o Vidigal, na Zona Sul da cidade. Destaco esses lugares e essas datas para dizer que *O sol na cabeça*, meu primeiro livro, publicado em março de 2018, teve início com o choque provocado por essa mudança. Era tudo diferente: o jeito de falar, de brincar na rua, as regras no futebol, a música, o ritmo das pessoas, até o sol parecia queimar de outra forma. Eu ficava no meio, tentando me adaptar. Depois dessa primeira mudança encarei mais umas tantas; até o ano de 2015 já havia me mudado 17 vezes. A partir desse trânsito constante entre tantas casas, becos, ruas e praças, parti para o livro com a ideia de que a periferia precisa ser tratada sempre como algo em movimento.

A favela hoje é centro, produz cultura e movimentada a economia. O favelado cria e consome como qualquer outra pessoa do planeta. E quando digo consome, não me refiro apenas a *Nike, Adidas, Samsung, Microsoft*. Falo também da cultura pop que faz a cabeça dos jovens do mundo todo, como os filmes e as séries de sucesso mundial. A cultura erudita, como Shakespeare e Machado de Assis, também encontra seus públicos por becos e vielas.

Geovani Martins.

Disponível em: <<https://epoca.globo.com>>. Acesso em 06 mar. 2018. (Adaptado.)

Geovani Martins conta que seu livro é resultado de

- a) sua vivência pessoal em diferentes favelas.
- b) uma imaginação sem paralelo com a realidade.
- c) histórias que leu quando ainda era criança.
- d) uma reescrita de livros de autores eruditos.
- e) leituras de estudos realizados por intelectuais.

7. (PM-SP – SOLDADO PM DE 2ª CLASSE – VUNESP – 2018) Para o autor, consumir

- a) é um benefício pouco acessível a moradores de favelas.
- b) significa produzir itens que classifica como supérfluos.
- c) restringe-se a adquirir produtos produzidos por multinacionais.
- d) envolve comprar produtos industrializados e apreciar arte.
- e) equivale a rejeitar a influência da cultura estrangeira.

8. (PM-SP – SOLDADO PM DE 2ª CLASSE – VUNESP – 2018) Uma das características das favelas para a qual o autor chama a atenção é a

- a) precariedade do saneamento.
- b) desigualdade econômica.
- c) ausência de segurança.
- d) diversidade cultural.
- e) falta de opções de lazer.

9. (PM-SP – SOLDADO PM DE 2ª CLASSE – VUNESP – 2018) Assinale a alternativa em que a concordância das palavras está de acordo com a norma-padrão.

- a) As mortes causadas por acidentes são muito preocupante.
- b) Acidentes de trânsito deixam um grande número de feridos.
- c) São essenciais que os motoristas dirijam com mais cautela.
- d) Foi estabelecido uma estimativa quanto ao número de acidentados.
- e) Poderão haver muitos mais vítimas de trânsito se nada for feito.

10. (PM-SP – SOLDADO PM DE 2ª CLASSE – VUNESP – 2018) Assinale a alternativa em que o sinal indicativo de crase está empregado corretamente.

- a) O garoto gosta de assistir à desenhos animados.
- b) O garoto prefere desenhos animados à filmes ou jogos.
- c) O garoto passou o sábado assistindo à televisão.
- d) O garoto perguntou à seu amigo se ele queria ver TV.
- e) O garoto prefere ver desenhos à brincar na rua.

11. (PM-SP – SOLDADO PM DE 2ª CLASSE – VUNESP – 2018) Estudos divulgados pela OMS (Organização Mundial da Saúde) mostram que, só no ano de 2010, 50 milhões de pessoas no mundo sobreviveram a acidentes de trânsito com algum traumatismo ou ferida. Se nada for feito, a estimativa é de que teremos 1,9 milhão de mortes no trânsito em 2020 e 2,4 milhões em 2030.

Disponível em: www.sbotrj.com.br. (Adaptado.)

A expressão “Se nada for feito” pode ser substituída, sem alteração de sentido e conforme a norma-padrão da língua, por

- a) Apesar de nada ser feito.
- b) Pois que nada foi feito.
- c) Portanto nada fosse feito.
- d) Caso nada seja feito.
- e) Segundo nada seria feito.

12. (PM-SP – SOLDADO PM DE 2ª CLASSE – VUNESP – 2018)

Geovani Martins: como a favela me fez escritor

Nasci em Bangu, Zona Oeste do Rio de Janeiro, em 1991. Em 2004, aos 13 anos de idade, mudei com minha mãe e meus irmãos para o Vidigal, na Zona Sul da cidade. Destaco esses lugares e essas datas para dizer que *O sol na cabeça*, meu primeiro livro, publicado em março de 2018, teve início com o choque provocado por essa mudança.

Era tudo diferente: o jeito de falar, de brincar na rua, as regras no futebol, a música, o ritmo das pessoas, até o sol parecia queimar de outra forma. Eu ficava no meio, tentando me adaptar. Depois dessa primeira mudança encarei mais umas tantas; até o ano de 2015 já havia me mudado 17 vezes. A partir desse trânsito constante entre tantas casas, becos, ruas e praças, parti para o livro com a ideia de que a periferia precisa ser tratada sempre como algo em movimento.

A favela hoje é centro, produz cultura e movimenta a economia. O favelado cria e consome como qualquer outra pessoa do planeta. E quando digo consome, não me refiro apenas a *Nike*, *Adidas*, *Samsung*, *Microsoft*. Falo também da cultura pop que faz a cabeça dos jovens do mundo todo, como os filmes e as séries de sucesso mundial. A cultura erudita, como Shakespeare e Machado de Assis, também encontra seus públicos por becos e vielas.

Geovani Martins.

Disponível em: <<https://epoca.globo.com>>. 06 mar. 2018.

(Adaptado.)

Uma expressão empregada com sentido figurado está destacada em negrito na alternativa:

- a) ... os filmes e as séries de sucesso mundial. (3.º parágrafo)
- b) ... cultura *pop* que faz a cabeça dos jovens... (3.º parágrafo)
- c) ... encontra seus públicos por becos e vielas. (3.º parágrafo)
- d) Destaco esses lugares... (1.º parágrafo)
- e) ... meu primeiro livro, publicado em março de 2018... (1.º parágrafo)

13. (PM-SP – SOLDADO PM DE 2ª CLASSE – VUNESP – 2018)

Por que o criador do botão ‘curtir’ do Facebook apagou as redes sociais do celular

A tecnologia só deve prender nossa atenção nos momentos em que nós queremos, conscientemente, prestar atenção nela. “Em todos os outros casos, deve ficar fora do nosso caminho.”

Quem afirma não é um dos críticos tradicionais das redes sociais, mas justamente o executivo responsável pela criação do botão ‘curtir’ nos primórdios do Facebook, há mais de dez anos.

Depois de perceber que as notificações de aplicativos como o próprio Facebook ocupavam boa parte do seu dia, eram distrativas e o afastavam das relações na vida real, o matemático Justin Rosenstein decidiu apagar todas as redes sociais, aplicativos de e-mails e notícias de seu celular, em busca de mais “presença” no mundo off-line.

Interrogado se ele se arrepende por ter criado a fonte da distração que hoje tanto critica, responde: “Nenhum arrependimento. Sempre que se tenta progredir, haverá consequências inesperadas. Você tem que ter humildade e ter muita atenção no que acontece depois, para fazer mudanças conforme for apropriado”.

Ricardo Senra.

Disponível em: www.bbc.com. (Adaptado.)

A palavra “Interrogado”, destacada ao início do último parágrafo, pode ser substituída, no que se refere à norma-padrão, por

- a) Ao questionarem-o.
- b) Ao perguntarem-lhes.
- c) Ao os perguntarem.
- d) Ao questionarem-nos.
- e) Ao lhe perguntarem.,

14. (PM-SP – SOLDADO PM DE 2ª CLASSE – VUNESP – 2017) Leia o texto de Drauzio Varella:

Passei dois anos escrevendo o livro que acabo de terminar. A tarefa não foi realizada em tempo integral, mas nos momentos livres que ainda me restam.

Há escritores que precisam de silêncio, solidão e ambiente adequado para a prática do ofício. Se fosse esperar por essas condições, teria demorado 20 anos para publicá-lo, tempo de vida de que não disponho, infelizmente. Por força da necessidade, aprendi a escrever em qualquer lugar em que haja espaço para sentar com o computador. Por exemplo, nas salas de embarque durante as viagens de bate e volta que sou obrigado a fazer. Consigo me concentrar apesar das vozes esganiçadas que anunciam os voos, os atrasos, as trocas de portões, a ordem nas filas, os nomes dos retardatários.

Mal o avião levanta voo, puxo a mesinha e abro o computador. Estou nas nuvens, às portas do paraíso celestial.

O telefone não vai tocar, ninguém me cobrará o texto que prometi, a presença na palestra para a qual fui convidado, os e-mails atrasados.

Minha carreira de escritor começou com *"Estação Carandiru"*, publicado quando eu tinha 56 anos. Foi tão grande o prazer de contar aquelas histórias, que senti ódio de mim mesmo por ter vivido meio século sem escrever livros.

A dificuldade vinha da timidez e da autocrítica. Para mim, o que eu escrevesse seria fatalmente comparado com Machado de Assis, Gólgol, Faulkner, Joyce, Pushkin, Turgenev ou Dante Alighieri. Depois do que disseram esses e outros gênios, que livro valeria a pena ser escrito?

A resposta encontrei em *"On Writing"*, livro que reúne entrevistas e textos de Ernest Hemingway sobre o ato de escrever. Em conversa com um estudante, Hemingway diz que, ao escritor de nossos tempos, cabem duas alternativas: escrever melhor do que os grandes mestres já falecidos ou contar histórias que nunca foram contadas.

De fato, se eu escrevesse melhor do que Machado de Assis, poderia recriar personagens como Dom Casmurro ou descrever com mais poesia o olhar de ressaca de Capitu.

Restava a outra alternativa: a vida numa cadeia com mais de 7.000 presidiários, na cidade de São Paulo, nas últimas décadas do século 20, não poderia ser descrita por Tchêkhov, Homero ou pelo padre Antonio Vieira. O médico que atendia pacientes no Carandiru havia dez anos era quem reunia as condições para fazê-lo.

Seguindo o mesmo critério, publiquei outros livros. Às cotoveladas, a literatura abriu espaço em minha agenda.

Há escritores talentosos que se queixam dos tormentos e da angústia inerentes ao processo de criação. Não é o meu caso, escrever só me traz alegria.

Diante da tela do computador, fico atrás das palavras, encontro algumas, apago outras, corrijo, leio e releio até sentir que o texto está pronto. Às vezes, ficou melhor do que eu imaginava. Nesse momento sou invadido por uma sensação de felicidade plena que vai e volta por vários dias.

Disponível em: <www.folha.uol.com.br>. 13 mai. 2017. (Adaptado.)

A palavra destacada em – *Há escritores talentosos que se queixam dos tormentos e da angústia inerentes ao processo de criação. Não é o meu caso, escrever só me traz alegria.* (10.º parágrafo) – é empregada com o sentido de

- a) intrínsecos.
- b) inadequados.
- c) alheios.
- d) diversos.
- e) acrescidos.

15. (PM-SP – SOLDADO PM DE 2ª CLASSE – VUNESP – 2017) Verifica-se o emprego de palavras com sentido figurado em:

- a) Consigo me concentrar apesar das vozes esganiçadas... (3.º parágrafo)
- b) ... aprendi a escrever em qualquer lugar em que haja espaço para sentar com o computador. (3.º parágrafo)
- c) Seguindo o mesmo critério, publiquei outros livros. (10.º parágrafo)
- d) Às cotoveladas, a literatura abriu espaço em minha agenda. (10.º parágrafo)
- e) Há escritores que precisam de silêncio, solidão e ambiente adequado para a prática do ofício. (2.º parágrafo)

16. (PM-SP – ASPIRANTE DA POLÍCIA MILITAR [INTERIOR] – VUNESP – 2017)



Pancho. Disponível em: <www.gazetadopovo.com.br>.

É correto associar o humor da charge ao fato de que

- a) os personagens têm uma autoestima elevada e são otimistas, mesmo vivendo em uma situação de completo confinamento.
- b) os dois personagens estão muito bem informados sobre a economia, o que não condiz com a imagem de criminosos.
- c) o valor dos cosméticos afetará diretamente a vida dos personagens, pois eles demonstram preocupação com a aparência.

MATEMÁTICA

1. (POLÍCIA MILITAR – SP – SOLDADO DA POLÍCIA MILITAR – VUNESP – 2018) Uma pessoa possui um móvel com algumas gavetas, e quer colocar em cada uma delas o mesmo número de blusas. Ao realizar a tarefa percebeu que, colocando 7 blusas em cada gaveta, 3 blusas ficariam de fora, porém, não seria possível colocar 8 blusas em cada gaveta, pois ficariam faltando 2 blusas na última gaveta. O número total de blusas é

- a) 30.
- b) 32.
- c) 36.
- d) 34
- e) 38.

2. (POLÍCIA MILITAR – SP – SOLDADO DA POLÍCIA MILITAR 2ª CLASSE – VUNESP – 2018) Em uma gaveta há 24 canetas, sendo $\frac{1}{6}$ delas verdes, $\frac{3}{8}$ vermelhas, e as demais azuis. O número de canetas azuis que há nessa gaveta é

- a) 7.
- b) 10.
- c) 9.
- d) 8.
- e) 11.

3. (POLÍCIA MILITAR – SP – SOLDADO DA POLÍCIA MILITAR – VUNESP – 2018) Em um depósito há um determinado número de caixas que deverão ser empilhadas, de modo que cada pilha tenha o mesmo número de caixas. Na realização da tarefa foi constatado que, se cada pilha tiver 5 caixas, ou 6 caixas ou 8 caixas, sempre restarão 2 caixas fora das pilhas. O menor número de caixas que deverão ser empilhadas nesse depósito é

- a) 124.
- b) 126.
- c) 120.
- d) 122.
- e) 118.

4. (POLÍCIA MILITAR – SP – SOLDADO DA POLÍCIA MILITAR 2ª CLASSE – VUNESP – 2018) Uma pessoa toma 3 medicamentos diferentes: A, B e C. O medicamento A ela toma a cada 4 horas, o medicamento B, a cada 6 horas, e o medicamento C, a cada 12 horas. Sabendo que às 9 horas do dia 1º de agosto essa pessoa tomou os 3 medicamentos juntos, o próximo dia e horário em que essa pessoa tomará esses 3 medicamentos juntos novamente será em

- a) 1º de agosto, às 24 horas.
- b) 2 de agosto, às 09 horas.
- c) 2 de agosto, às 12 horas.
- d) 1º de agosto, às 21 horas.
- e) 1º de agosto, às 12 horas.

5. (POLÍCIA MILITAR – SP – SOLDADO DA POLÍCIA MILITAR – VUNESP – 2018) Uma loja colocou à venda 80 peças do tipo A e 40 peças do tipo B, e após uma semana havia vendido $\frac{1}{4}$ das peças do tipo A e $\frac{2}{5}$ das peças do tipo B. Em relação ao número total de peças colocadas à venda, o número de peças que não foram vendidas nessa semana representam

- a) $\frac{3}{5}$
- b) $\frac{7}{10}$
- c) $\frac{3}{10}$
- d) $\frac{9}{10}$
- e) $\frac{2}{5}$

6. (POLÍCIA MILITAR – SP – SOLDADO DA POLÍCIA MILITAR – VUNESP – 2018) Uma pessoa tirou 150 fotos com seu celular e excluiu 14 delas. Considerando-se as fotos restantes, a razão entre as fotos de boa qualidade e as fotos de baixa qualidade é $\frac{3}{5}$. Sabendo-se que havia somente fotos de boa ou de baixa qualidade no celular, o número de fotos de boa qualidade era

- a) 62
- b) 68
- c) 57
- d) 51
- e) 73

7. (POLÍCIA MILITAR – SP – SOLDADO DA POLÍCIA MILITAR 2ª CLASSE – VUNESP – 2018) . Em certo dia, em uma empresa onde trabalham 36 pessoas, a razão do número de pessoas resfriadas para o número de pessoas não resfriadas era $\frac{2}{7}$. No dia seguinte, constatou-se que mais uma dessas pessoas estava resfriada. Assim, a razão do número de pessoas resfriadas para o número de pessoas não resfriadas passou a ser

- a) $\frac{1}{2}$
- b) $\frac{3}{7}$
- c) $\frac{4}{7}$
- d) $\frac{1}{4}$
- e) $\frac{1}{3}$

8. (POLÍCIA MILITAR – SP – SOLDADO DA POLÍCIA MILITAR – VUNESP – 2018) Uma máquina trabalhando ininterruptamente 5 horas por dia produz um lote de peças em 3 dias. Para que esse mesmo lote fique pronto em 2 dias, o tempo que essa máquina terá que trabalhar diariamente, de forma ininterrupta, é de

- a) 7 horas e 05 minutos.
- b) 7 horas e 30 minutos.
- c) 7 horas e 50 minutos.
- d) 6 horas e 45 minutos.
- e) 6 horas e 35 minutos.

9. (POLÍCIA MILITAR – SP – SOLDADO DA POLÍCIA MILITAR 2ª CLASSE – VUNESP – 2018) Uma máquina, trabalhando 4 horas por dia, produz um lote de peças em 12 dias. Se essa máquina trabalhasse 6 horas por dia, produziria o mesmo lote de peças em

- a) 7 dias. b) 6 dias.
c) 9 dias. d) 8 dias.
e) 10 dias.

10. (POLÍCIA MILITAR – SP – SOLDADO DA POLÍCIA MILITAR 2ª CLASSE – VUNESP – 2018) Um estudante precisa fazer todos os exercícios de uma lista e, para isso, decidiu que irá resolver, por dia, sempre a mesma quantidade de exercícios. Se ele resolver 6 exercícios por dia, levará 3 dias a menos do que levaria se resolvesse 4 exercícios por dia. O número de exercícios da lista é

- a) 36. b) 72.
c) 12. d) 48.
e) 60.

11. (POLÍCIA MILITAR – SP – SOLDADO DA POLÍCIA MILITAR – VUNESP – 2018) Um determinado produto, se for comprado a prazo, terá 10% de acréscimo sobre o valor da etiqueta, e passará a custar R\$ 93,50. Se esse produto for comprado à vista, terá 20% de desconto sobre o valor da etiqueta. O preço desse produto à vista é

- a) R\$ 79,00
b) R\$ 81,40
c) R\$ 68,00
d) R\$ 72,50
e) R\$ 75,80

12. (POLÍCIA MILITAR – SP – SOLDADO DA POLÍCIA MILITAR 2ª CLASSE – VUNESP – 2018) No início de um dia, em um escritório, havia 120 envelopes disponíveis para uso, dos quais 37,5% eram amarelos, e os demais, brancos. Sabendo que 20% dos envelopes amarelos e 60% dos envelopes brancos foram utilizados no decorrer do dia, então, o número de envelopes não utilizados nesse dia foi

- a) 70.
b) 66.
c) 64.
d) 68.
e) 62.

13. (POLÍCIA MILITAR – SP – ALUNO OFICIAL – VUNESP – 2018) Um comerciante vende todos os seus produtos com acréscimo de 50% sobre o valor de custo. Certo dia, ele fez uma promoção em todos os produtos que vende, concedendo desconto de 10% sobre o preço normal de venda. Nesse dia, esse comerciante vendeu cada unidade de um de seus produtos pelo preço promocional de R\$ 27,00. Sendo assim, o valor unitário de custo desse produto foi

- a) R\$ 22,40. b) R\$ 20,00.
c) R\$ 18,60. d) R\$ 16,00.
e) R\$ 14,80.

14. (POLÍCIA MILITAR – SP – SOLDADO DA POLÍCIA MILITAR – VUNESP – 2018) Uma avenida retilínea terá um trecho de 3,6 km repavimentado, e isso será feito em 3 etapas, conforme mostra a figura.

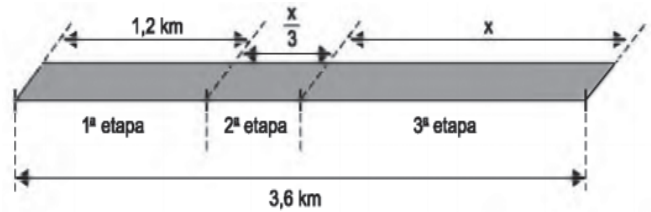


Figura fora de escala

O comprimento do trecho a ser repavimentado na 2ª etapa é de

- a) 600 m. b) 400 m.
c) 1 000 m. d) 800 m.
e) 1 200 m.

15. (POLÍCIA MILITAR – SP – SOLDADO DA POLÍCIA MILITAR 2ª CLASSE – VUNESP – 2018) Em uma caixa há parafusos e pregos, num total de 20 unidades. Sabendo que há 4 parafusos a mais do que o número de pregos, então, o número de parafusos dessa caixa é

- a) 10. b) 6.
c) 8. d) 4.
e) 12.

16. (POLÍCIA MILITAR – SP – SOLDADO DA POLÍCIA MILITAR 2ª CLASSE – VUNESP – 2018) Para participar de uma festa são cobrados um ingresso de R\$ 80,00 e um preço fixo de R\$ 6,00 por qualquer tipo de latinha de bebida. Se uma pessoa gastou nessa festa, com o ingresso e as bebidas, um total de R\$ 134,00, então o número de latinhas de bebida consumidas por ela foi

- a) 8. b) 6.
c) 10. d) 7.
e) 9.

17. (POLÍCIA MILITAR – SP – SOLDADO DA POLÍCIA MILITAR – VUNESP – 2018) Dois amigos foram a uma lanchonete e pediram cinco pães de queijo e dois sucos, e pagaram, no total, R\$ 19,50. Sabendo que o preço de um pão de queijo mais um suco é R\$ 6,00, então, o valor a ser pago na compra de três pães de queijo será

- a) R\$ 9,00.
b) R\$ 9,50.
c) R\$ 7,50.
d) R\$ 8,00.
e) R\$ 8,50,.

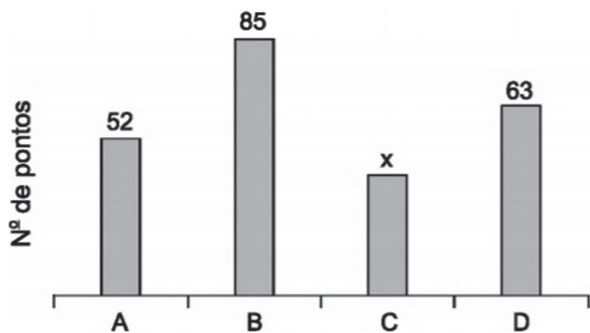
18. (POLÍCIA MILITAR – SP – SOLDADO DA POLÍCIA MILITAR – VUNESP – 2018) 0. A tabela fornece algumas informações sobre o número de vagas abertas e fechadas nos últimos três anos, pelas indústrias de uma determinada cidade.

Ano	Nºde vagas abertas (VA)	Nºde vagas fechadas (VF)	Saldo (VA-VF)
2015	58	X	-395
2016		x-66	
2017			+72
Total	446		-675

O número de vagas fechadas em 2017 foi

- a) 281.
- b) 272.
- c) 268.
- d) 285.
- e) 276.

19. (POLÍCIA MILITAR – SP – SOLDADO DA POLÍCIA MILITAR – VUNESP – 2018) O gráfico apresenta o número de pontos obtidos pelos grupos A, B, C e D, que participaram de uma atividade recreativa.



Sabendo que o número de pontos obtidos pelo grupo A foi 30% maior que o número de pontos obtidos pelo grupo C, então, na média, o número de pontos obtidos por um grupo foi

- a) 55.
- b) 60.
- c) 70.
- d) 65.
- e) 50.

20. (POLÍCIA MILITAR – SP – SOLDADO DA POLÍCIA MILITAR 2ª CLASSE – VUNESP – 2018) Uma pessoa comprou 4 camisetas de valores diferentes, conforme mostra a tabela.

CAMISETA	VALOR
Estampada	R\$ 45,00
Básica	R\$ 30,00
Regata	R\$ 25,00
Polo	?

Sabendo que, em média, o valor de cada camiseta foi R\$ 40,00, a diferença entre o valor da camiseta mais cara e o da mais barata foi

- a) R\$ 20,00.
- b) R\$ 30,00.
- c) R\$ 25,00.
- d) R\$ 35,00.
- e) R\$ 15,00.

21. (POLÍCIA MILITAR – SP – ALUNO OFICIAL – VUNESP – 2018) A tabela apresenta o número de tiros que uma pessoa deu nos 5 dias que treinou em um clube de tiros.

DIA DA SEMANA	NÚMERO DE TIROS
Segunda-feira	42
terça-feira	43
Quarta-feira	38
Quinta – feira	35
Sexta-feira	42

Naquela semana, a média aritmética diária de tiros que essa pessoa deu, nesse clube, foi

- a) 38.
- b) 39.
- c) 40.
- d) 41.
- e) 42.

22. (POLÍCIA MILITAR – SP – SOLDADO DA POLÍCIA MILITAR 2ª CLASSE – VUNESP – 2018) Em uma parede foi colocada uma faixa horizontal com azulejos azuis (A) e azulejos brancos (B), obedecendo à seguinte sequência:



Mantendo sempre essa mesma ordem na colocação dos azulejos, isto é, um azulejo azul seguido por dois azulejos brancos, e sabendo que essa faixa terá 57 azulejos, então, o número de azulejos brancos dessa faixa será

- a) 34.
- b) 38.
- c) 36.
- d) 40.
- e) 42.

23. (POLÍCIA MILITAR – SP – ALUNO OFICIAL – VUNESP – 2018) Em uma estrada, há telefones SOS instalados a cada 3 quilômetros, sendo o primeiro instalado no quilômetro 5. Do quilômetro 21 ao quilômetro 99, o número de telefones instalados nessa estrada é

- a) 32.
- b) 30.
- c) 28.
- d) 26.
- e) 24.

24. (POLÍCIA MILITAR – SP – ALUNO OFICIAL – VUNESP – 2018) Resolvendo-se a equação algébrica $x^3 - 7x^2 + 16x = 10$, identificam-se três raízes distintas. A soma dessas raízes é igual a

- a) 3.
- b) 4.
- c) 5.
- d) 6.
- e) 7.

25. (POLÍCIA MILITAR – SP – ALUNO OFICIAL – VUNESP – 2018) O sistema linear $\begin{cases} x - 3y + 4z = -4 \\ 3x - 7y + 7z = -8 \\ -4x + 6y - z = \alpha - 1 \end{cases}$ terá solução somente quando o valor de α for igual a

- a) 2.
- b) 3.
- c) 4.
- d) 5.
- e) 6.

26. (POLÍCIA MILITAR – SP – ALUNO OFICIAL – VUNESP – 2018) Na igualdade a seguir, estão relacionados o tempo t , necessário para garantir um montante M , na aplicação de um capital C , à taxa de juros compostos i . $\log M - \log C - \log(1 + i)^t = 0$ Aproximando-se $\log 2$ para 0,30 e $\log 3$ para 0,48, uma aplicação de R\$ 2.000,00, à taxa de juros compostos de 20% ao ano, gerará um montante de R\$ 3.000,00 em um período de meses igual a

- a) 25.
- b) 26.
- c) 27.
- d) 28.
- e) 29.

27. (POLÍCIA MILITAR – SP – ALUNO OFICIAL – VUNESP – 2018) Em uma turma com 30 alunos, sendo 13 homens e 17 mulheres, deseja-se escolher, aleatoriamente, um representante, um vice-representante e um suplente, de modo que esse grupo não seja composto somente por homens e não seja composto somente por mulheres. O número total de possibilidades para fazer essa escolha é igual a

- a) 3094.
- b) 7050.
- c) 10919.
- d) 14786.
- e) 18564.,,

28. (POLÍCIA MILITAR – SP – SOLDADO DA POLÍCIA MILITAR – VUNESP – 2018) Uma praça retangular, cujas medidas em metros, estão indicadas na figura, tem 160 m de perímetro.

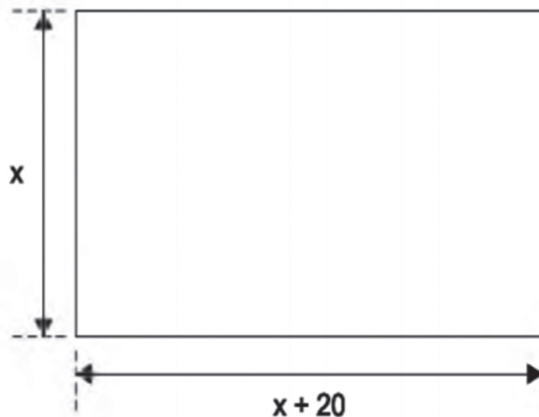


Figura fora de escala

Sabendo que 70% da área dessa praça estão recobertos de grama, então, a área não recoberta com grama tem

- a) 550 m².
- b) 400 m².
- c) 350 m².
- d) 450 m².
- e) 500 m².

29. (POLÍCIA MILITAR – SP – SOLDADO DA POLÍCIA MILITAR 2ª CLASSE – VUNESP – 2018) Um terreno retangular foi dividido em dois lotes, I e II, conforme mostra a figura, sendo que as medidas indicadas estão em metros.

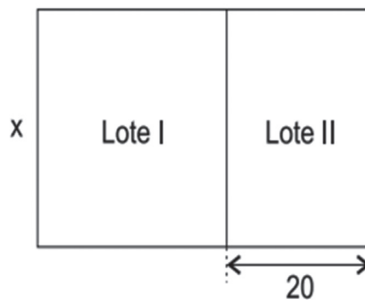


Figura fora de escala

Sabendo que o lote I tem a forma de um quadrado com 900 m² de área, então a área total desse terreno é

- a) 1300 m².
- b) 1400 m².
- c) 1500 m².
- d) 1200 m².
- e) 1100 m².

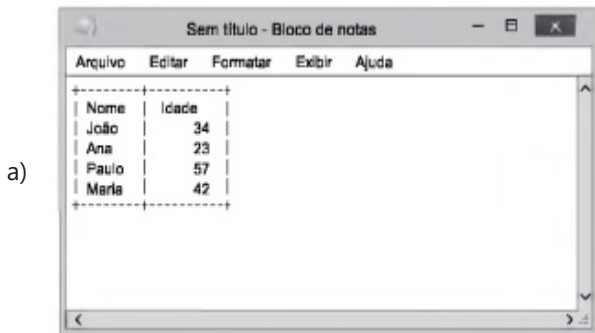
NOÇÕES BÁSICAS DE INFORMÁTICA

1. (PM-SP – SOLDADO DA POLÍCIA MILITAR – MÉDIO – VUNESP – 2018) Tem-se a seguinte planilha, criada no Microsoft Excel 2010, em sua configuração original.

	A	B	C
1	Nome	Idade	
2	João	34	
3	Ana	23	
4	Paulo	57	
5	Maria	42	
6			

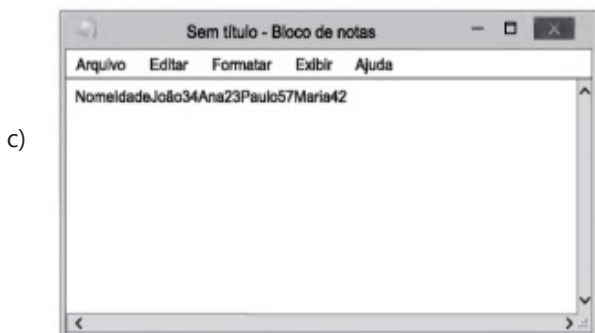
Um usuário selecionou as células A1 até B5 e pressionou CTRL+C. Em seguida, abriu o Bloco de Notas do Microsoft Windows 10, em sua configuração padrão, e pressionou CTRL+V.

Assinale a alternativa que indica corretamente o resultado.

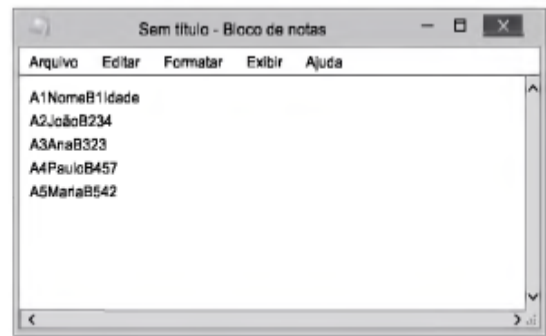


b)

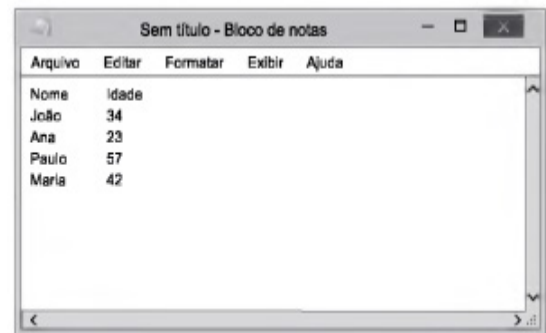
	A	B	C	D	E
1	Nome	Ricardo da Silva	Paulo de Almeida	Inácio de Souza	
2	Cidade	São Paulo	Guarulhos	Osasco	
3					



d)



e)



2. (PM-SP – SOLDADO DA POLÍCIA MILITAR – MÉDIO – VUNESP – 2018) Tem-se a seguinte planilha criada no Microsoft Excel 2010, em sua configuração original.

	A	B
1	A	
2		1
3		2
4		3
5	B	
6		4
7		5
8		6
9	C	
10	D4	
11		

Assinale a alternativa que indica o resultado correto da fórmula =SOMA(A1:A10), a ser inserida na célula A11.

- a) 0
- b) 25
- c) 21
- d) 6
- e) 15

3. (PM-SP – SOLDADO DA POLÍCIA MILITAR – MÉDIO – VUNESP – 2018) Tem-se a seguinte planilha criada no Microsoft Excel 2010, em sua configuração padrão, na qual o cursor do mouse está posicionado no título das colunas, entre as colunas A e B, conforme a imagem a seguir.

	A	B	C
1	Nome	Cidade	
2	Ricardo da	São Paulo	
3	Paulo de A	Guarulhos	
4	Inácio de S	Osasco	
5			

Assinale a alternativa que exibe o resultado da ação, quando o usuário dá um duplo-clique com o botão principal do mouse.

a)

	A	B	C	D	E
1	Nome	Ricardo da Silva	Paulo de Almeida	Inácio de Souza	
2	Cidade	São Paulo	Guarulhos	Osasco	
3					

b)

	A	B	C
1	Nome	Cidade	
2	Ricardo da Silva	São Paulo	
3	Paulo de Almeida	Guarulhos	
4	Inácio de Souza	Osasco	
5			

c)

	A	B	C
1	Cidade	Nome	
2	São Paulo	Ricardo da Silva	
3	Guarulhos	Paulo de Almeida	
4	Osasco	Inácio de Souza	
5			

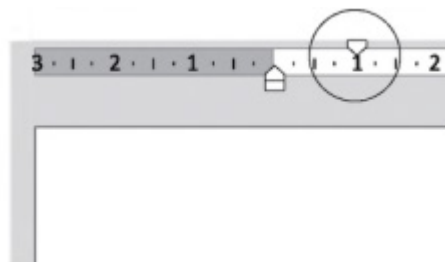
d)

	A	B	C
1			
2			
3			
4			
5			

e)

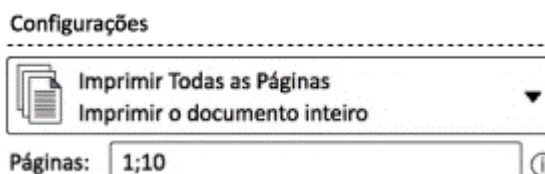
	A	B	C
1	Nome	Cidade	
2	Inácio de S	Osasco	
3	Paulo de A	Guarulhos	
4	Ricardo da	São Paulo	
5			

4. (PM-SP – SOLDADO DA POLÍCIA MILITAR – MÉDIO – VUNESP – 2018) A partir de um novo documento, totalmente vazio, que está sendo editado com o Microsoft Word 2010, em sua configuração original, assinale a alternativa correta a respeito da formatação que será aplicada ao texto, quando o marcador superior da régua fica mais à direita do que o marcador inferior, como é exibido, por meio de um círculo, em destaque na imagem a seguir.



- Apenas as linhas seguintes à primeira linha, de todos os parágrafos, são recuadas.
- Todas as linhas, de todos os parágrafos, são recuadas.
- Apenas a primeira linha, de todos os parágrafos, é recuada.
- Apenas a primeira linha, somente do primeiro parágrafo, é recuada.
- Apenas as linhas seguintes à primeira linha, somente do primeiro parágrafo, são recuadas.

5. (PM-SP – SOLDADO DA POLÍCIA MILITAR – MÉDIO – VUNESP – 2018) Em um documento de 10 páginas, editado no Microsoft Word 2010, em sua configuração padrão, um usuário preencheu o campo Páginas da janela de configurações de impressão com o conteúdo da imagem a seguir.



Assinale a alternativa que indica quais páginas serão impressas.

- Páginas 1 e 10, apenas.
- Páginas 2 até 9, apenas.
- Página 10, apenas.
- Todas as páginas, de 1 até 10.
- Página 1, apenas.

6. (PM-SP – SOLDADO DA POLÍCIA MILITAR – MÉDIO – VUNESP – 2018) Ao preparar uma apresentação no Microsoft PowerPoint 2010, em sua configuração original, um usuário adicionou uma AutoForma no slide 1. Ao pressionar F5 e iniciar o modo de exibição Apresentação de Slides, essa AutoForma deve ser exibida imediatamente, mas precisa ser configurada com uma animação do tipo _____, para que desapareça.

Assinale a alternativa que preenche corretamente a lacuna do texto.

- a) Apagar
- b) Transição
- c) Ênfase
- d) Saída
- e) Miniaturizar

7. (PM-SP – SOLDADO DA POLÍCIA MILITAR – CFSD – VUNESP – 2017) No Microsoft Windows 7, em sua configuração original, uma formatação possível no aplicativo Bloco de Notas, acessada a partir do menu Formatar, é

- a) Marcadores.
- b) Quebra Automática de Linha.
- c) Colunas.
- d) Tabela.
- e) Centralizar.

8. (PM-SP – SOLDADO DA POLÍCIA MILITAR – CFSD – VUNESP – 2017) Tem-se o seguinte texto editado no Microsoft Word 2010, em sua configuração padrão, com o recurso de marcas de parágrafo ativado.



Após uma ação, o texto ficou com a seguinte aparência.



Assinale a alternativa que descreve corretamente a ação aplicada.

- a) Foi pressionado um SHIFT entre as letras.
- b) Foi pressionado um TAB entre as letras.
- c) Foi aplicado um espaçamento entre caracteres, do tipo Expandido.
- d) Foram incluídos 2 espaços em branco entre as letras.
- e) Foi pressionado um ENTER entre as letras.

9. (PM-SP – SOLDADO DA POLÍCIA MILITAR – CFSD – VUNESP – 2017) Tem-se a seguinte planilha, criada no Microsoft Excel 2010, em sua configuração padrão.

	A	B	C	D	E
1	1	2	3	4	
2	5	6	7	8	
3	9	10	11	12	
4					

Assinale a alternativa que contém o resultado da fórmula =SOMASE(A1:D3;"> 12"), aplicada na célula A4.

- a) 72
- b) 75
- c) 1
- d) 10
- e) 0

10. (PM-SP – SOLDADO DA POLÍCIA MILITAR – CFSD – VUNESP – 2017) No Microsoft PowerPoint 2010, em sua configuração original, um slide mestre é

- a) um slide configurado para ser o modelo de todos os slides de uma apresentação.
- b) o último slide de uma apresentação.
- c) o primeiro slide da apresentação.
- d) um conjunto de anotações que ficam visíveis apenas para o apresentador, durante uma apresentação.
- e) uma exibição pequena do próximo slide que fica visível apenas para o apresentador, durante uma apresentação.

11. (PM-SP – SOLDADO DA POLÍCIA MILITAR – MÉDIO – VUNESP – 2018) Miranda e Caio receberam, cada um, uma mensagem de correio eletrônico usando o Microsoft Outlook 2010, em sua configuração original, com as seguintes características:

De: aurelio@vunesp.com.br

Para: miranda@vunesp.com.br, caio@vunesp.com.br

Os usuários Miranda e Caio responderam ao mesmo tempo a mensagem que receberam, usando a opção Responder a Todos, sem qualquer alteração nos campos de destinatários da mensagem.

Considerando apenas essa última ação de Miranda e Caio, assinale a alternativa que indica quantas mensagens Aurelio, Miranda e Caio receberão, respectivamente.

- a) 1, 2, 2
- b) 2, 0, 0
- c) 2, 1, 1
- d) 2, 2, 2
- e) 1, 1, 1

12. (PM-SP – SOLDADO DA POLÍCIA MILITAR – CFSD – VUNESP – 2017) O usuário Renato preparou uma mensagem de correio eletrônico usando o Microsoft Outlook 2010, em sua configuração padrão, e preencheu seu próprio endereço no campo Para. Ao clicar em Enviar, o Outlook

- a) envia a mensagem, que não fica armazenada na pasta Itens Enviados, e fica armazenada apenas na pasta Caixa de Entrada.
- b) grava a mensagem na pasta Rascunhos.
- c) move a mensagem para a pasta Lixeira.
- d) envia a mensagem, que fica armazenada em ambas as pastas E-mails Enviados e Caixa de Entrada.
- e) não envia a mensagem porque o destinatário e o remetente são os mesmos.

13. (IPRESB – AGENTE PREVIDENCIÁRIO – VUNESP – 2017) O seguinte e-mail foi encaminhado para vários destinatários, conforme ilustra a figura, convidando para uma reunião.

Para...	paulo_ramos; rafaela_silva; jose_carvalho
Cc...	joao_bravo; silvio_jose; pamela_costa
Cco...	antonio_freire; daniela_verde; flavia_oliveira; pamela_costa; jose_carvalho
Assunto:	Reunião

Prezados, bom dia.
Segue um convite de reunião a ser realizada no conjunto 34-B do office-Center, data: 31/08/2017, horário a combinar.

Abraços

Saulo da Penha

E-mail: saulo_da_penha

Assinale a alternativa que só apresenta os e-mails de quem recebeu o e-mail em duplicata, convidando para a reunião.

- a) paulo_ramos e pamela_costa.
- b) antonio_freire e flavia_oliveira.
- c) pamela_costa e jose_carvalho.
- d) jose_carvalho e silvio_jose.
- e) pamela_costa e flavia_oliveira.

14. (PMS – ESCRITURÁRIO – VUNESP – 2018) Na Internet, a função do _____ em uma URL é indicar que o site é seguro para navegação, ou seja, que será acessado utilizando um protocolo de transferência de hipertexto considerado seguro.

Assinale a alternativa contendo a informação que preenche corretamente a lacuna do enunciado.

- a) prefixo http://
- b) prefixo https://
- c) sufixo .edu.br
- d) sufixo .com.br
- e) sufixo .org.br

1. (PM-SP – ASPIRANTE DA POLÍCIA MILITAR – VUNESP – 2018). Segundo o Estatuto dos Funcionários Públicos Civis do Estado de São Paulo (Lei nº 10.261/68), o funcionário que adquirir materiais em desacordo com as disposições legais e regulamentares

- a) deverá indenizar o erário até o limite de seus vencimentos anuais, e será responsabilizado civil e criminalmente pelos seus atos.
- b) restituirá em dobro o valor dos prejuízos causados ao poder público, e responderá processo administrativo disciplinar, podendo sofrer a pena de demissão do serviço público.
- c) responderá pelos seus atos somente se houve efetivo prejuízo aos cofres públicos, devendo sua eventual responsabilidade ser apurada em processo criminal.
- d) terá que justificar a compra perante seu superior hierárquico, que poderá isentá-lo de pena se entender que o funcionário não agiu com dolo ou culpa.
- e) será responsabilizado pelo respectivo gasto, sem prejuízo das penalidades disciplinares cabíveis, podendo-se proceder ao desconto no seu vencimento ou remuneração.

2. (PM-SP - ASPIRANTE DA POLÍCIA MILITAR - VUNESP – 2017) Determinado cidadão pretende ter acesso a um processo administrativo em curso na Polícia Militar do Estado de São Paulo, que se encontra em meio físico e não possui nenhuma restrição de acesso. Nesse caso, deverá o Serviço de Informações ao Cidadão da Polícia Militar, em cumprimento ao previsto na Lei Federal nº 12.527/11,

- a) indeferir o pedido, porque em se tratando de processo em andamento a consulta pode tumultuar o feito.
- b) comunicar a data e o local para que o cidadão possa realizar a consulta pessoalmente, em prazo não superior a 20 (vinte) dias.
- c) extrair cópia integral dos autos e comunicar a data e o local em que as cópias de consulta podem ser retiradas, sem nenhum custo para o cidadão.
- d) extrair cópia integral dos autos e comunicar a data e o local em que as cópias de consulta podem ser retiradas, podendo ser o custo da reprodução cobrado do cidadão.
- e) comunicar ao cidadão o prazo estimado para que se encerre o procedimento em curso, quando, então, o feito poderá ser disponibilizado para consulta.

3. (PM-SP – ASPIRANTE DA POLÍCIA MILITAR – VUNESP – 2017) Suponha-se que um Aluno-Oficial do Bacharelado em Ciências Policiais de Segurança e Ordem Pública esteja praticando agiotagem e tal fato seja levado ao conhecimento da Polícia Militar do Estado de São Paulo. Nos termos do Regulamento Disciplinar da Polícia Militar, é correto afirmar que o Aluno-Oficial

- a) praticou transgressão disciplinar leve.
- b) praticou transgressão disciplinar média.
- c) praticou transgressão disciplinar grave.
- d) praticou transgressão disciplinar gravíssima.
- e) não praticou transgressão disciplinar, porque ao Aluno-Oficial não é aplicado o Regulamento Disciplinar.

4. (PM-SP – ASPIRANTE DA POLÍCIA MILITAR – VUNESP – 2017) A Polícia Militar do Estado de São Paulo interessa-se por um equipamento novo introduzido no mercado, que auxilia na dispersão de multidões e possui caráter não letal. Esse equipamento é produzido unicamente por uma empresa nos Estados Unidos, que é a detentora de sua patente. Representantes da Polícia Militar Estadual entram em contato com a empresa, pois desejam conhecer melhor o equipamento, para o adquirir, caso ele realmente seja adequado às ações da Corporação. A empresa dos Estados Unidos oferece pagar o valor necessário para que três representantes da Polícia Militar realizem tal viagem. O pagamento seria feito diretamente a cada um desses servidores militares, no valor suficiente apenas para pagamento de passagem aérea, hotel e alimentação, pelo período de 3 (três) dias. Nos termos do Estatuto dos Funcionários Públicos Civis do Estado de São Paulo, o que é oferecido pela empresa estadunidense

- a) não deve ser aceito, pois é vedado receber estímulos de firmas fornecedoras, no País, ou no estrangeiro, mesmo quando em missão referente à compra de material.
- b) deve ser aceito, pois há um legítimo interesse da Corporação, e o Estatuto não prevê formas de pagamento de tais despesas, como diárias ou ajuda de custo.
- c) não deve ser aceito, pois é vedado aceitar representação de Estado estrangeiro, sem autorização do Presidente da República.
- d) deve ser aceito, pelo princípio da supremacia do interesse público, caso o Estado de São Paulo esteja desprovido dos recursos necessários e suficientes a tal viagem.
- e) não deve ser aceito, pois o Estatuto é claro ao estatuir que, nas aquisições a serem efetuadas, deve ser dada preferência ao produto nacional.

5. (PM-SP – ASPIRANTE DA POLÍCIA MILITAR – VUNESP – 2017) Propõe-se a seguinte situação hipotética: o Governador do Estado de São Paulo passa a gastar os recursos públicos financeiros existentes em ações de interesse público, porém diferentes daquelas que estão previstas na lei orçamentária daquele exercício, o que se caracteriza como a realização de despesas não autorizadas. Considerando apenas o disposto na Constituição do Estado de São Paulo, o Governador estaria cometendo ato

- a) indiferente, pois sobre o tema nada prevê a Constituição Estadual.
- b) passível de caracterização como crime comum.
- c) passível de caracterização como ato de improbidade administrativa.
- d) passível de caracterização como ato lesivo à Administração Pública Nacional.
- e) passível de caracterização como crime de responsabilidade.

6. (PM-SP – ASPIRANTE DA POLÍCIA MILITAR – VUNESP – 2017) Fala-se muito, atualmente, sobre a chamada questão “da judicialização da saúde”, que pode ser brevemente resumida como o manejo de ações judiciais para obrigar o Estado, aqui entendido de forma ampla, a cumprir determinações judiciais para atendimento de demandas como o fornecimento de medicamentos e a realização de procedimentos cirúrgicos. Afirma-se que o fundamento constitucional para tais ações é o direito

- a) à proteção estatal, calcada no dever solidário de todos os entes federativos.
- b) à seguridade social, com universalidade da cobertura e do atendimento.
- c) à assistência social, prevista na Constituição Federal como um direito social.
- d) à saúde, previsto na Constituição Federal como um direito social.
- e) à saúde, previsto na Constituição Federal como um direito individual. CF/88:

GABARITO COMENTADO

1.

Em “a”, “b”, “c” e “d”:

Artigo 245 - O funcionário é responsável por todos os prejuízos que, nessa qualidade, causar à Fazenda Estadual, por dolo ou culpa, devidamente apurados.

Parágrafo único - Caracteriza-se especialmente a responsabilidade:

I - pela sonegação de valores e objetos confiados à sua guarda ou responsabilidade, ou por não prestar contas, ou por não as tomar, na forma e no prazo estabelecidos nas leis, regulamentos, regimentos, instruções e ordens de serviço;

II - pelas faltas, danos, avarias e quaisquer outros prejuízos que sofrerem os bens e os materiais sob sua guarda, ou sujeitos a seu exame ou fiscalização;

III - pela falta ou inexatidão das necessárias averbações nas notas de despacho, guias e outros documentos da receita, ou que tenham com eles relação; e

IV - por qualquer erro de cálculo ou redução contra a Fazenda Estadual.

Artigo 247 - Nos casos de indenização à Fazenda Estadual, o funcionário será obrigado a repor, de uma só vez, a importância do prejuízo causado em virtude de alcance, desfalque, remissão ou omissão em efetuar recolhimento ou entrada nos prazos legais.

Artigo 248 - Fora dos casos incluídos no artigo anterior, a importância da indenização poderá ser descontada do vencimento ou remuneração não excedendo o desconto à 10ª (décima) parte do valor destes.

Parágrafo único - No caso do item IV do parágrafo único do art. 245, não tendo havido má-fé, será aplicada a pena de repreensão e, na reincidência, a de suspensão.

Artigo 249 - Será igualmente responsabilizado o funcionário que, fora dos casos expressamente previstos nas leis, regulamentos ou regimentos, cometer a pessoas estranhas às repartições, o desempenho de encargos que lhe competirem ou aos seus subordinados.

Em “e”:

Artigo 246 - O funcionário que adquirir materiais em desacordo com disposições legais e regulamentares, será responsabilizado pelo respectivo custo, sem prejuízo das penalidades disciplinares cabíveis, podendo-se proceder ao desconto no seu vencimento ou remuneração.”

GABARITO OFICIAL: E

2.

Em “a”, “c”, “d” e “e”:

Art. 11. O órgão ou entidade pública deverá autorizar ou conceder o acesso imediato à informação disponível.”

§ 1º Não sendo possível conceder o acesso imediato, na forma disposta no caput, o órgão ou entidade que receber o pedido deverá, em prazo não superior a 20 (vinte) dias:

I - comunicar a data, local e modo para se realizar a consulta, efetuar a reprodução ou obter a certidão;

II - indicar as razões de fato ou de direito da recusa, total ou parcial, do acesso pretendido; ou

III - comunicar que não possui a informação, indicar, se for do seu conhecimento, o órgão ou a entidade que a detém, ou, ainda, remeter o requerimento a esse órgão ou entidade, cientificando o interessado da remessa de seu pedido de informação.

§ 2º O prazo referido no § 1º poderá ser prorrogado por mais 10 (dez) dias, mediante justificativa expressa, da qual será cientificado o requerente.

§ 3º Sem prejuízo da segurança e da proteção das informações e do cumprimento da legislação aplicável, o órgão ou entidade poderá oferecer meios para que o próprio requerente possa pesquisar a informação de que necessitar.

§ 4º Quando não for autorizado o acesso por se tratar de informação total ou parcialmente sigilosa, o requerente deverá ser informado sobre a possibilidade de recurso, prazos e condições para sua interposição, devendo, ainda, ser-lhe indicada a autoridade competente para sua apreciação.

§ 5º A informação armazenada em formato digital será fornecida nesse formato, caso haja anuência do requerente.

§ 6º Caso a informação solicitada esteja disponível ao público em formato impresso, eletrônico ou em qualquer outro meio de acesso universal, serão informados ao requerente, por escrito, o lugar e a forma pela qual se poderá consultar, obter ou reproduzir a referida informação, procedimento esse que desonerará o órgão ou entidade pública da obrigação de seu fornecimento direto, salvo se o requerente declarar não dispor de meios para realizar por si mesmo tais procedimentos.

Em "b": "Art. 10. Qualquer interessado poderá apresentar pedido de acesso a informações aos órgãos e entidades referidos no art. 1º desta Lei, por qualquer meio legítimo, devendo o pedido conter a identificação do requerente e a especificação da informação requerida."

§ 1º Não sendo possível conceder o acesso imediato, na forma disposta no caput, o órgão ou entidade que receber o pedido deverá, em prazo não superior a 20 (vinte) dias:

GABARITO OFICIAL: B

3.

Em "a", "b", "d" e "e": Art. 13 – "As transgressões disciplinares são classificadas de acordo com sua gravidade em graves (G), médias (M) e leves (L)."

Parágrafo único - As transgressões disciplinares são:

Em "c": 25 - fazer, diretamente ou por intermédio de outrem, agiotagem ou transação pecuniária envolvendo assunto de serviço, bens da administração pública ou material cuja comercialização seja proibida (G);

GABARITO OFICIAL: C

4.

Em "a": Art. 243 - É proibido ainda, ao funcionário:

X - receber estipêndios de firmas fornecedoras ou de entidades fiscalizadas, no País, ou no estrangeiro, mesmo quando estiver em missão referente à compra de material ou fiscalização de qualquer natureza;

Em "b", "c", "d" e "e":

Art. 243 - É proibido ainda, ao funcionário:

I - fazer contratos de natureza comercial e industrial com o Governo, por si, ou como representante de outrem;

II - participar da gerência ou administração de empresas bancárias ou industriais, ou de sociedades comerciais, que mantenham relações comerciais ou administrativas com o Governo do Estado, sejam por este subvencionadas ou estejam diretamente relacionadas com a finalidade da repartição ou serviço em que esteja lotado;

III - requerer ou promover a concessão de privilégios, garantias de juros ou outros favores semelhantes, federais, estaduais ou municipais, exceto privilégio de invenção própria;

IV - exercer, mesmo fora das horas de trabalho, emprego ou função em empresas, estabelecimentos ou instituições que tenham relações com o Governo, em matéria que se relacione com a finalidade da repartição ou serviço em que esteja lotado;

V - aceitar representação de Estado estrangeiro, sem autorização do Presidente da República;

VI - comerciar ou ter parte em sociedades comerciais nas condições mencionadas no item II deste artigo, podendo, em qualquer caso, ser acionista, quotista ou comanditário;

VII - incitar greves ou a elas aderir, ou praticar atos de sabotagem contra o serviço público;

VIII - praticar a usura;

IX - constituir-se procurador de partes ou servir de intermediário perante qualquer repartição pública, exceto quando se tratar de interesse de cônjuge ou parente até segundo grau;

X - receber estipêndios de firmas fornecedoras ou de entidades fiscalizadas, no País, ou no estrangeiro, mesmo quando estiver em missão referente à compra de material ou fiscalização de qualquer natureza;

XI - valer-se de sua qualidade de funcionário para desempenhar atividade estranha às funções ou para lograr, direta ou indiretamente, qualquer proveito; e

XII - fundar sindicato de funcionários ou deles fazer parte.

Parágrafo único — Não está compreendida na proibição dos itens II e VI deste artigo, a participação do funcionário em sociedades em que o Estado seja acionista, bem assim na direção ou gerência de cooperativas e associações de classe, ou como seu sócio.

Art. 244 - É vedado ao funcionário trabalhar sob as ordens imediatas de parentes, até segundo grau, salvo quando se tratar de função de confiança e livre escolha, não podendo exceder a 2 (dois) o número de auxiliares nessas condições.

GABARITO OFICIAL: A

5.

Em "a", "b", "c" e "d": Atos de improbidade administrativa estão dispostos na Lei nº 8.429/1992, podendo atingir:

- funcionários da administração direta ou indireta;
- empresa incorporada ao patrimônio público;
- entidade cuja criação ou custeio o erário haja concorrido ou concorra com mais de 50% do patrimônio ou receita anual.

▪ conforme art. 5º da Lei nº 8429/1992: ocorrendo lesão ao patrimônio público por ação ou omissão, através de conduta dolosa ou culposa do agente ou de terceiro, haverá ressarcimento integral do dano.

O art. 9º, da Lei nº 8.429/1992 enumera os atos de improbidade que importam enriquecimento ilícito;

O art. 10, da Lei nº 8.429/1992 enumera os atos de improbidade que importam prejuízo ao erário;

Atenção ao art. 10-A (constitui ato de improbidade administrativa conceder, aplicar ou manter benefício financeiro ou tributário em contrariedade com o disposto no art. 8 - A, § 1º, da Lei Complementar nº 116/2003)*;

O art. 11, da Lei nº 8.429/1992 enumera atos que atentam contra os princípios da administração pública.

Penas: (dispostas no art. 12, da Lei nº 8.429/1992);

Para os atos de improbidade que importam enriquecimento ilícito haverá:

suspensão dos direitos políticos de 8 a 10 anos; multa de até 3vz o valor do enriquecimento; proibição de contratar com o poder público pelo prazo de 10 anos;

Para os atos de improbidade que importam prejuízo ao erário haverá:

suspensão dos direitos políticos de 5 a 8 anos; multa de até 2 vezes o valor do dano; proibição de contratar com o poder público pelo prazo de 5 anos;

Para atos de improbidade que atentam contra os princípios da administração pública haverá:

suspensão dos direitos políticos de 3 a 5 anos; multa de até 100vz o valor da remuneração percebida pelo agente; proibição de contratar com o poder público por 3 anos;

Para o caso do agente incorrer no art. 10-A haverá:

suspensão dos direitos políticos de 5 a 8 anos; e multa de até 3vz o valor do benefício.

Outros artigos importantes da Lei nº 8.429/1992, para memorizar e entender os atos de improbidade: art. 8º; art. 17 "caput" e § 1º; art. 20; art.21; art. 22.

O art. 23 trata da prescrição dos atos de improbidade administrativa.

Regra geral: prescreve 5 anos contados do instante em que o réu deixa o cargo, emprego, função ou mandato que titulariza.

Exceção: Imprescritibilidade para pedidos de ressarcimento conforme art. 37, § 5º, da CF/1988.

Em "e": Art. 4º São crimes de responsabilidade os atos do Presidente da República que atentarem contra a Constituição Federal, e, especialmente, contra:

I - A existência da União:

II - O livre exercício do Poder Legislativo, do Poder Judiciário e dos poderes constitucionais dos Estados;

III - O exercício dos direitos políticos, individuais e sociais:

IV - A segurança interna do país:

V - A probidade na administração;

VI - A lei orçamentária;

VII - A guarda e o legal emprego dos dinheiros públicos;

VIII - O cumprimento das decisões judiciais (Constituição, art. 89).

Art. 74. Constituem crimes de responsabilidade dos governadores dos Estados ou dos seus Secretários, quando por eles praticados, os atos definidos como crimes nesta lei.

GABARITO OFICIAL: E

6.

Em "a", "b", "c" e "e":

Direitos sociais (Art. 6º CF/1988)

Alimentação

Trabalho

Educação

Moradia

Saúde

Lazer

Previdência Social

Desamparo

Maternidade

Infância

Segurança

Em "d": Art. 6º São direitos sociais a educação, a saúde, a alimentação, o trabalho, a moradia, o transporte, o lazer, a segurança, a previdência social, a proteção à maternidade e à infância, a assistência aos desamparados, na forma desta Constituição. (Redação dada pela Emenda Constitucional nº 90, de 2015)

GABARITO OFICIAL: D

GEOGRAFIA GERAL E GEOGRAFIA DO BRASIL

1. (PM-SP – SOLDADO DA POLÍCIA MILITAR – VUNESP – 2018) Nestas últimas décadas, o processo de globalização econômica esteve atrelado ao comércio internacional. Comprova esse fato

- a) a expansão do pleno emprego no setor industrial nos países considerados emergentes.
- b) o aumento da independência econômica dos países produtores e exportadores de commodities.
- c) o protecionismo, prática comum, sendo um entrave à circulação de mercadorias.
- d) a crescente pressão dos países ricos em enfraquecer os blocos econômicos.
- e) o enfraquecimento de países que defendem relações comerciais bi ou multilaterais.

2. (PM-SP – SOLDADO DA POLÍCIA MILITAR – VUNESP – 2018) Observe o mapa para responder à questão.



<<https://planetevivante.files.wordpress.com>. Acesso em 01.04.2018>

A leitura do mapa e os conhecimentos sobre as atuais condições socioeconômicas mundiais permitem afirmar que é provável que, em 2020,

- a) os países mais populosos e urbanizados do mundo deverão manter grande suprimento de água potável.
- b) os países com forte crescimento demográfico apresentarão grande disponibilidade de recursos hídricos.
- c) as cidades com maior carência de fornecimento de água potável estarão localizadas nos países subdesenvolvidos.
- d) as áreas mais desenvolvidas correrão sérios riscos de carência de água, principalmente para as atividades econômicas.
- e) as cidades mundiais com forte influência econômica deverão apresentar situações críticas de abastecimento de água potável.

3. (PM-SP – SOLDADO DA POLÍCIA MILITAR – VUNESP – 2017) Fundada em 1957, por seis países, a União Europeia completa, neste ano de 2017, 60 anos, contando com 28 países membros, embora o Reino Unido esteja em processo de saída do bloco, que é o mais antigo e estruturado do mundo. No entanto, apesar da longevidade e poderio econômico, pode-se citar como um dos problemas enfrentados pela União Europeia

- a) A perda de mercados consumidores devido à concorrência com países emergentes do Brics, como a Índia e a África do Sul.
- b) As diferenças socioeconômicas entre os países membros, o que provoca a forte hegemonia da rica Alemanha sobre vários países.
- c) As políticas sociais atualmente em declínio devido à entrada de imigrantes, principalmente nos antigos países comunistas.
- d) A atual perda de importância econômica e política da moeda única, o Euro, frente a moedas fortes como o dólar e o iene japonês.
- e) A deficiência de recursos naturais, o que gera a necessidade de importações de produtos básicos para a indústria, como o ferro e o carvão.

4. (PM-SP – SOLDADO DA POLÍCIA MILITAR – VUNESP – 2017) A questão está relacionada à imagem e ao texto a seguir



(<http://sistemasinter.cetesb.sp.gov.br/Ar/anexo.jpg>)

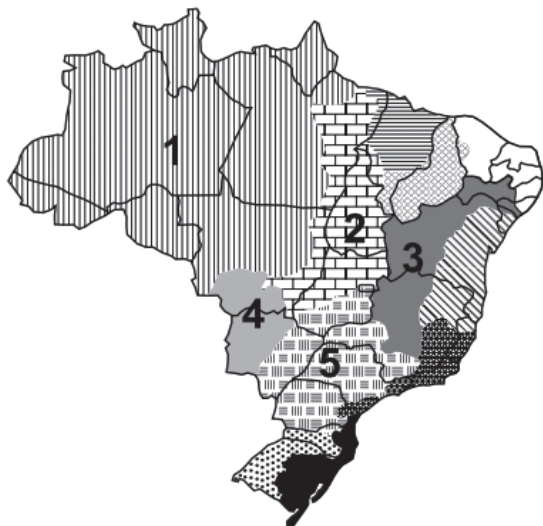
Esse fenômeno atmosférico é comum nos grandes centros urbanos industrializados, principalmente naqueles localizados em áreas cercadas por serras ou montanhas. Esse processo ocorre quando o ar frio (mais denso) é impedido de circular por uma camada de ar quente (menos denso), dificultando a circulação do ar.

Trata-se

- a) do efeito estufa.
- b) da ilha de calor.
- c) do efeito Coriolis.
- d) da inversão térmica.
- e) do *fog*.

5. (PM-SP – SOLDADO DA POLÍCIA MILITAR – VUNESP – 2017) A questão está relacionada ao mapa apresentado a seguir.

Brasil – Bacias hidrográficas



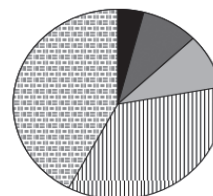
(ANA – Agência Nacional de Águas)

Assinale a alternativa que identifica corretamente uma das bacias hidrográficas brasileiras.

- a) A bacia 2 abrange uma importante reserva de minérios, reconhecida internacionalmente. Como grande parte dos solos da bacia não são férteis, há pequena atividade agrícola, mas, recentemente, observa-se o avanço da pecuária destinada à produção de leite.
- b) A bacia 3 tem grande importância histórica; seu rio principal atravessa área de clima semiárido. A agricultura é uma das mais importantes atividades econômicas, com destaque para a fruticultura. O potencial hidrelétrico da bacia é aproveitado por várias usinas.
- c) A bacia 5 ocupa área com relevo pouco ondulado, o que possibilita a existência de vários rios navegáveis, mas com pequeno potencial hidrelétrico. A área da bacia concentra a maior parte da população nas porções norte e oeste, onde estão as principais cidades.
- d) A bacia 1 destaca-se por apresentar elevada densidade demográfica, fato que provoca impacto ambiental, principalmente nas áreas próximas às áreas metropolitanas; os modernos cultivos de grãos representam a principal utilização dos solos da bacia.
- e) A bacia 4 tem a maior parte de sua área em planaltos, o que possibilita aos rios que a compõem grande potencial hidrelétrico já utilizado por várias usinas. Sob o aspecto econômico, as terras da bacia são utilizadas para cultivos de produtos destinados à exportação.

6. (PM-SP – SOLDADO DA POLÍCIA MILITAR – VUNESP – 2017) Observe o gráfico para responder à questão.

Brasil – Grandes regiões: Participação na produção de “X”



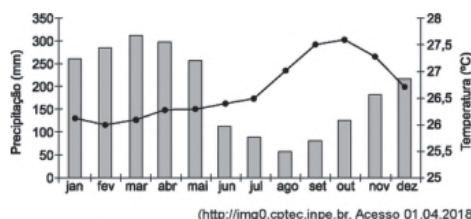
- Norte
- Nordeste
- Sudeste
- Sul
- Centro-Oeste

(<http://www.pac.gov.br/pub/uf/imagem/acc174ed65a6bacb904b4904bad5ccf.jpg> Acesso em 21 set.2017)

A leitura do gráfico e os conhecimentos sobre as atividades econômicas brasileiras permitem afirmar que, no título do gráfico, o “X” deve ser substituído por

- a) Grãos.
- b) Automóveis.
- c) Cana-de-açúcar.
- d) Aço.
- e) Café.

7. (PM-SP – SOLDADO DA POLÍCIA MILITAR – VUNESP – 2018)



(<http://img0.cptec.inpe.br>. Acesso 01.04.2018)

O climograma é característico

- a) De grande parte da Amazônia, que apresenta clima equatorial, forte pluviosidade e temperaturas elevadas o ano todo.
- b) Da área litorânea da região Sul, que apresenta clima subtropical, sem estação seca e elevada amplitude térmica.
- c) Da área sul da região Sudeste, que apresenta clima tropical de altitude, fraca pluviosidade e temperaturas elevadas o ano todo.
- d) Da porção central do Centro-Oeste, que apresenta clima tropical úmido, com grande pluviosidade e elevada amplitude térmica.
- e) Do interior nordestino, que apresenta clima tropical, com os meses de verão mais chuvosos e baixa amplitude térmica.

8. (PM-SP – SOLDADO DA POLÍCIA MILITAR – VUNESP – 2018) Analisando-se as características da população brasileira, é possível constatar que

- A taxa de fecundidade tem permanecido em fraca expansão, mostrando que há uma tendência de se manter o crescimento vegetativo elevado, principalmente na zona urbana.
- A taxa de urbanização, que mostra o dinamismo demográfico de um país, tem apresentado forte ampliação, fato que deve igualar as taxas entre as diferentes regiões do país.
- A esperança de vida, que indica o tempo médio de vida dos habitantes, tem sido reduzida, principalmente devido aos problemas decorrentes do desemprego e da crise econômica.
- A migração entre as regiões brasileiras parou de crescer há mais de uma década, o que mostra a regularidade da distribuição das atividades econômicas pelo país.
- A taxa de mortalidade infantil, que é um dos indicadores mais utilizados para mostrar as condições de vida, em especial aquelas relacionadas à saúde, está em declínio.

9. (PM-SP – SOLDADO DA POLÍCIA MILITAR – VUNESP – 2018) O último recenseamento agropecuário foi realizado em 2006. Os doze anos que separaram os dois censos não devem alterar o fato de que, no país, predominam

- Os cultivos permanentes fortemente mecanizados.
- As terras produtivas ocupadas por posseiros.
- As grandes propriedades rurais acima de mil hectares.
- Os minifúndios que ocupam metade das terras rurais.
- As pastagens destinadas à criação de gado leiteiro.

GABARITO COMENTADO

1. Em "a": Errado – Prevalecem outros fatores. É importante destacar outra questão da globalização: mão de obra barata em muitos países pobres, com exploração nas condições de trabalho.
Em "b": Errado – A dependência econômica vigora em muitos desses países.
Em "c": Certo – O protecionismo é uma das questões mais significativas do mundo globalizado e nas relações comerciais entre as nações.
Em "d": Errado – Os blocos econômicos têm se mostrado fatores importantes na fomentação de negócios que privilegiem seus membros.
Em "e" – Errado – Nações que defendem as relações multilaterais favorecem a integração.

GABARITO OFICIAL: C

2.

Em "a": Errado – Com a redução na oferta de consumo, a água potável será o "ouro" do século 21.

Em "b": Errado – Esse cenário não está atrelado ao fornecimento de água. Vale destacar, porém, que o Brasil conta com maior recurso hídrico do mundo.

Em "c": Certo – Os países mais pobres são os que mais sofrerão com a falta de água.

Em "d": Errado – A água como produto disputado estará mais acessível a nações mais ricas.

Em "e": Errado – As cidades mais ricas estarão em vantagem, quanto à disponibilidade do recurso quando em comparação a locais mais pobres.

GABARITO OFICIAL: C

3.

Em "a": Errado – A União Europeia é o bloco econômico mais influente do mundo. O Euro, por exemplo, é uma moeda sólida e de bastante relevância no mercado.

Em "b": Certo – A Alemanha exerce grande influência frente aos demais membros por sua economia forte. França também se destaca nesse quesito.

Em "c": Errado – Sentença em questão não procede.

Em "d": Errado – O Euro surgiu para unificar a Europa em torno de uma moeda forte. De fato, se tornou importante no cenário mundial, perdendo apenas para o Dólar, dos Estados Unidos, em termos de relevância.

Em "e": Errado – A UE tem privilegiado o mercado interno e produtores europeus, estabelecendo regras mais duras para entrada de produtos estrangeiros.

GABARITO OFICIAL: B

4.

Em "a": Errado – Não corresponde à imagem. Só pra constar, efeito estufa natural é importante para manter a temperatura ideal do planeta. Ocorre a concentração de gases na atmosfera, que absorve os raios solares. Porém, com intensificação desse processo, por conta da poluição atmosférica, a Terra tem sofrido com aumento da temperatura.

Em "b": Errado – Não corresponde à imagem. Ilha de calor é aumento de temperatura em área urbana.

Em "c": Errado – Efeito Coriolis implica em um sistema de referência em movimento de rotação.

Em "d": Certo – Imagem retrata uma inversão térmica. No caso, se trata do aumento de ar quente em altitudes elevadas e ar frio em altitudes baixas.

Em "e": Errado – Imagem não se refere ao fenômeno mencionado.

GABARITO OFICIAL: D

5.

Em "a": Errado – a bacia em questão é o Rio Tocantins e tem bastante atividade hidrelétrica.

Em "b": Certo – O rio citado é o São Francisco, que dá nome à bacia hidrográfica mencionada.

Em "c": Errado – A bacia mencionada é a Rio Paraná. Uma das características dela é o relevo acidentado.

Em "d": Errado – A maior bacia do mundo, a bacia do rio Amazonas. Ao contrário da informação mencionada, a região não conta com grande densidade demográfica.

Em "e": Errado – Tema citado não procede.

GABARITO OFICIAL: B

6.

Em "a": Certo – As regiões Sul e Centro-Oeste são grandes produtoras de grãos, como a soja, por exemplo.

Em "b": Errado – A indústria automobilística brasileira se concentra no Sudeste e Sul. Com alguma participação em outras regiões como Nordeste, mas em menor quantidade.

Em "c": Errado – Dados contidos não se relacionam ao gráfico.

Em "d": Errado – Produção de aço se concentra em Minas Gerais, Pará e Mato Grosso do Sul

Em "e": Errado – A produção de café se concentra em Minas Gerais, Espírito Santo e São Paulo.

GABARITO OFICIAL: A

7.

Em "a": Certo – Representa bem as condições na Amazônia, com predominância de chuvas e alta temperatura.

Em "b": Errado – Não corresponde ao dado citado.

Em "c": Errado – Os dados mencionados não estão ligados à imagem.

Em "d": Errado – Mesma questão em relação à letra "c".

Em "e": Errado – Questão semelhante às letras "c" e "d".

GABARITO OFICIAL: A

8.

Em "a": Errado – Informação em desacordo com o panorama atual.

Em "b": Errado – A urbanização não é igual em todas as cidades.

Em "c": Errado – A expectativa de vida aumentou nos últimos anos, devido a melhorias de condições em boa parte das cidades, com foco na água encanada e saneamento básico, por exemplo.

Em "d": Errado – A migração é um processo constante. O Sudeste ainda mantém posição como região que mais atrai pessoas, embora houvesse queda nos índices nos últimos anos.

Em "e": Certo – A taxa de mortalidade infantil nos anos 2000 é bem inferior aos dados dos anos 80 e 90.

GABARITO OFICIAL: E

9.

Em "a": Errado – Nem todas as áreas de cultivo são mecanizadas.

Em "b": Errado – Tema não prevalece.

Em "c": Certo – Vigora esse tipo de propriedade no Brasil.

Em "d": Errado – Os latifúndios têm dominado o cenário, o qual favorece pouco espaço aos minifúndios.

Em "e": Errado – Fato mencionado não condiz com o contexto.

GABARITO OFICIAL: C