



Concurso Público

001. PROVA ESCRITA – PARTE I (Objetiva)

Soldado PM de 2ª Classe

- ◆ Você recebeu sua folha de respostas e este caderno, contendo 50 questões objetivas, um tema de redação a ser desenvolvido e a folha de redação para transcrição do texto definitivo.
- ◆ Confira seu nome e número de inscrição impressos na capa deste caderno e nas folhas de respostas e de redação.
- ◆ Quando for permitido abrir o caderno, verifique se está completo ou se apresenta imperfeições. Caso haja algum problema, informe ao fiscal da sala.
- ◆ A folha de redação deverá ser destacada com cuidado e assinada apenas no local indicado; qualquer identificação ou marca feita pelo candidato no corpo deste caderno ou no verso da folha de redação, que possa permitir sua identificação, acarretará a atribuição de nota zero à redação.
- ◆ É vedado, em qualquer parte do material recebido, o uso de corretor de texto, de caneta marca-texto ou de qualquer outro material similar.
- ◆ Redija o texto definitivo e preencha a folha de respostas com caneta de tinta azul ou preta. Os rascunhos não serão considerados na correção. A ilegibilidade da letra acarretará prejuízo à nota do candidato.
- ◆ A duração das provas objetiva e de redação é de 4 horas, já incluído o tempo para o preenchimento da folha de respostas e a transcrição do texto definitivo.
- ◆ Só será permitida a saída definitiva da sala e do prédio após transcorridas 3 horas do início das provas.
- ◆ Ao sair, você entregará ao fiscal a folha de redação, a folha de respostas e este caderno, podendo levar apenas o rascunho de gabarito, localizado em sua carteira, para futura conferência.
- ◆ Até que você saia do prédio, todas as proibições e orientações continuam válidas.

AGUARDE A ORDEM DO FISCAL PARA ABRIR ESTE CADERNO.

CONHECIMENTOS GERAIS

LÍNGUA PORTUGUESA

Leia o texto para responder às questões de números **01** a **08**.

A indústria tabagista pode ter descoberto um filão publicitário tão atraente quanto ilegal: a propaganda em festas universitárias. Voltados a jovens de classe média, os eventos atraem milhares de potenciais consumidores em uma faixa etária em que essa indústria vem perdendo terreno.

“Qualquer forma de propaganda de produtos do tabaco é irregular”, informa, em nota, a Anvisa (Agência Nacional de Vigilância Sanitária). “Apenas a exposição dos produtos nos pontos de venda está permitida.”

No dia 7 de outubro, observou-se a presença de cartazes de uma marca de cigarros em todos os ambientes de uma festa na zona oeste da cidade de São Paulo, embora não houvesse venda no local. Segundo os organizadores do evento, que reuniu 2 000 jovens, as empresas pagam até R\$ 10 mil em patrocínio. A fabricante do cigarro confirma que patrocinou a festa, mas diz que “segue rigorosamente a legislação vigente”.

(Leandro Machado e Angela Boldrini. *Folha de S.Paulo*, 19.10.2010. Adaptado)

01. De acordo com o texto,

- (A) no dia 7 de outubro, foi flagrada a comercialização de cigarros em um evento que reuniu 2 000 jovens.
- (B) a exposição de cartazes de marcas de cigarros em festas ainda não foi caracterizada como infração pela Anvisa.
- (C) a legislação sobre produtos do tabaco permite campanhas publicitárias de cigarro em eventos, mas proíbe sua venda.
- (D) a presença de cigarros em festas universitárias é proibida pela Agência Nacional de Vigilância Sanitária.
- (E) a indústria tabagista pode ter encontrado uma maneira de burlar a proibição da publicidade de cigarros.

02. Voltados a jovens de classe média, os eventos atraem milhares de **potenciais** consumidores... (1º parágrafo)

O termo destacado nesse trecho expressa a ideia de

- (A) exclusão.
- (B) quantidade.
- (C) destrutividade.
- (D) possibilidade.
- (E) exatidão.

03. Assinale a alternativa que apresenta uma interpretação correta para o trecho a seguir.

... as empresas pagam até R\$ 10 mil em patrocínio. (3º parágrafo)

- (A) ... o patrocínio pago pelas empresas excede o valor de R\$ 10 mil.
- (B) ... o valor patrocinado pelas empresas pode alcançar R\$ 10 mil.
- (C) ... as empresas pagam a partir de R\$ 10 mil em patrocínio.
- (D) ... R\$ 10 mil é o valor exato que as empresas pagam em patrocínio.
- (E) ... as empresas chegam a pagar um mínimo de R\$ 10 mil em patrocínio.

04. A fabricante do cigarro confirma que patrocinou a festa, mas diz que “segue rigorosamente a legislação vigente”. (3º parágrafo)

Considerando o contexto global do texto, a partir da leitura dessa passagem, conclui-se que a fabricante do cigarro

- (A) nega ter feito propaganda de sua marca de cigarro no evento.
- (B) declara que fez publicidade durante o evento, mas de forma legal.
- (C) se responsabiliza pela propaganda de cigarro feita durante o evento.
- (D) se recusa a dizer que contribuiu para a realização do evento.
- (E) admite ter patrocinado o evento em troca de publicidade.

05. Assinale a alternativa que apresenta dois termos com sentidos opostos no texto.

- (A) propaganda – patrocínio
- (B) festa – evento
- (C) ilegal – permitida
- (D) indústria – fabricante
- (E) consumidores – organizadores

06. “Qualquer forma de propaganda de produtos do tabaco é irregular”, informa, em nota, a Anvisa (Agência Nacional de Vigilância Sanitária). (2º parágrafo)

No contexto, as aspas destacam a

- (A) citação de um trecho da nota da Anvisa a respeito da propaganda de produtos do tabaco.
- (B) opinião dos autores, que discordam da Anvisa quanto à propaganda de produtos do tabaco.
- (C) sugestão dos autores para o tratamento mais justo da propaganda de produtos do tabaco.
- (D) revolta dos autores diante do descaso da Anvisa com a propaganda de produtos do tabaco.
- (E) exposição de uma dúvida quanto à regularidade da propaganda de produtos do tabaco.

07. No dia 7 de outubro, observou-se a presença de cartazes de uma marca de cigarros em todos os ambientes de uma festa na zona oeste da cidade de São Paulo, **embora não houvesse** venda no local. (3º parágrafo)

A alternativa que substitui corretamente o trecho em destaque, sem alteração de sentido, é:

- (A) portanto não haveria.
- (B) para não haver.
- (C) por não haver.
- (D) assim não haveria.
- (E) apesar de não haver.

08. Considerando a concordância verbal e nominal da norma-padrão da língua portuguesa, assinale a alternativa que apresenta o trecho a seguir corretamente reescrito.

... observou-se a presença de cartazes de uma marca de cigarros... (3º parágrafo)

- (A) ... foi observado a presença de cartazes de uma marca de cigarros...
- (B) ... foram observada a presença de cartazes de uma marca de cigarros...
- (C) ... foram observadas a presença de cartazes de uma marca de cigarros...
- (D) ... foi observada a presença de cartazes de uma marca de cigarros...
- (E) ... foram observado a presença de cartazes de uma marca de cigarros...

09. Leia a tirinha a seguir.



(Jim Davis. www.folha.uol.com.br, 17.10.2014. Adaptado)

Assinale a alternativa cuja forma verbal completa corretamente, conforme a norma-padrão da língua portuguesa, a lacuna na fala do primeiro quadrinho.

- (A) pôde
- (B) possa
- (C) pudesse
- (D) poder
- (E) poderá

10. Assinale a alternativa que completa corretamente a frase a seguir, no que se refere ao emprego do acento indicativo de crase.

Garfield gostaria de voltar

- (A) à alguma ocasião em que comera *donuts*.
- (B) à certo momento em que comera *donuts*.
- (C) à uma refeição matinal em que comera *donuts*.
- (D) à situação mais recente em que comera *donuts*.
- (E) à este café da manhã em que comera *donuts*.

Leia o texto para responder às questões de números 11 a 14.

Alguém, em algum beco escuro da internet, acha que os seguintes itens têm a ver comigo: saias curtas, camisetas bem cavadas, chapéus com detalhes metálicos. Tudo super-moderno, descolado e... feminino. Por quê? Sou um senhor de meia-idade, grisalho, que se veste com roupas masculinas. Não tenho filhas, nem sobrinhas, nem ninguém próximo que use esse tipo de moda. Mas esse tipo de moda me bombardeia.

Entro em um *site* sério de notícias e está lá um anúncio divulgando a última coleção da marca. Navego pelo *site* do jornal americano “The New York Times”, idem: essa mesma publicidade preenche os espaços em branco e se oferece para mim.

Mas como me transformei em uma vítima dos anúncios de moda? Vamos voltar algumas semanas no tempo.

Minha triste saga começou no Twitter, mais especificamente na conta da seção de estilo do *site* BuzzFeed. Cliquei em um *link* que dizia algo como “conheça a marca de roupas preferida da Kristen Stewart” (a jovem e bela atriz da série “Crepúsculo”). Vacilo fatal. Acabei caindo em uma suposta reportagem sobre uma grife de roupas femininas chamada Wildfang. Na verdade, tratava-se do que, na era da internet, ganhou o nome de “conteúdo patrocinado”, ou seja, era uma publicidade disfarçada de jornalismo.

Mais do que ser apenas um anúncio, o tal *link* trazia escondido algum dispositivo *on-line* que me fichou como fã da Wildfang e instalou nos meus navegadores algo que faz disparar anúncios da marca em qualquer *site* que eu acesse.

Ao clicar na “reportagem” do BuzzFeed sobre as roupas da Wildfang, o que se esperava era um texto feito por um(a) repórter de moda, de opiniões próprias. Mas não era nada disso: era material pago, sem nenhuma indicação de que se tratava de um comercial, e que infestou meus computadores com anúncios indesejados.

Pode ser um bobo ranço geracional, mas tenho enorme dificuldade para aceitar que conteúdo informativo e publicidade se transformem em uma coisa só.

(Álvaro Pereira Júnior. *Folha de S.Paulo*, 11.10.2014. Adaptado)

11. O autor tornou-se “uma vítima dos anúncios de moda” quando

- (A) entrou no *site* do jornal americano “The New York Times”.
- (B) elogiou a criatividade do comercial de uma grife de roupas.
- (C) recebeu um convite para escrever sobre uma grife no Twitter.
- (D) acessou um *link* que esperava conduzir a uma reportagem.
- (E) leu a opinião de um repórter de moda sobre a grife Wildfang.

12. O autor revela-se descontente por duas razões, que são:

- (A) não encontrar anúncios de roupas apropriadas para seu perfil e ter sido impossibilitado de acessar *sites* sérios de notícias.
- (B) ter seus computadores invadidos por anúncios indesejados e deparar-se com publicidade disfarçada de jornalismo.
- (C) perceber que mesmo os jornais mais sérios passaram a tratar de temas fúteis e receber mensagens de fãs da atriz Kristen Stewart.
- (D) passar a receber anúncios de revistas femininas e ser encaminhado ao *site* da Wildfang ao procurar roupas masculinas na internet.
- (E) não poder confiar na veracidade das notícias divulgadas por *sites* de jornais e ter tido seu acesso à internet bloqueado.

13. Uma expressão que apresenta sentido figurado no contexto está destacada em:

- (A) Alguém, em algum **beco escuro da internet**, acha que os seguintes itens têm a ver comigo... (1º parágrafo)
- (B) ... **saias curtas**, camisetas bem cavadas, chapéus com detalhes metálicos. (1º parágrafo)
- (C) Mais do que ser apenas **um anúncio**, o tal *link* trazia escondido algum dispositivo... (5º parágrafo)
- (D) Não tenho filhas, nem sobrinhas, nem ninguém próximo que use **esse tipo de moda**. (1º parágrafo)
- (E) ... “conheça a marca de roupas preferida da Kristen Stewart” (**a jovem e bela atriz** da série “Crepúsculo”). (4º parágrafo)

14. O uso da primeira pessoa do plural revela um esforço do autor para estabelecer um grau de proximidade mais elevado com o leitor, o que se observa na expressão destacada em:

- (A) **Vamos voltar** algumas semanas no tempo. (3º parágrafo)
- (B) Minha triste saga **começou** no Twitter, mais especificamente na conta da seção de estilo do *site* BuzzFeed. (4º parágrafo)
- (C) Sou um senhor de meia-idade, grisalho, que se **veste** com roupas masculinas. (1º parágrafo)
- (D) Entro em um *site* sério de notícias e **está** lá um anúncio divulgando a última coleção da marca. (2º parágrafo)
- (E) **Acabei caindo** em uma suposta reportagem sobre uma grife de roupas femininas chamada Wildfang. (4º parágrafo)

15. Assinale a alternativa que completa corretamente a lacuna da frase a seguir, de acordo com a norma-padrão da língua portuguesa.

O autor aludiu _____ momento em que acessou a seção de estilo do site BuzzFeed.

- (A) do
- (B) ao
- (C) pelo
- (D) sobre o
- (E) no

16. Considerando as regras de concordância, assinale a alternativa em que a forma verbal em destaque está empregada em conformidade com a norma-padrão da língua portuguesa.

- (A) **Anda** surgindo muitas matérias com conteúdo patrocinado.
- (B) **Tende** a ocorrer muitos casos semelhantes ao do autor.
- (C) **Está** se tornando frequentes os anúncios indesejados.
- (D) **Deve** existir muitas formas de se tornar uma vítima da moda.
- (E) **Pode** haver maneiras de solucionar o problema do autor.

17. Assinale a alternativa em que a colocação do pronome destacado está em conformidade com a norma-padrão da língua portuguesa.

- (A) O autor nunca viu-**se** em uma situação parecida.
- (B) O autor não conforma-**se** com o ocorrido.
- (C) O autor referiu-**se** a um site chamado BuzzFeed.
- (D) O autor disse que iniciou-**se** no Twitter sua triste saga.
- (E) O autor tinha disposto-**se** a conhecer o estilo de Kristen Stewart.

18. Considere as frases a seguir:

Ensine as crianças _____ se encontram as saídas de emergência, os extintores de incêndio e os registros gerais de água e luz.

Fique atento _____ condições de limpeza de pisos, escadas e estado de conservação de elevadores.

Sinalize áreas _____ estejam sendo realizadas obras, manutenção ou mesmo limpeza.

(Manual de Autoproteção do Cidadão. Disponível em: www.polmil.sp.gov.br. Acesso em: 27.10.2014. Adaptado)

Assinale a alternativa que completa, correta e respectivamente, as lacunas.

- (A) aonde ... com ... que
- (B) aonde ... por ... em que
- (C) onde ... de ... que
- (D) onde ... a ... em que
- (E) aonde ... sob ... que

19. João recebeu um prêmio em dinheiro por ter alcançado a sua meta de vendas na empresa onde trabalha. Sabendo que o valor do prêmio recebido corresponde a $\frac{1}{3}$ do seu salário líquido e que o valor total (salário líquido + prêmio) recebido por João foi igual a R\$ 3.600,00, é correto afirmar que o valor do prêmio era
- (A) R\$ 850,00.
 - (B) R\$ 900,00.
 - (C) R\$ 950,00.
 - (D) R\$ 800,00.
 - (E) R\$ 750,00.
20. Uma papelaria comprou uma caixa de elásticos e irá vendê-los em pacotinhos, todos com a mesma quantidade de elásticos. Ao preparar os pacotinhos, o funcionário responsável percebeu que era possível colocar 18, ou 20, ou 24 elásticos em cada um e que, desse modo, não restaria elástico algum na caixa. O menor número de elásticos que essa caixa pode ter é
- (A) 180.
 - (B) 360.
 - (C) 240.
 - (D) 160.
 - (E) 120.
21. A razão entre o número de camisetas brancas e o número de camisetas coloridas vendidas em um dia, em determinada loja, foi $\frac{2}{7}$. Sabendo que, nesse dia, o número total de camisetas vendidas (brancas + coloridas) foi 54, então a diferença entre o número de camisetas coloridas e o número de camisetas brancas vendidas nesse dia foi
- (A) 30.
 - (B) 24.
 - (C) 12.
 - (D) 28.
 - (E) 18.
22. Um produto cujo preço inicial era R\$ 120,00 passou a ser vendido com 5% de desconto na 2ª feira e manteve o novo preço até a 5ª feira. Como as vendas não foram boas, na 6ª feira, o produto teve mais um desconto sobre o preço do dia anterior, passando a custar R\$ 91,20. A porcentagem de desconto dada nesse produto na 6ª feira, em relação ao preço da 2ª feira, foi
- (A) 15%
 - (B) 25%
 - (C) 35%
 - (D) 30%
 - (E) 20%

23. Uma loja comprou uma caixa com vários lenços e irá vendê-los em pacotes iguais, com 5 lenços em cada um, não sobrando nenhum lenço na caixa. Entretanto, se essa loja colocar somente 3 lenços em cada pacote, poderá fazer 8 pacotes a mais do que faria se colocasse 5 lenços em cada um, e também não restará nenhum lenço na caixa. O número total de lenços da caixa é
- (A) 45.
 - (B) 75.
 - (C) 90.
 - (D) 30.
 - (E) 60.

24. A tabela mostra o número de reclamações diárias recebidas por uma empresa em 5 dias de certa semana.

DIAS DA SEMANA	Nº DE RECLAMAÇÕES
2ª feira	28
3ª feira	15
4ª feira	32
5ª feira	14
6ª feira	???

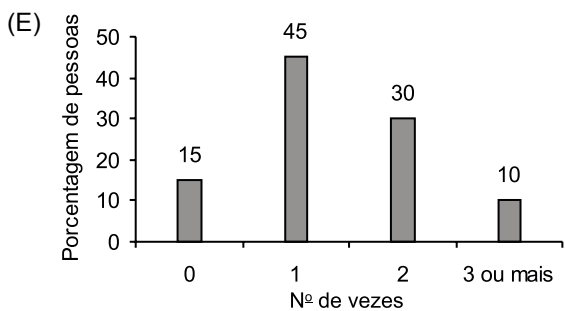
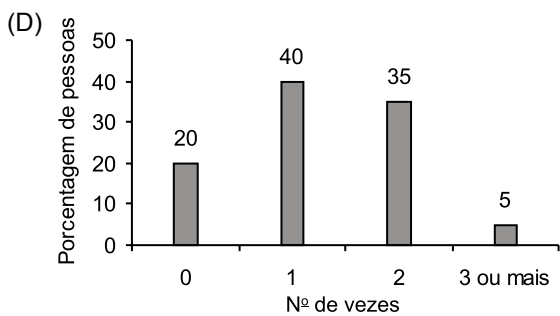
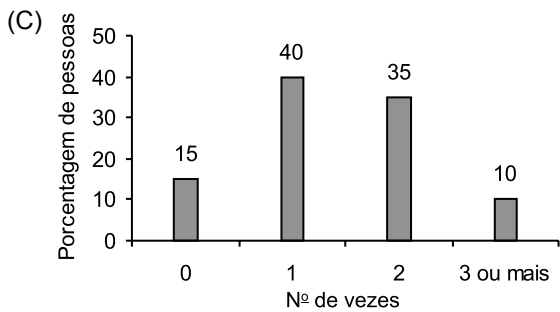
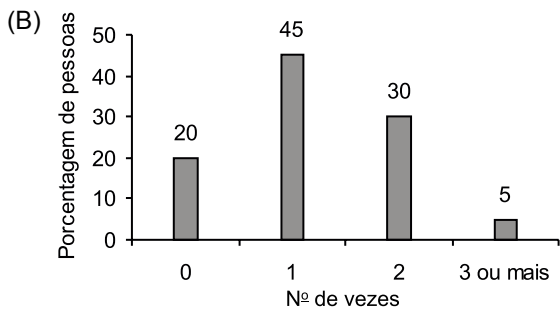
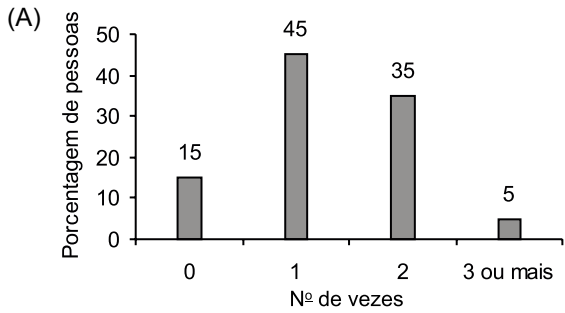
Sabendo que, nessa semana, a média do número de reclamações diárias foi igual a 23, é correto afirmar que o número de reclamações, na 6ª feira, foi

- (A) 23.
 - (B) 24.
 - (C) 26.
 - (D) 22.
 - (E) 25.
25. Jorge comprou 3 calças: uma preta, uma marrom e uma azul; todas com preços diferentes, que juntas custaram R\$ 285,00. O preço da calça preta era R\$ 25,00 a mais do que o preço da calça marrom, e o preço da calça marrom era R\$ 35,00 a menos do que o preço da calça azul. A soma do preço das duas calças mais caras era
- (A) R\$ 150,00.
 - (B) R\$ 195,00.
 - (C) R\$ 180,00.
 - (D) R\$ 210,00.
 - (E) R\$ 175,00.
26. De um recipiente que continha 1,7 litro de água, foram retiradas 3 canecas com 240 cm^3 de água em cada uma. O número máximo de copos com 140 mL cada um que poderão ser totalmente encheidos com a água restante nesse recipiente será
- (A) 5.
 - (B) 6.
 - (C) 7.
 - (D) 4.
 - (E) 8.

27. Foi feita uma pesquisa com 240 pessoas para saber o número de vezes que elas almoçam em restaurantes durante a semana. A tabela mostra os resultados obtidos.

Nº DE VEZES	Nº DE PESSOAS
0	36
1	108
2	84
3 ou mais	12

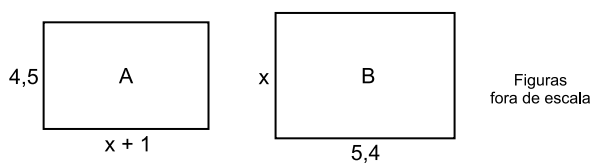
O gráfico que representa os valores da tabela em porcentagem é



28. Uma pessoa que passou a ir para o trabalho de bicicleta percebeu que, no 1º dia, gastou 12 minutos a mais do que o tempo gasto no 2º dia e, no 3º dia, gastou 20% a menos do que o tempo gasto no dia anterior. Sabendo que a soma dos tempos gastos nesses 3 dias juntos foi 2 horas e 4 minutos, então o tempo gasto no 3º dia, em minutos, foi

- (A) 28.
- (B) 32.
- (C) 40.
- (D) 24.
- (E) 36.

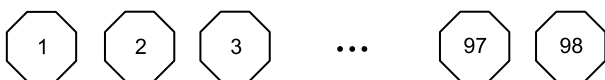
29. Um escritório possui 2 salas retangulares, A e B, conforme mostra a figura, cujas medidas estão em metros.



Sabendo que as duas salas possuem áreas iguais, então o perímetro da sala A, em metros, é

- (A) 19,0.
- (B) 20,5.
- (C) 18,3.
- (D) 17,8.
- (E) 21,0.

30. Para uma atividade recreativa, foram feitas 98 fichas de cartolina, numeradas de 1 a 98, conforme mostra a figura.



Considerando-se todos os números escritos nas fichas, o número de vezes que o algarismo 3 aparece é

- (A) 18.
- (B) 20.
- (C) 22.
- (D) 21.
- (E) 19.

HISTÓRIA GERAL

31. O período entre guerras (1918-1939) assistiu, na Europa, ao fortalecimento dos regimes nazifascistas. Entre suas características, é correto citar
- (A) o estabelecimento da censura aos meios de comunicação e o caráter totalitário do Estado.
 - (B) a existência de uma polícia política para controlar os cidadãos e a extinção da monarquia.
 - (C) a garantia do respeito aos direitos individuais e a criação de um culto à imagem do líder.
 - (D) a ampliação do direito de participação política da população e a economia corporativista.
 - (E) a não intervenção do Estado sobre as questões econômicas e a prática de discriminação racial.

HISTÓRIA DO BRASIL

32. No dia 30 de setembro de 1937, os jornais anunciaram a descoberta, pelo Estado-Maior do Exército, de um plano de insurreição comunista atribuído ao Comintern e assinado por um nome judaico: "Cohen".

Dia 10 de novembro de 1937: o exército cerca o Palácio Monroe, no Rio, onde funciona o Senado. Com o apoio das armas, Getúlio fecha o Congresso e extingue os partidos políticos.

(Brasil: Nosso Século. Vol. 5, 1930/1945. Adaptado)

Os eventos descritos no texto estão ligados

- (A) à resposta do governo Vargas frente à Revolução Constitucionalista, em que tropas paulistas se levantaram contra o governo federal.
- (B) à repressão desencadeada pelas tropas getulistas contra a tentativa de golpe realizada pelos comunistas da Ação Integralista Brasileira.
- (C) à estratégia utilizada por Getúlio Vargas e seus assessores para justificar a implantação do regime ditatorial do Estado Novo.
- (D) ao golpe militar que depôs o presidente eleito, Washington Luiz, permitindo que Getúlio Vargas assumisse o governo do Brasil.
- (E) aos esforços do então presidente Vargas para resistir às pressões do Congresso Nacional, que exigia sua renúncia ao cargo.

33. A partir de meados da década de 1970, a ditadura militar brasileira iniciou um lento processo de abertura. As medidas liberalizantes que aos poucos fizeram o país retornar a uma democracia foram comandadas

- (A) pelos políticos do MDB, exercendo sua função de partido de oposição ao governo.
- (B) pelo empresariado nacional, contrário à política econômica praticada pelos militares.
- (C) pelos sindicatos de trabalhadores em busca de melhores condições de vida e trabalho.
- (D) pelas autoridades militares, buscando promover uma transição sem revanchismos.
- (E) pelos estudantes universitários, lutando pela reorganização de suas entidades.

GEOGRAFIA GERAL

34. Considere as seguintes situações:

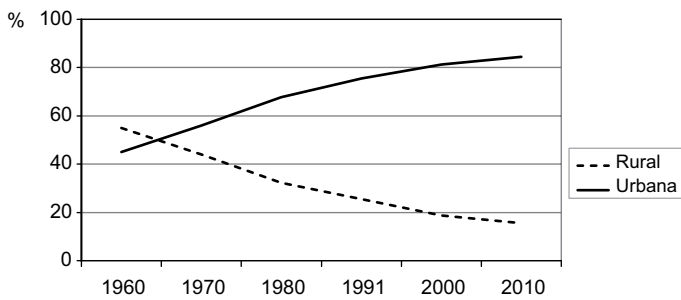
- caça ou pesca predatória;
- derrubada de florestas e campos para retirada de madeira, cultivos ou pastagens;
- construção de estradas e reservatórios de hidrelétricas;
- expansão urbana.

Essas situações, isoladamente ou combinadas, podem trazer como consequência

- (A) a redução ou a degradação da biodiversidade.
- (B) a substituição de solos naturais por artificiais.
- (C) o aumento da diversidade biológica.
- (D) a diminuição de espécies exóticas, isto é, não nativas.
- (E) o aparecimento de espécies vegetais de grande porte.

35. Analise o gráfico para responder à questão.

BRASIL: EVOLUÇÃO DA POPULAÇÃO RURAL E URBANA (%)



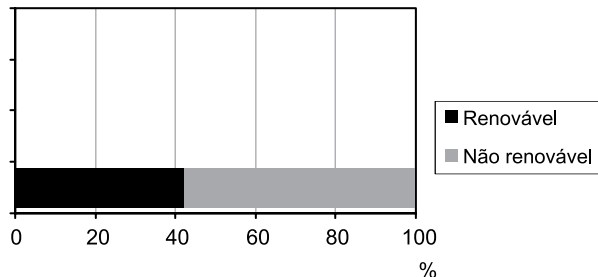
(<http://www.censo2010.ibge.gov.br/sinopse/index.php?dados=9&uf=00>)

A leitura do gráfico e os conhecimentos sobre a dinâmica demográfica brasileira permitem afirmar que, percentualmente, a população

- (A) rural deixou de apresentar declínio a partir do ano 2000.
- (B) urbana manteve-se estável entre os anos de 1991 e 2010.
- (C) rural se concentrou nas áreas mais afastadas do litoral a partir de 1970.
- (D) urbana teve maior crescimento entre os anos de 1960 e 1980.
- (E) urbana diminuiu o crescimento a partir de 1991 devido às migrações.

36. A questão está relacionada ao gráfico a seguir.

BRASIL: REPARTIÇÃO DA OFERTA INTERNA DE ENERGIA (2012)



(https://ben.epe.gov.br/downloads/S%C3%ADntese%20do%20Relat%C3%B3rio%20Final_2013_Web.pdf)

A partir da leitura do gráfico e dos conhecimentos sobre as fontes de energia no Brasil, assinale a alternativa que apresenta uma conclusão correta.

- (A) Entre as fontes de energia não renováveis, encontra-se o carvão vegetal, que tem se reduzido de forma rápida.
- (B) Os percentuais semelhantes entre energia renovável e não renovável impedem o Brasil de ter uma energia limpa.
- (C) O petróleo e o carvão mineral importados não são computados no conjunto das energias não renováveis.
- (D) O Brasil apresenta uma matriz energética fortemente poluidora, fato que recebe críticas de ambientalistas.
- (E) Parte considerável da energia renovável, no Brasil, tem origem nas hidrelétricas e na produção do etanol.

37. Em meados de 2013, o governo federal lançou, em Brasília, o programa “Mais Médicos”, que tem o objetivo de aumentar o número de médicos atuantes na rede pública de saúde em regiões carentes. Desde sua criação, um dos principais pontos polêmicos do programa é

- (A) a má distribuição dos médicos, concentrados no Nordeste.
- (B) a participação de grande número de médicos estrangeiros.
- (C) a área de abrangência, restrita às pequenas cidades.
- (D) o preço das consultas, mesmo nos consultórios populares.
- (E) o fato de a maior parte dos médicos inscritos serem pediatras.

38. Na sexta-feira (29.08.2014), o Instituto Brasileiro de Geografia e Estatística (IBGE) anunciou que a economia brasileira encolheu 0,6% no segundo trimestre deste ano, na comparação com os três meses imediatamente anteriores.

Os números recentes do Produto Interno Bruto (PIB) mostram que o Brasil não tem conseguido superar o estigma do “voo de galinha”, aquele que faz muito barulho, mas tem pouco alcance. O país tem registrado crescimento irregular: um pouco maior em um ano, seguido por expansão menor no seguinte.

(<http://g1.globo.com/economia/noticia/2014/08/entenda-quais-sao-os-entraves-ao-crescimento-da-economia-brasileira.html>)

Um dos problemas que dificultam o crescimento da economia brasileira é

- (A) a paridade entre o real e o dólar.
- (B) o afastamento do Brasil em relação ao Banco Mundial.
- (C) a alta carga de impostos em todos os níveis.
- (D) o predomínio de capitais estrangeiros na indústria.
- (E) a insuficiência de leis de proteção ao trabalhador.

39. Em julho de 2014, foi divulgado um relatório da ONU sobre o IDH (Índice de Desenvolvimento Humano) de quase 200 países do mundo. Nesse relatório, o Brasil passou da 80ª para a 79ª posição no ranking anual do IDH. No entanto, apesar de ter melhorado sua posição no ranking mundial, o Brasil ainda apresenta como sério problema a

- (A) forte desigualdade socioeconômica entre a população.
- (B) elevada taxa de fecundidade de mulheres entre 30 e 40 anos.
- (C) baixa expectativa de vida da população como um todo.
- (D) alta taxa de mortalidade, acima de 100 mortes por mil habitantes.
- (E) alta taxa de migração interna da população.

40. O governo dos Estados Unidos pediu, nesta segunda-feira (27.10.14), que a batalha contra o grupo Estado Islâmico (EI) se estenda à internet, enquanto que os membros da coalizão internacional se reúnem para debater as formas de deter a propaganda do grupo na web. (<http://g1.globo.com/mundo/noticia/2014/10/eua-querem-lutar-contra-os-militantes-do-estado-islamico-na-internet.html>)

A respeito do Estado Islâmico, é correto afirmar que

- (A) condena o terrorismo, mas mata soldados e civis que vivem no norte da África.
 (B) é um grupo formado na Índia para desestabilizar o governo local.
 (C) tem se destacado na luta para garantir a independência da Palestina.
 (D) surgiu no Iraque e atualmente tem grande atuação no conflito sírio.
 (E) recebeu forte apoio político e econômico de potências, como a França.

NOÇÕES DE INFORMÁTICA

41. Observe a figura a seguir, extraída de uma planilha do MS-Excel 2010, em sua configuração padrão. Ela apresenta uma tabela contendo dados sobre funcionários no intervalo de células A1:E11 e um relatório sobre esses dados no intervalo A13:E21.

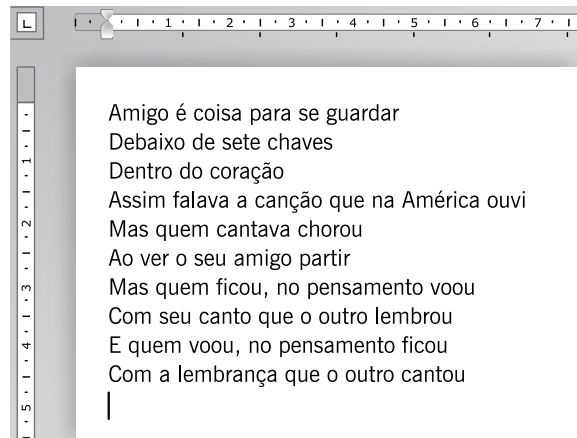
	A	B	C	D	E
1	Nome	Salário	Idade	Setor	Bônus
2	Joaquim	R\$ 2.300	25	A	R\$ 5.750
3	Paula	R\$ 2.400	25	B	R\$ 6.000
4	Flávia	R\$ 4.500	23	A	R\$ 450
5	Sheila	R\$ 1.200	45	B	R\$ 5.400
6	Lucas	R\$ 3.600	23	B	R\$ 360
7	Eduardo	R\$ 2.400	23	A	R\$ 5.520
8	Cláudio	R\$ 3.400	25	B	R\$ 340
9	Ana Clara	R\$ 2.300	32	B	R\$ 7.360
10	Bruno	R\$ 3.400	32	A	R\$ 340
11	Daniela	R\$ 4.600	34	B	R\$ 460
12					
13	Relatório				Resultado
14	Quantidade de funcionários do Setor A				4
15	Quantidade de funcionários do Setor B				6
16	Idade mínima entre os funcionários				23
17	Idade máxima entre os funcionários				45
18	Quantidade de funcionários com idade mínima				3
19	Quantidade de funcionários com idade máxima				1
20	Média de salário dos funcionários do Setor A				R\$ 3.150
21	Média de salário dos funcionários do Setor B				R\$ 2.917

Assinale a alternativa que contém a fórmula que, quando inserida na célula E19, produz o mesmo valor apresentado na célula atualmente. Considere que o caractere “;” (ponto e vírgula) está configurado como separador dos argumentos das funções e que as aspas duplas delimitam um texto.

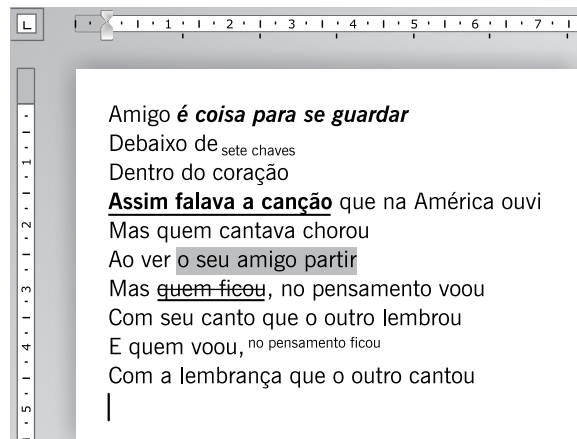
- (A) =CONT.SE(D2:D11;"B")
 (B) =CONT.SE(B2:B11;1)
 (C) =CONT.SE(C2:C11;MÁXIMO(C2:C11))
 (D) =MÉDIASE(D2:D11;"A";B2:B11)
 (E) =SE(D2="A";MÉDIA(E2:E11); MÉDIA(B2:B11))

42. As figuras a seguir foram extraídas do MS-Word 2010, em sua configuração padrão. Elas apresentam parte de um documento que contém uma passagem da Canção da América, de Milton Nascimento. O documento é apresentado em dois momentos: **antes** e **depois** da utilização de recursos do grupo Fonte da guia Página Inicial.

Antes



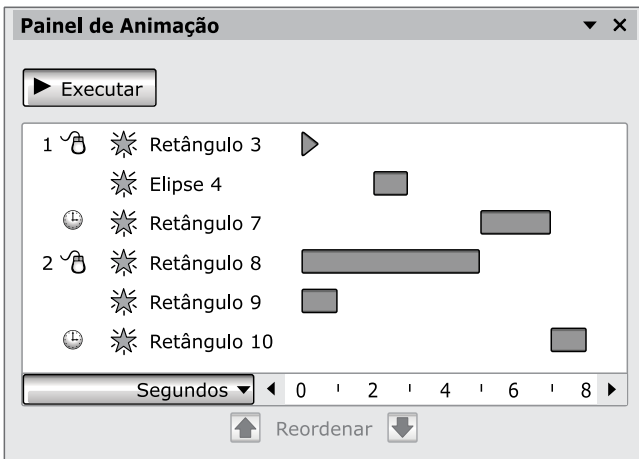
Depois



Assinale a alternativa que contém o nome dos recursos utilizados no trecho “é coisa para se guardar” entre os dois momentos das figuras.

- (A) Cor do Realce do Texto e Negrito.
 (B) Tachado e Negrito.
 (C) Cor do Realce do Texto e Sublinhado.
 (D) Sublinhado e Itálico.
 (E) Itálico e Negrito.

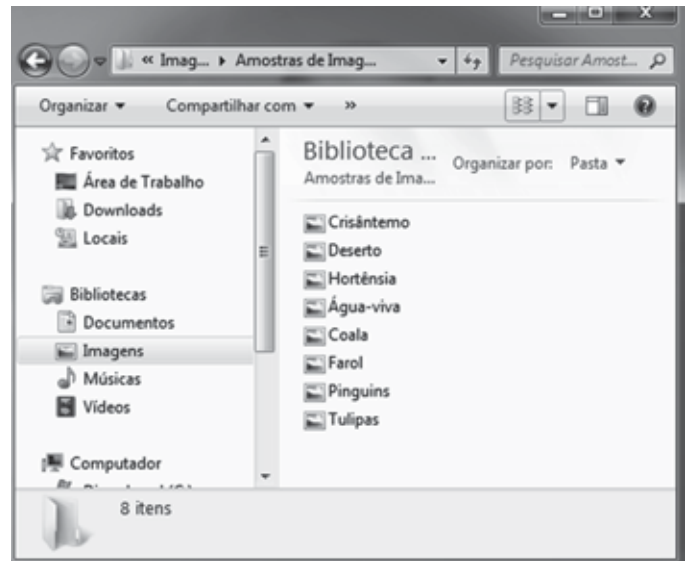
43. Observe o Painel de Animação a seguir, extraído de uma apresentação do MS-PowerPoint 2010, em sua configuração padrão.



Assinale a alternativa que descreve corretamente e em ordem: o início e a duração do intervalo da animação associada à Elipse 4.

- (A) Início ao clicar e demora de 0 segundo.
- (B) Início com o anterior e duração de 1 segundo.
- (C) Início após o anterior e duração de 0 segundo.
- (D) Início com o anterior e duração de 0 segundo.
- (E) Início após o anterior e duração de 1 segundo.

44. Observe a janela do Windows Explorer, extraída do MS-Windows 7, em sua configuração padrão. Ela exibe os ícones de oito imagens da pasta Imagens no modo de exibição "Lista". Considere que, atualmente, a Área de Trabalho não contém arquivos de imagens.



Para _____ as imagens da pasta Imagens para a Área de Trabalho, o usuário pode selecionar todas as imagens, utilizar o atalho de teclado _____, clicar no ícone da Área de Trabalho e, por fim, utilizar o atalho de teclado _____.

Assinale a alternativa que preenche, correta e respectivamente, as lacunas do enunciado.

- (A) copiar ... Ctrl+C ... Ctrl+V
- (B) copiar ... Ctrl+X ... Ctrl+V
- (C) mover ... Ctrl+A ... Ctrl+X
- (D) mover ... Ctrl+C ... Ctrl+X
- (E) mover ... Ctrl+C ... Ctrl+V

45. Observe a figura, extraída do Internet Explorer 10, em sua configuração padrão.



Assinale a alternativa que descreve as funcionalidades associadas ao ícone identificado pela seta na figura.

- (A) Abrir as Ferramentas de configuração.
- (B) Exibir favoritos, feeds e histórico.
- (C) Pesquisar itens na página.
- (D) Abrir uma nova guia.
- (E) Ir para a página de Início.

- 46.** Prevê a Constituição Federal que são direitos sociais, dentre outros,
- (A) o lazer, a segurança, a previdência social e a privacidade.
 - (B) a alimentação, a liberdade de locomoção e de manifestação do pensamento.
 - (C) a saúde, a educação, o trabalho e a assistência aos desamparados.
 - (D) a educação, a segurança e o direito de propriedade.
 - (E) a educação, a saúde e a liberdade de reunião.
- 47.** A Constituição do Estado de São Paulo prevê que é obrigatório para a organização da administração pública direta e indireta, inclusive as fundações instituídas ou mantidas por qualquer dos Poderes do Estado, o cumprimento, dentre outras, da seguinte norma:
- (A) o limite de idade para ingresso por concurso público na administração direta, autarquias e fundações públicas é 45 (quarenta e cinco) anos.
 - (B) a investidura em cargo ou emprego público depende de aprovação prévia, em concurso público de provas e títulos, inclusive para cargo em comissão.
 - (C) o prazo de validade do concurso público será de até um ano, prorrogável uma vez, por igual período.
 - (D) é obrigatória a declaração pública de bens, antes da posse e depois do desligamento, de todo dirigente de empresa pública, sociedade de economia mista, autarquia e fundação instituída ou mantida pelo Poder Público.
 - (E) os cargos, empregos e funções públicas são acessíveis aos brasileiros natos, excluídos os naturalizados e os estrangeiros.
- 48.** Assinale a alternativa que corretamente trata das diárias previstas no Estatuto dos Funcionários Públicos Civis do Estado de São Paulo (Lei Estadual nº 10.261/68).
- (A) Caberá a concessão de diária mesmo quando o deslocamento de funcionário constituir exigência permanente do cargo.
 - (B) Será concedida diária ao funcionário removido ou transferido, durante o período de trânsito.
 - (C) É lícito conceder diárias com o objetivo de remunerar outros encargos ou serviços, como a realização de horas extras.
 - (D) O funcionário que indevidamente receber diária será obrigado a restituí-la de uma só vez, mas não ficará sujeito a punição disciplinar.
 - (E) A diária é concedida, a título de indenização das despesas de alimentação e pousada, ao funcionário que se desloca temporariamente de sua sede, no desempenho de suas funções.
- 49.** No que concerne aos atos administrativos, é correto afirmar que a Lei Estadual nº 10.177/98 prevê que
- (A) é vedado às autoridades superiores delegar a seus subordinados a prática de atos de sua competência ou avocar os de competência destes.
 - (B) não será admitida a convalidação do ato administrativo quando dela resultar prejuízo à Administração ou a terceiros ou quando se tratar de ato impugnado.
 - (C) será de 30 (trinta) dias, se outra não for a determinação legal, o prazo máximo para a prática de atos administrativos isolados, que não exijam procedimento.
 - (D) a resolução é ato administrativo de competência concorrente entre o Governador e os Secretários de Estado.
 - (E) os atos administrativos, inclusive os de caráter geral, entrarão em vigor 30 (trinta) dias após sua publicação, salvo disposição expressa em contrário.
- 50.** Soldado da Polícia Militar do Estado de São Paulo, integrante do Serviço de Informações ao Cidadão da Polícia Militar, previsto e instalado nos termos da Lei Federal nº 12.527/12 e do Decreto Estadual nº 58.052/12, permite acesso indevido à informação sigilosa, prévia e devidamente classificada. A conduta do Soldado é prevista nos diplomas legais citados como
- (A) infração administrativa e ilícito civil, gerador do dever de indenizar àqueles que se considerarem ofendidos pela conduta do soldado.
 - (B) ilícita, ensejadora de responsabilidade disciplinar do agente público ou militar, podendo este responder também por improbidade administrativa.
 - (C) crime contra a Administração Pública e ilícito civil, sem, contudo, repercussão na esfera administrativa disciplinar.
 - (D) infração disciplinar de natureza grave, passível de demissão ou demissão a bem do serviço público.
 - (E) infração administrativa e crime contra a Administração Pública, para o qual é prevista a pena de 2 a 4 anos de reclusão.

REDAÇÃO

TEXTO 1

O Projeto de Lei nº 7.282/14, em análise na Câmara, propõe liberar o porte de armas de fogo no Brasil. Pelo texto do deputado Jair Bolsonaro (PP-RJ), “poderá ser concedido porte de arma de fogo para pessoas que justificarem a necessidade para sua segurança pessoal ou de seu patrimônio”.

Atualmente, a Lei do Desarmamento (10.826/03) restringe a concessão de porte apenas às categorias profissionais que dependem de armas para o exercício de suas atividades – como policiais, integrantes das forças armadas e guardas prisionais.

(Maria Neves. *Projeto libera porte de armas no Brasil*, 02.10.2014. Disponível em: www.camara.leg.br. Adaptado)

TEXTO 2

Há quem afirme que, se o Estado não é capaz de garantir a segurança pública de qualidade, o cidadão deve ter meios de proteger sua vida. Já uma corrente contrária acredita que os bandidos seriam os grandes beneficiários da liberação do porte de armas de fogo, porque tomariam posse daquelas pertencentes às pessoas de bem. O Estado deve investir em efetivo, tecnologia e infraestrutura para defender a população, mas será que também deve interferir na liberdade de escolha de uma pessoa que deseja portar uma arma para se defender?

O cidadão deve ter o direito de portar uma arma, e o Estado tem como incumbência regulamentar, fiscalizar e, principalmente, emitir o registro que autoriza o porte para pessoas que atendam rigorosamente todas as exigências legais e tenham condições técnicas e psicológicas de utilizar uma arma de fogo. Contra o argumento de que as pessoas de bem seriam um alvo certo para abastecer com armamento o crime organizado, as estatísticas mostram que as quadrilhas dispõem de outras fontes para se municiarem: o próprio poder público e as empresas de vigilância e escolta privadas.

(Guilherme Campos. *Porte de armas e revisão de conceitos*, 14.04.2014. Disponível em: www.brasil247.com. Adaptado)

TEXTO 3

Segundo o Ministério da Justiça, 80% dos crimes com arma de fogo são motivados por conflitos pessoais como briga de vizinhos e no trânsito, motivação passional, entre outros. De acordo com dados do Instituto Sou da Paz, em São Paulo, de cada três homicídios, dois são cometidos com armas de fogo.

A coordenadora de projetos da área de controle de armas do Instituto, Alice Andrés Ribeiro, alerta para a falsa ideia de que possuir uma arma de fogo seja sinônimo de segurança. “São pessoas comuns em situações banais que se tornam letais”, diz Alice. Segundo ela, o fato de ter uma arma em casa ou até mesmo no local de trabalho deixa os cidadãos em mais risco. “Na visão dos criminosos, qualquer esboço de reação é motivo para atirar”.

(Andréia Martins. *Justificativas mais comuns para obter porte de arma são as menos aceitas, diz delegado*, 30.01.2011. Disponível em: <http://noticias.uol.com.br>. Adaptado)

Com base nas informações dos textos e em seus próprios conhecimentos, escreva uma dissertação, de acordo com a norma-padrão da língua portuguesa, sobre o tema:

LIBERAÇÃO DO PORTE DE ARMAS DE FOGO: PROTEÇÃO OU AMEAÇA À SEGURANÇA DO CIDADÃO?



Concurso Público

002. PROVA ESCRITA – PARTE II
(Folha de Redação)

Soldado PM de 2ª Classe

- ◆ Confira seus dados impressos nesta folha e assine apenas no local indicado.
- ◆ Destaque esta folha com cuidado e entregue ao fiscal juntamente com os outros materiais ao sair.
- ◆ Fique atento às demais orientações contidas na capa da prova objetiva.

Assinatura do candidato

USO EXCLUSIVO DO FISCAL

AUSENTE



