



3 DE FEVEREIRO DE 1874



PODER JUDICIÁRIO
TRIBUNAL DE JUSTIÇA DO ESTADO DE SÃO PAULO

CONCURSO PÚBLICO

001. PROVA OBJETIVA

ESCREVENTE TÉCNICO JUDICIÁRIO

- ◆ Você recebeu sua folha de respostas e este caderno contendo 100 questões objetivas.
- ◆ Confira seus dados impressos na capa deste caderno e na folha de respostas.
- ◆ Quando for permitido abrir o caderno, verifique se está completo ou se apresenta imperfeições. Caso haja algum problema, informe ao fiscal da sala para a devida substituição desse caderno.
- ◆ Leia cuidadosamente todas as questões e escolha a resposta que você considera correta.
- ◆ Marque, na folha de respostas, com caneta de tinta preta, a letra correspondente à alternativa que você escolheu.
- ◆ A duração da prova é de 5 horas, já incluído o tempo para o preenchimento da folha de respostas.
- ◆ Só será permitida a saída definitiva da sala e do prédio após transcorridas 2 horas do início da prova.
- ◆ Ao sair, você entregará ao fiscal a folha de respostas e este caderno.
- ◆ Até que você saia do prédio, todas as proibições e orientações continuam válidas.

AGUARDE A ORDEM DO FISCAL PARA ABRIR ESTE CADERNO.

Nome do candidato _____

RG _____ Inscrição _____ Prédio _____ Sala _____ Carteira _____

LÍNGUA PORTUGUESA

Leia o texto para responder às questões de números **01** a **03**.

Por causa de falta de acompanhamento médico, as mortes maternas aumentaram ou estagnaram em quase todas as regiões do mundo: em média, uma mulher morre durante a gravidez ou no parto a cada 2 minutos, de acordo com o relatório da Organização Mundial da Saúde (OMS) “Tendências na mortalidade materna”, divulgado em fevereiro. O total das mulheres grávidas que não fazem nem quatro dos oito exames recomendados durante a gravidez ou não recebem cuidados essenciais após o parto é de aproximadamente um terço delas, enquanto cerca de 270 milhões não têm acesso a métodos modernos de planejamento familiar. Em 2020, cerca de 70% de todas as mortes maternas ocorreram na África subsaariana, em razão de sangramento grave, pressão alta, infecções relacionadas à gravidez, complicações de aborto inseguro e doenças como HIV/Aids ou malária, que podem ser agravadas pela gravidez. No Chade, a taxa média de mortalidade é de 1 063 mulheres para cada 100 mil nascidos vivos. Na Alemanha, de 5 para cada 100 mil.

(Pesquisa Fapesp. <https://revistapesquisa.fapesp.br>, Edição 326, abril de 2023. Adaptado)

01. Assinale a alternativa em que o enunciado está em conformidade com as informações do texto e com a norma-padrão.

- (A) Ainda que se recomende exames às mulheres grávidas, a maioria delas têm se mostrado contrária à realização desse controle médico.
- (B) De acordo com a OMS, falta empenho das mulheres grávidas para realizar os exames pré-natal que mantém em dia sua saúde.
- (C) Cerca de 270 milhões de mulheres não dispõem de acesso a métodos de planejamento familiar, ficando vulnerável a uma série de problemas.
- (D) O relatório da OMS mostra que cerca de um terço das mulheres grávidas não faz nem metade dos exames pré-natais recomendados.
- (E) O aumento das mortes maternas sinalizam para a necessidade de garantir às mulheres acesso aos cuidados essenciais em saúde.

02. As informações presentes ao final do texto – No Chade, a taxa média de mortalidade é de 1 063 mulheres para cada 100 mil nascidos vivos. Na Alemanha, de 5 para cada 100 mil. – permitem concluir corretamente que a mortalidade materna

- (A) se mostra alarmante, de fato, na Alemanha, fruto da ausência de métodos de planejamento familiar.
- (B) é uma realidade também presente em países desenvolvidos, porém, neles, a incidência de mortes é menor.
- (C) atinge indistintamente todos os países do planeta, sendo mais contundente nos que são mais ricos.
- (D) se distribui de forma irregular pelos países, sendo paradoxalmente menos severa nos países mais pobres.
- (E) está estagnada no Chade e na Alemanha, não se configurando, pois, um problema de saúde pública.

03. Na frase final do texto – Na Alemanha, de 5 para cada 100 mil. –, a vírgula serve para separar a expressão adverbial de lugar e para indicar que há

- (A) informação implícita no enunciado.
- (B) divergência entre os dados citados.
- (C) separação de termos em enumeração.
- (D) ambiguidade na exposição das ideias.
- (E) retificação de informação prévia.

Leia o texto para responder às questões de números **04 a 10**.

Choque elétrico

A União Europeia (UE) engatou marcha acelerada para eletrificar sua frota de veículos: em 2035, deixará de fabricar carros movidos a combustíveis fósseis. A medida faz parte da estratégia para zerar, em 2050, as emissões de carbono.

Com 27%, a fatia de vendas na China é mais que o dobro da média mundial de 13%. Lá, 6,2 milhões de veículos eletrificados chegaram às ruas em 2022 – entre os totalmente elétricos com baterias (BEV, na abreviação em inglês) e os híbridos que podem ser ligados na tomada (*plug-ins*, ou PHEV).

As vendas chinesas no setor cresceram 82% em 2022, enquanto o mercado automotivo geral encolhia 5,3%. No mundo, o avanço verde foi de 55%, ante retração de 0,5% nas vendas totais de veículos, segundo a base de dados EVvolumes.

Do ângulo da crise climática, pouco adiantará eletrificar a frota se a energia das baterias provier de fontes emissoras de carbono, como usinas alimentadas com carvão mineral, óleo ou gás natural. A matriz elétrica precisa ser toda renovável para fazer diferença contra o aquecimento global.

Nesse quesito, o Brasil ocupa posição ímpar, com 82,9% da eletricidade oriunda de fontes renováveis (hidráulica, eólica, solar e biomassa), contra 28,6% na média do planeta. Some-se a isso a alta produção de etanol e tem-se um enorme potencial para BEVs e PHEVs.

Os números são ínfimos, contudo. Circulam aqui apenas 135,3 mil elétricos e híbridos, menos de 0,1% da frota de veículos leves. As vendas têm aumentado, é fato, com 49,2 mil emplacamentos em 2022, incremento de 41% sobre o ano anterior, de acordo com a Associação Brasileira do Veículo Elétrico.

A maioria dos carros elétricos e híbridos disponíveis no mercado nacional é de modelos pouco acessíveis – e poderão ficar ainda mais caros, se o governo federal ouvir o pleito apresentado em fevereiro pela Anfavea de revogar a isenção do imposto de importação, com retorno da alíquota de 35%.

Ou seja, as montadoras querem garantir uma reserva de mercado. Enquanto a Europa acelera, no Brasil ameaçam puxar o freio de mão.

(Editorial. *Folha de S.Paulo*, 29.03.2023. Adaptado)

04. As informações do texto permitem concluir corretamente que

- (A) a crise climática se intensificará nas próximas décadas, pois a eletrificação dos veículos, como no Brasil, tem se dado com a matriz elétrica de fontes não renováveis, como usinas alimentadas com carvão mineral, óleo ou gás natural.
- (B) a eletrificação dos veículos é uma realidade incontestável na União Europeia e na China, mas ainda está distante do cotidiano brasileiro, no qual a frota de veículos leves eletrificados e híbridos é pequena e as vendas estão estagnadas desde 2022.
- (C) a possibilidade de expansão dos carros elétricos, atendendo à estratégia de zerar as emissões de carbono até 2050, amplia-se na União Europeia e o Brasil segue esse exemplo, com a revogação da isenção do imposto de importação.
- (D) a média mundial de carros eletrificados mostra que a meta de emissão zero de carbono, prevista para 2050, será alcançada, para a surpresa da União Europeia, primeiro pela China, que já eletrificou 27% de sua frota, e depois pelo Brasil.
- (E) o Brasil reúne condições favoráveis para a implementação de uma frota automobilística com veículos elétricos e híbridos, todavia veículos desse gênero ainda são pouco acessíveis para a grande maioria dos consumidores devido aos preços altos.

05. Assinale a alternativa em que há termo(s) empregado(s) em sentido figurado nas duas passagens transcritas do texto.

- (A) Com 27%, a fatia de vendas na China é mais que o dobro da média mundial de 13%. (2º parágrafo); ... de revogar a isenção do imposto de importação, com retorno da alíquota de 35%. (7º parágrafo)
- (B) Lá, 6,2 milhões de veículos eletrificados chegaram às ruas em 2022... (2º parágrafo); A maioria dos carros elétricos e híbridos disponíveis no mercado nacional é de modelos pouco acessíveis... (7º parágrafo)
- (C) A União Europeia (UE) engatou marcha acelerada para eletrificar sua frota de veículos... (1º parágrafo); Enquanto a Europa acelera, no Brasil ameaçam puxar o freio de mão. (último parágrafo)
- (D) No mundo, o avanço verde foi de 55%, ante retração de 0,5% nas vendas totais de veículos... (3º parágrafo); A matriz elétrica precisa ser toda renovável para fazer diferença contra o aquecimento global. (4º parágrafo)
- (E) As vendas chinesas no setor cresceram 82% em 2022, enquanto o mercado automotivo geral encolhia 5,3%. (3º parágrafo); As vendas têm aumentado, é fato, com 49,2 mil emplacamentos em 2022... (6º parágrafo)

06. O último parágrafo do texto deixa claro que
- (A) União Europeia e China ambicionam conquistar as fontes renováveis de energia brasileira.
 - (B) Brasil e União Europeia investem na eletrificação de veículos, ao contrário dos chineses.
 - (C) Brasil e União Europeia agem diferente quanto à ampliação da frota de veículos eletrificados.
 - (D) China descarta o Brasil como grande aliado para a implementação de carros eletrificados.
 - (E) União Europeia e Brasil enfrentam os mesmos problemas para a eletrificação de seus carros.

07. Considere as passagens:

- Nesse quesito, o Brasil ocupa posição **ímpar**, com 82,9% da eletricidade oriunda de fontes renováveis... (5º parágrafo)
- Os números são **ínfimos**, contudo. (6º parágrafo)
- ... se o governo federal ouvir o **pleito** apresentado em fevereiro pela Anfavea de **revogar** a isenção do imposto de importação... (7º parágrafo)

Os termos destacados significam, correta e respectivamente:

- (A) única; incomensuráveis; exigência; conceder.
- (B) elementar; ilimitados; combinação; impor.
- (C) excepcional; inexpressivos; anseio; implantar.
- (D) inigualável; insignificantes; demanda; cancelar.
- (E) extraordinária; limitados; distrato; anular.

08. Nas passagens – A medida faz parte da estratégia **para** zerar, em 2050, as emissões de carbono. (1º parágrafo) – e – ... se a energia das baterias provier de fontes emissoras de carbono, **como** usinas alimentadas com carvão mineral, óleo ou gás natural. (4º parágrafo) –, os termos destacados estabelecem, correta e respectivamente, relações de sentido de

- (A) consequência e comparação.
- (B) finalidade e exemplificação.
- (C) finalidade e condição.
- (D) consequência e causa.
- (E) condição e exemplificação.

09. Na passagem do segundo parágrafo – Lá, 6,2 milhões de veículos eletrificados **chegaram** às ruas em 2022... –, o sinal indicativo da crase mantém-se, se a forma verbal destacada for substituída por

- (A) foram.
- (B) conquistaram.
- (C) tomaram.
- (D) circularam.
- (E) espalharam-se.

10. Assinale a alternativa que atende à norma-padrão de concordância verbal.

- (A) Cresceram as vendas chinesas de carros elétricos e híbridos: tratam-se de 82% de aumento em 2022, enquanto o mercado automotivo geral encolhia 5,3%.
- (B) As fontes renováveis e a alta produção de etanol faz com que o Brasil tenha um enorme potencial para BEVs e PHEVs.
- (C) Os carros elétricos e híbridos disponíveis no mercado nacional vem contando com a isenção do imposto de importação, que a Anfavea quer ver revogado.
- (D) No que diz respeito à matriz elétrica, o Brasil ocupa posição ímpar, pois dispõem de 82,9% da eletricidade oriunda de fontes renováveis.
- (E) As vendas de carros elétricos e híbridos aumentaram no Brasil, mas os preços desses veículos ainda mantêm poucos deles em circulação nas ruas do país.

Leia o texto para responder às questões de números 11 a 19.

José Dias tratava-me com extremos de mãe e atenções de servo. A primeira coisa que consegui, logo que comecei a andar fora, foi dispensar-me o pajem; fez-se pajem, ia comigo à rua. Cuidava dos meus arranjos em casa, dos meus livros, dos meus sapatos, da minha higiene e da minha prosódia. Aos oito anos os meus plurais careciam, alguma vez, da desinência exata, ele a corrigia, meio sério para dar autoridade à lição, meio risonho para obter o perdão da emenda. Ajudava assim o mestre de primeiras letras. Mais tarde, quando o Padre Cabral me ensinava latim, doutrina e história sagrada, ele assistia às lições, fazia reflexões eclesásticas, e, no fim, perguntava ao padre: “Não é verdade que o nosso jovem amigo caminha depressa?” Chamava-me “um prodígio”; dizia a minha mãe ter conhecido outrora meninos muito inteligentes, mas que eu excedia a todos esses, sem contar que, para a minha idade, possuía já certo número de qualidades morais sólidas. Eu, posto não avaliasse todo o valor deste outro elogio, gostava do elogio; era um elogio.

(Machado de Assis, *Dom Casmurro*)

11. No contexto em que estão empregadas, as passagens – Aos oito anos os meus plurais careciam, alguma vez, da desinência exata... – e – “Não é verdade que o nosso jovem amigo caminha depressa?” – permitem, correta e respectivamente, as interpretações:

- (A) o narrador confundia-se com a concordância das palavras aos oito anos; José Dias divergia do Padre Cabral quanto aos avanços na aprendizagem do narrador.
- (B) o narrador passou a cometer erros de concordância aos oito anos; José Dias tinha dúvidas se o progresso do narrador nos estudos era bom.
- (C) o narrador incorria em erros de concordância quando tinha oito anos; José Dias considerava que o narrador avançava rápido nos estudos.
- (D) o narrador cometeu erros de concordância por oito anos; José Dias se incomodava com o desenvolvimento cognitivo lento do narrador.
- (E) o narrador passou a dominar a concordância aos oito anos; José Dias concordava com o Padre Cabral sobre o fato de o narrador ser ótimo aluno.

12. Na passagem – Eu, **posto** não avaliasse todo o valor deste outro elogio, gostava do elogio; era um elogio. –, o termo destacado estabelece entre as orações relação de sentido de
- (A) condição, podendo ser substituído por “caso”.
 - (B) causa, podendo ser substituído por “uma vez que”.
 - (C) concessão, podendo ser substituído por “embora”.
 - (D) finalidade, podendo ser substituído por “para que”.
 - (E) comparação, podendo ser substituído por “como”.
13. No texto, o sinal indicativo da crase poderia ser empregado no termo destacado em:
- (A) ... dizia **a** minha mãe ter conhecido outrora meninos muito inteligentes...
 - (B) ... os meus plurais **careciam**, alguma vez, da desinência exata, ele **a** corrigia...
 - (C) A primeira **cousa** que consegui logo que comecei **a** andar fora...
 - (D) ... para **a** minha idade, possuía já certo número de qualidades morais sólidas.
 - (E) ... mas que eu excedia **a** todos esses...
14. Na passagem – José Dias tratava-me com extremos de mãe e atenções de servo. A primeira coisa que consegui logo que comecei a andar fora, foi dispensar-me o pajem; fez-se pajem, ia comigo à rua. –, o relato se dá pela perspectiva do narrador. Caso o narrador fosse José Dias, o enunciado assumiria a seguinte redação, de acordo com a norma-padrão:
- (A) Tratava à ele com extremos de mãe e atenções de servo. A primeira coisa que conseguiu, logo que começou a andar fora, foi dispensar o pajem dele; fiz-me pajem, ia comigo à rua.
 - (B) Tratava-lhe com extremos de mãe e atenções de servo. A primeira coisa que conseguiu, logo que começou a andar fora, foi dispensar-me o pajem; fiz-lhe pajem, ia consigo à rua.
 - (C) Tratava-o com extremos de mãe e atenções de servo. A primeira coisa que conseguiu, logo que começou a andar fora, foi que me dispensasse o pajem; fiz-me pajem, ia consigo à rua.
 - (D) Tratava-o com extremos de mãe e atenções de servo. A primeira coisa que conseguiu, logo que começou a andar fora, foi que lhe dispensasse o pajem; fiz-me pajem, ia com ele à rua.
 - (E) Tratava ele com extremos de mãe e atenções de servo. A primeira coisa que consegui, logo que ele começou a andar fora, foi dispensar-lhe o pajem; fiz-me pajem, ia comigo à rua.
15. De acordo com o narrador, os seus plurais “careciam, alguma vez, da desinência exata” e eram, então, corrigidos por José Dias, que também corrigiria o plural em:
- (A) Havia no olhar das pessoas muitas interrogações sobre a organização das feiras e eventos.
 - (B) Na sala, havia umas pessoas desconhecidas e, sobre a mesa, livros e revistas amareladas.
 - (C) Eles haviam permanecido calados durante a aula, depois de bastantes broncas recebidas.
 - (D) Os maiores problemas com as leis que já havia ocorrido eram corrigidos rápido por ele.
 - (E) Ali na sala estavam muitos livros de literatura brasileira, e muitos deles eu já havia lido.
16. Assinale a alternativa em que o primeiro termo destacado exprime intensidade, e o segundo, indefinição.
- (A) A primeira **cousa** que consegui... / Aos oito anos os meus plurais **careciam**, **alguma** vez, da desinência exata...
 - (B) ... dizia a minha mãe ter conhecido outrora meninos **muito** inteligentes... / ... possuía já **certo** número de qualidades morais sólidas.
 - (C) José Dias tratava-me com **extremos** de mãe... / ... que eu excedia a todos esses, sem contar que, para **a minha** idade...
 - (D) Ajudava **assim** o mestre de primeiras letras. / ... dizia a minha mãe ter conhecido **outrora** meninos muito inteligentes...
 - (E) ... mas que eu excedia **a todos** esses... / ... **posto** não avaliasse todo o valor deste **outro** elogio, gostava do elogio...
17. Na passagem – Aos oito anos os meus plurais **careciam**, alguma vez, da desinência exata, ele **a corrigia**, meio sério para **dar** autoridade à lição... –, a regência e o sentido das formas verbais destacadas mantêm-se inalterados, se elas forem substituídas, correta e respectivamente, por:
- (A) dispensavam; alterava; coibir.
 - (B) enfatizavam; arrumava; excluir.
 - (C) ocultavam; discordava; solicitar.
 - (D) exigiam; divergia; estabelecer.
 - (E) precisavam; consertava; conferir.

18. José Dias, sentindo-se apto _____ pajear o garoto, passou a zelar, inclusive, _____ sua prosódia. À mãe do menino disse que este era possuidor _____ certo número de qualidades morais.

De acordo com a norma-padrão, as lacunas do enunciado devem ser preenchidas, respectivamente, com:

- (A) para ... em ... em
- (B) a ... com ... com
- (C) a ... de ... de
- (D) em ... sobre ... a
- (E) de ... pela ... de

19. Assinale a alternativa em que o substantivo destacado forma, com a preposição que o acompanha, uma expressão com valor de adjetivo.

- (A) José Dias tratava-me com extremos **de mãe**...
- (B) ... fez-se pajem, ia comigo **à rua**.
- (C) ... gostava **do elogio**; era um elogio.
- (D) ... meio sério para dar autoridade **à lição**...
- (E) ... perguntava **ao padre**...

Leia o texto para responder às questões de números 20 a 23.

Barbárie nas redes sociais

A covardia e a barbárie dos recentes ataques a escolas no País jogaram luz sobre a violência que se propaga na internet e sobre o papel das redes sociais na incitação a esse tipo de crime. Uma amostra do tamanho do problema acaba de ser divulgada pelo Ministério da Justiça e Segurança Pública: em poucos dias, a recém-lançada Operação Escola Segura solicitou a exclusão de 431 contas do Twitter que continham palavras-chave – as chamadas *hashtags* – relacionadas a ataques contra escolas em diferentes localidades do Brasil. Foram feitos pedidos também à plataforma TikTok para que retirasse do ar três perfis cujo conteúdo relacionado ao tema buscava espalhar medo na população.

Infelizmente, tais contas são apenas a ponta do *iceberg* – e as redes sociais abrigam um volume infinitamente maior de grupos que se valem do mundo virtual para estimular a prática de atentados em estabelecimentos de ensino. Não surpreende, portanto, que as atenções se voltem para as plataformas digitais e para a sua responsabilidade no sentido de impedir a propagação de crimes. Sem dúvida, essas empresas têm muito a fazer, e se engana quem pensa que a internet é terra sem lei.

No Brasil, o Marco Civil da Internet define direitos e obrigações para usuários e provedores. Eis uma realidade que não pode passar despercebida: por mais que aperfeiçoamentos legislativos sejam sempre bem-vindos, o País dispõe de um marco legal sobre o tema – e é a partir dele que as redes sociais devem pautar sua atuação.

O uso da internet e de redes sociais em ataques a escolas, assim como em outros crimes bárbaros, é fenômeno global – um triste sinal dos tempos que precisa ser combatido com rigor e redobrado empenho também no mundo virtual. Eis uma tarefa para múltiplos atores, desafio que requer a ação do governo e da sociedade. Evidentemente, parte importante dessa responsabilidade cabe às plataformas, que podem e devem agir mais.

(Opinião. Em: <https://www.estadao.com.br/opinião>, 12.04.2023. Adaptado)

20. De acordo com as informações do texto, quanto à atuação das redes sociais no Brasil no que diz respeito aos crimes estimulados virtualmente, é correto afirmar que elas

- (A) contêm volume inexpressivo de grupos que incitam a violência entre os jovens.
- (B) estão alinhadas à legislação do país, sendo extremamente rigorosas com os usuários.
- (C) se omitem em relação a esses crimes, devido à falta de uma legislação específica.
- (D) estimulam a propagação de discursos de ódio, porque a maioria da sociedade os quer.
- (E) abrigam *hashtags* relacionadas a conteúdo de violência contra várias escolas no país.

21. Identifica-se uma opinião na seguinte passagem:

- (A) ... em poucos dias, a recém-lançada Operação Escola Segura solicitou a exclusão de 431 contas do Twitter... (1º parágrafo)
- (B) ... um triste sinal dos tempos que precisa ser combatido com rigor e redobrado empenho também no mundo virtual. (4º parágrafo)
- (C) No Brasil, o Marco Civil da Internet define direitos e obrigações para usuários e provedores. (3º parágrafo)
- (D) Foram feitos pedidos também à plataforma TikTok para que retirasse do ar três perfis... (1º parágrafo)
- (E) O uso da internet e de redes sociais em ataques a escolas, assim como em outros crimes bárbaros, é fenômeno global... (4º parágrafo)

22. No texto, a passagem do 2º parágrafo – ... tais contas são apenas a ponta do *iceberg*... – permite entender que

- (A) a justiça deveria esquecer essas contas e investigar outros crimes.
- (B) a exclusão das contas terá como efeito imediato o fim das ameaças.
- (C) o problema é muito mais complexo do que a eliminação de contas.
- (D) as contas escondem outros problemas, de fácil identificação.
- (E) as contas pertencem a perfis que pouco incitam a violência.

23. Assinale a alternativa em que o enunciado atende à norma-padrão de colocação pronominal.

- (A) Parte importante da responsabilidade sobre as mensagens evidentemente se estende às plataformas, que podem e devem agir mais.
- (B) Se engana quem pensa que a internet é terra sem lei, pois as plataformas têm responsabilidade na propagação de crimes.
- (C) A sociedade não surpreende-se com o fato de as atenções se voltarem para as plataformas digitais e para a sua responsabilidade.
- (D) A covardia e a barbárie dos recentes ataques a escolas no País jogaram luz sobre a violência que tem propagado-se na internet.
- (E) Por mais que promovam-se aperfeiçoamentos legislativos sempre bem-vindos, o País dispõe de um marco legal sobre o tema.

24. Assinale a alternativa em que a forma verbal destacada está flexionada em conformidade com a norma-padrão.

- (A) Quando uma pessoa **ver** um conteúdo criminoso nas redes sociais, deverá comunicar as autoridades imediatamente.
- (B) Se as plataformas **fazerem** de conta que a violência não existe no mundo virtual, dará condições de elas aumentarem ainda mais.
- (C) Os ataques às escolas são uma realidade incontestada, para evitar novas ocorrências, a autoridade pública já **interviu** com rigor.
- (D) Para enfrentar as dificuldades que **sobrevierem** no combate à violência, as redes sociais devem valer-se do Marco Civil da Internet.
- (E) Se as plataformas se **manterem** omissas em relação à violência virtual, provavelmente as agressões no mundo real aumentarão.

CONHECIMENTOS EM DIREITO

DIREITO PENAL

25. A falsificação de selo destinado a controle tributário configura crime de

- (A) falsificação do selo ou sinal público.
- (B) falsificação de cartão.
- (C) reprodução ou adulteração de selo.
- (D) petrechos de falsificação.
- (E) falsificação de papéis públicos.

26. É correto dizer que o crime de falsa identidade é um crime subsidiário?

- (A) Sim, pois a conduta apenas é punida com realização de exame que comprove a falsidade.
- (B) Não.
- (C) Sim, pois só é aplicada sua pena se o fato não constitui elemento de crime mais grave.
- (D) Sim, pois a conduta apenas é punida quando praticada com intenção.
- (E) Sim, pois trata-se de Crime Contra a Fé Pública.

27. Com relação ao artigo 308 do CP, desde que o fato não constitua elemento de crime mais grave, é correto afirmar:

- (A) aquele que cede passaporte próprio para uso alheio é punido mais gravemente do que aquele que utiliza passaporte alheio como próprio.
- (B) aquele que utiliza passaporte alheio como próprio é punido mais gravemente do que aquele que cede passaporte próprio para uso alheio.
- (C) apenas é punido aquele que cede passaporte próprio para uso alheio, não sendo punido aquele que utiliza passaporte alheio como próprio.
- (D) aquele que utiliza passaporte alheio como próprio e aquele que cede o passaporte próprio para uso alheio são igualmente punidos.
- (E) apenas é punido aquele que utiliza passaporte alheio como próprio, não sendo punido aquele que cede passaporte próprio para uso alheio.

28. No crime de excesso de exação, o crime é qualificado se

- (A) cometido por meio vexatório ou gravoso, que a lei não autoriza.
- (B) o funcionário desvia, em proveito próprio ou de outrem, o que recebeu indevidamente para recolher aos cofres públicos.
- (C) o funcionário pratica ato de ofício, com infração de dever funcional, cedendo a pedido ou influência de outrem.
- (D) praticado por funcionário público.
- (E) resulta dano para a Administração Pública ou para o administrado.

29. O crime do artigo 337 do CP tem como objeto material, ou seja, coisa que sofre a ação criminosa, "livro oficial, processo ou documento confiado à custódia de funcionário, em razão de ofício, ou de particular em serviço público." É correto afirmar que o crime está configurado se

- (A) houver subtração, não se configurando em caso de inutilização.
- (B) houver inutilização, não se configurando em caso de subtração, pois esta configura outro crime.
- (C) o autor da ação criminosa for funcionário público, não se configurando se o autor não ostentar tal condição.
- (D) houver subtração ou inutilização, sejam elas totais ou parciais.
- (E) o objeto material for totalmente inutilizado, não se configurando se for parcialmente inutilizado.

30. Aquele que se acusa, perante a autoridade, de crime inexistente

- (A) pratica crime de falso testemunho.
- (B) pratica crime de comunicação falsa de crime.
- (C) pratica crime de autoacusação falsa.
- (D) não pratica crime algum, pois não há vítima.
- (E) pratica crime de fraude processual.

DIREITO PROCESSUAL PENAL

31. Nos termos do artigo 252 do CPP, o juiz fica impedido de atuar e não poderá exercer a jurisdição no processo se

- (A) tiver funcionado como juiz de outra instância, renunciando-se, de fato ou de direito, sobre a questão.
- (B) tiver aconselhado qualquer das partes.
- (C) for amigo íntimo ou inimigo capital de qualquer das partes.
- (D) ele, seu cônjuge, ascendente ou descendente, estiver respondendo a processo por fato análogo, sobre cujo caráter criminoso haja controvérsia.
- (E) for sócio, acionista ou administrador de sociedade interessada no processo.

32. Assinale a alternativa correta com relação às normas dos artigos 261 a 267 do CPP.

- (A) Dispensa-se curador ao acusado menor, desde que acompanhado de advogado.
- (B) A ausência do defensor, ainda que justificada, não pode resultar no adiamento da audiência, que seguirá mediante a nomeação de advogado dativo.
- (C) É direito do acusado nomear defensor particular de sua confiança, contudo, poderá o juiz recusá-lo diante da incapacidade técnica do profissional.
- (D) Ao defensor público ou dativo é facultado deixar de apresentar manifestação fundamentada, tendo em vista que não tem relação de confiança com o acusado.
- (E) Nenhum acusado, ainda que ausente ou foragido, será processado ou julgado sem defensor.

33. Nos termos do artigo 361 do CPP, o réu que não for encontrado

- (A) será citado por edital, com prazo de 15 (quinze) dias.
- (B) será citado por carta precatória ou rogatória.
- (C) será citado por hora certa, de acordo com as regras do CPC.
- (D) será declarado revel, com nomeação de defensor público para exercício de sua defesa.
- (E) terá nomeado defensor dativo, que velará por sua defesa.

34. De acordo com o artigo 394-A do CPP, terão prioridade de tramitação em todas as instâncias os processos que

- (A) apurem a prática de crime de intolerância ou violência em razão do gênero.
- (B) tenham idosos como acusados ou vítimas.
- (C) apurem a prática de crime racial.
- (D) apurem a prática de crime hediondo.
- (E) tenham idosos como vítimas.

35. No procedimento comum sumário, de acordo com o artigo 534 do CPP, “as alegações finais serão orais, concedendo-se a palavra, respectivamente, à acusação e à defesa, pelo prazo de 20 (vinte) minutos, prorrogáveis por mais 10 (dez), proferindo o juiz, a seguir, sentença.” Havendo mais de um acusado,
- (A) deve o juiz determinar a conversão dos debates em apresentação de memoriais escritos.
 - (B) o procedimento sumário deve ser convertido em comum ordinário, dada a complexidade da causa.
 - (C) o tempo previsto para a defesa de cada um será individual.
 - (D) o tempo da acusação será dobrado, assim como o da defesa.
 - (E) a sentença deve ser exarada por escrito, em até 10 dias.
36. Nos termos do artigo 593 do CPP, caberá apelação no prazo de 5 (cinco) dias da sentença
- (A) denegatória da ordem de *habeas corpus*.
 - (B) homologatória ou denegatória da proposta de acordo de não persecução penal.
 - (C) que revogar medida de segurança.
 - (D) definitiva de condenação ou absolvição proferida por juiz singular.
 - (E) que julgar procedentes as exceções, salvo a de suspeição.
37. Na audiência preliminar do artigo 72 da Lei nº 9.099/95, presente o representante do Ministério Público, o autor do fato e a vítima e, se possível, o responsável civil, acompanhados por seus advogados, o juiz
- (A) procederá à oitiva do ofendido e do acusado, nesta ordem; em seguida, determinará data para realização de audiência de instrução.
 - (B) esclarecerá sobre a possibilidade da composição dos danos e da aceitação da proposta de aplicação imediata de pena não privativa de liberdade.
 - (C) esclarecerá sobre a possibilidade da composição dos danos e, sendo esta infrutífera, abrirá vista dos autos para oferecimento de denúncia ou queixa, que sempre deve ser escrita.
 - (D) buscará a conciliação; sendo esta infrutífera, fixará os pontos controvertidos e decidirá sobre as provas a serem produzidas.
 - (E) dará a palavra ao defensor para responder à acusação, após o que o juiz receberá, ou não, a denúncia ou queixa.
38. Manuel propôs ação de reparação de danos materiais em face de Afonso. A ação foi distribuída perante a 5ª Vara Cível da Comarca de Montes Claros. Assim que a ação foi distribuída, Manuel buscou informações na internet sobre o juiz titular, Francisco, e descobriu que ele é amigo íntimo de Afonso.
- Diante da situação hipotética, assinale a alternativa correta.
- (A) Caso Francisco não reconheça o pedido de suspeição, distribuirá o incidente ao tribunal. Enquanto o relator não declarar o efeito em que é recebido o incidente, não será possível o pedido de tutela de urgência.
 - (B) Manuel terá o prazo de 5 (cinco) dias, a contar do conhecimento do fato, para, em petição específica, alegar o impedimento de Francisco.
 - (C) Acolhida a alegação, tratando-se de manifesta suspeição, o tribunal condenará Francisco nas custas e remeterá os autos ao seu substituto legal, sendo cabível recurso da decisão.
 - (D) Reconhecido o impedimento de Francisco, todos os atos do processo serão anulados.
 - (E) Manuel deverá aguardar a primeira oportunidade para falar nos autos para apresentar o pedido de suspeição de Francisco.
39. Tramitam em segredo de justiça os processos
- (A) que versem sobre arbitragem, inclusive sobre cumprimento de carta arbitral, ainda que não haja comprovação da confidencialidade perante o juízo.
 - (B) que versem sobre bem de família, filiação, alimentos e guarda de crianças e adolescentes.
 - (C) em que o exija o interesse público, social ou econômico.
 - (D) que versem sobre casamento, separação de corpos, divórcio, separação, união estável, inventário e partilha.
 - (E) em que constem dados protegidos pelo direito constitucional à intimidade.

40. Matilda sofreu um acidente de carro e necessita de uma cirurgia de urgência, mas, ao dar entrada no hospital, descobre que o seu plano de saúde não concedeu a autorização para a realização da cirurgia. Diante da urgência, Matilda opta por propor uma ação judicial pedindo tutela antecipada em caráter antecedente, nos termos do artigo 303 do Código de Processo Civil, para autorizar a cirurgia imediatamente e evitar risco de morte. O juiz concede a tutela antecipada para autorizar a cirurgia imediatamente.

Diante da situação hipotética, Matilda

- (A) deverá indicar na petição inicial o valor da causa, que deve levar em consideração o pedido de tutela final.
- (B) deverá aditar a petição inicial, com a complementação de sua argumentação, a juntada de novos documentos e a confirmação do pedido de tutela final em 30 (trinta) dias ou em outro prazo maior que o juiz fixar.
- (C) poderá aditar a petição inicial nos mesmos autos, mediante recolhimento de custas processuais complementares.
- (D) terá o processo extinto, se não realizar o aditamento da petição inicial, com resolução do mérito, não sendo possível a repropositura da demanda.
- (E) não poderá indicar que seu pedido é limitado ao requerimento da tutela antecipada, tendo em vista o princípio da acessoriedade necessária da tutela provisória.

41. No que diz respeito ao julgamento das ações relativas às prestações de fazer, de não fazer e de entregar coisa, assinale a alternativa correta.

- (A) Para a concessão da tutela específica, destinada a inibir a prática, a reiteração ou a continuação de um ilícito, ou a sua remoção, é necessária a demonstração da existência de culpa ou dolo.
- (B) Na ação que tenha por objeto a emissão de declaração de vontade, a sentença que julgar procedente o pedido, mesmo antes de transitada em julgado, produzirá apenas os efeitos da declaração não emitida.
- (C) A indenização por perdas e danos dar-se-á sem prejuízo da multa fixada periodicamente para compelir o réu ao cumprimento específico da obrigação, desde que mediante requerimento da parte.
- (D) A obrigação somente será convertida em perdas e danos se o autor o requerer ou se impossível a tutela específica ou a obtenção de tutela pelo resultado prático equivalente.
- (E) Se procedente o pedido, concederá a tutela específica, não sendo possível a determinação de providências que assegurem a obtenção de tutela pelo resultado prático equivalente.

42. Agatha iniciou um processo em autos eletrônicos no qual propôs ação de obrigação de fazer em face de uma Autarquia Municipal. Houve a citação, apresentação de contestação, produção de provas e, por fim, a sentença foi julgada improcedente. Inconformada, decidiu interpor o recurso de apelação.

Diante da situação hipotética, é correto afirmar que Agatha

- (A) será intimada, na pessoa de seu advogado, para realizar o recolhimento em dobro, sob pena de deserção se não comprovar, no ato de interposição do recurso, o recolhimento do preparo, inclusive porte de remessa e de retorno.
- (B) não será punida com a aplicação da pena de deserção se, na hipótese de dúvida quanto ao recolhimento, em razão de um equívoco no preenchimento da guia de custas, o relator a intimar para sanar o vício no prazo de 5 dias.
- (C) está dispensada de realizar o recolhimento do preparo e do porte de remessa e de retorno por se tratar de processo em autos eletrônicos.
- (D) está dispensada de realizar o recolhimento do preparo e do porte de remessa e de retorno por se tratar de ação na qual figura como parte uma Autarquia Municipal.
- (E) poderá, no prazo de 5 (cinco) dias, efetuar o preparo se provar justo impedimento, caso em que o relator relevará a pena de deserção, sendo cabível recurso com efeito suspensivo por parte da Autarquia Municipal, em face desta decisão.

43. Acerca do pedido no Juizado Especial Cível, assinale a alternativa correta.

- (A) Os pedidos poderão ser alternativos, subsidiários ou cumulados, ainda que não conexos, desde que a soma não ultrapasse o limite de quarenta salários mínimos.
- (B) Em que pese a aplicação do princípio da oralidade estar previsto na Lei dos Juizados Especiais Cíveis, não é possível instaurar o processo apenas com a apresentação de pedido oral.
- (C) Havendo pedidos contrapostos, poderá ser dispensada a contestação formal e ambos serão apreciados na mesma sentença.
- (D) Registrado o pedido, realizada a distribuição e autuação, a Secretaria do Juizado designará a sessão de conciliação, a realizar-se no prazo de trinta dias.
- (E) É lícito formular o pedido à Secretaria do Juizado, desde que certo e determinado, por meio do sistema de fichas ou formulários impressos.

44. Assinale a alternativa correta acerca dos conciliadores e juízes leigos no Juizado Especial da Fazenda Pública.
- (A) Cabe ao conciliador, sob a supervisão do juiz leigo, conduzir a audiência de conciliação.
 - (B) Os juízes leigos serão recrutados entre advogados com mais de cinco anos de experiência.
 - (C) Os conciliadores, ao contrário dos juízes leigos, são auxiliares da Justiça e poderão ser estudantes de ensino superior, desde que capacitados de acordo com a resolução do CNJ.
 - (D) Os juízes leigos ficarão impedidos de exercer a advocacia perante o Juizados Especiais da Fazenda Pública, instalados em território nacional, durante o desempenho de suas funções e nos dois anos subsequentes.
 - (E) Poderá o conciliador, para fins de encaminhamento da composição amigável, ouvir as partes e testemunhas sobre os contornos fáticos da controvérsia.

DIREITO CONSTITUCIONAL

45. Considere que Catarina é russa e há dezesseis anos ininterruptos reside no Brasil, no estado de São Paulo. Com base na situação hipotética e no disposto na Constituição Federal, é correto afirmar que Catarina
- (A) poderá ser naturalizada após comprovar que vive há vinte anos no Brasil e então poderá ocupar cargo da carreira diplomática.
 - (B) se não tiver condenação penal e se requerer a nacionalidade brasileira, será considerada como naturalizada.
 - (C) para ser considerada como naturalizada, poderá ter condenação penal, desde que não seja por tráfico de drogas.
 - (D) para adquirir a nacionalidade brasileira deverá comprovar ter ensino superior.
 - (E) precisa comprovar idoneidade moral e requerer expressamente a nacionalidade brasileira para ser considerada como naturalizada.
46. Assinale a alternativa que contém todos os símbolos da República Federativa do Brasil.
- (A) A bandeira, os hinos, a Constituição Federal e o Congresso Nacional.
 - (B) A Constituição Federal, a bandeira, os hinos e o Supremo Tribunal Federal.
 - (C) As bandeiras, os hinos, a Capital Federal e a Constituição Federal.
 - (D) A bandeira, o hino, as armas e o selo nacionais.
 - (E) O Congresso Nacional, a bandeira, os hinos e o Supremo Tribunal Federal.

47. Considere que Letícia é ocupante do cargo de professora com efetivo exercício das funções de magistério no ensino médio no âmbito do Estado X, que adota o regime próprio de previdência e prevê os mesmos requisitos para aposentadoria que a União. Com base na situação hipotética e no disposto na Constituição Federal, é correto afirmar que Letícia somente poderá se aposentar a partir dos
- (A) 65 anos, visto que com a reforma da previdência vedou-se a contagem de tempo de contribuição fictício.
 - (B) 57 anos, desde que cumpra os demais requisitos exigidos.
 - (C) 62 anos, pois a reforma da previdência extinguiu o benefício da contagem diferenciada do tempo de contribuição.
 - (D) 60 anos, desde que cumpra os demais requisitos exigidos em lei complementar.
 - (E) 52 anos, na forma da lei complementar.

48. Considere que João é trabalhador rural e obteve a informação de que a sua empresa empregadora apresentou ao sindicato da categoria profissional proposta de acordo coletivo para reduzir o salário dos funcionários, bem como regular alguns temas da relação de emprego. João, então, procura o sindicato para obter informações sobre a proposta de acordo e sobre os direitos sociais que a Constituição Federal lhe assegura. Com base nessa situação hipotética e no disposto na Constituição, é correto afirmar que
- (A) a Constituição já assegura a assistência gratuita aos filhos e dependentes desde o nascimento até 5 (cinco) anos de idade em creches e pré-escolas.
 - (B) a Constituição assegura que, caso seja concedido seguro contra acidente de trabalho e esse seja custeado pelo empregador, a conduta excluirá a responsabilidade deste por indenização em caso de culpa.
 - (C) a proposta de acordo coletivo não poderá ser aceita, pois a Constituição Federal veda a redução do salário.
 - (D) o acordo não precisará dispor sobre o aviso prévio dos trabalhadores, pois a Constituição já assegura que este será proporcional ao tempo de serviço e não inferior a quinze dias.
 - (E) a Constituição não estipula a proteção do emprego rural em face do processo de automação, devendo esse tema ser regulado no acordo coletivo.

49. A respeito dos Servidores Públicos, assinale a alternativa que está de acordo com o exposto na Constituição Federal.
- Os Poderes Executivo, Legislativo e Judiciário publicarão mensalmente os valores do subsídio e da remuneração dos cargos e empregos públicos.
 - Admite-se em situações excepcionais a incorporação de vantagens de caráter temporário ao exercício de função de confiança à remuneração do cargo efetivo.
 - Os Secretários Estaduais e Municipais serão remunerados exclusivamente por subsídio fixado em parcela única, vedado o acréscimo de qualquer gratificação.
 - A União, os Estados e os Municípios manterão escolas de governo para a formação e o aperfeiçoamento dos servidores públicos.
 - A fixação dos padrões de vencimento do sistema remuneratório observará, entre outras coisas, o grau de dificuldade exigido no concurso público.
50. Considere que Josué é servidor público titular de cargo efetivo no âmbito do Município ABC e há um ano ele teve um Acidente Vascular Cerebral que o deixou com sequelas neurológicas, mas não o incapacitou para todo o tipo de trabalho. Josué ocupava cargo de nível superior, mas atualmente não possui mais capacidade mental para exercer suas atribuições originárias. Com base na situação hipotética e no disposto na Constituição Federal, é correto afirmar que Josué
- poderá ser readaptado para cargo cujas atribuições e responsabilidades sejam compatíveis com suas limitações mentais, desde que possua a habilitação e o nível de escolaridade exigidos para o cargo de destino, auferindo a remuneração do novo cargo.
 - não poderá ser reintegrado a um cargo diverso, sob pena de ofensa ao princípio constitucional do concurso público.
 - poderá ser reintegrado para cargo compatível com suas limitações mentais, desde que possua a habilitação e o nível de escolaridade exigidos para o cargo de destino, auferindo a remuneração do cargo atual.
 - não poderá ser readaptado para um cargo diferente, uma vez que, ao ser aprovado em um concurso público, é vedada a mudança de cargo.
 - poderá ser readaptado para cargo cujas atribuições e responsabilidades sejam compatíveis com suas limitações mentais, desde que possua a habilitação e o nível de escolaridade exigidos para o cargo de destino, mantida a remuneração do cargo de origem.
51. De acordo com o exposto na Constituição Federal, as Turmas Recursais
- subordinam-se ao Conselho Nacional de Justiça e têm jurisdição em todo o território nacional.
 - vinculam-se diretamente ao Tribunal de Justiça respectivo e têm jurisdição em todo o território nacional.
 - não são órgãos do Poder Judiciário.
 - são órgãos autônomos do Poder Judiciário.
 - são órgãos autárquicos do Poder Judiciário.
52. Considere que João é servidor público vinculado ao Tribunal de Justiça de São Paulo e praticou conduta considerada como abuso de poder e que também é definida em lei como de improbidade, durante o horário de expediente forense e nas dependências de uma Vara Cível. Maria é advogada e presenciou a cena em que o ilícito foi cometido. Diante da situação hipotética e com base na Lei nº 10.261/68, é correto afirmar que
- caso o ato tenha sido presenciado por outro servidor público, a este é conferida a faculdade de representar ao seu superior hierárquico, no prazo de 15 dias.
 - João deverá ser suspenso por prazo não superior a 90 dias e ser-lhe-á facultado ser representado por advogado no processo disciplinar.
 - caso seja aplicada pena disciplinar de suspensão, João terá o prazo de 15 dias para interpor recurso.
 - Maria, como qualquer pessoa, poderá representar João, e a ele deverá ser aplicada a pena de demissão a bem do serviço público.
 - a Maria é assegurado, por ser advogada, o direito de representar contra a ilegalidade, e a pena aplicável ao caso se sujeita ao prazo de prescrição de 2 anos.
53. A respeito da extinção da punibilidade da pena disciplinar pela prescrição, com base na Lei nº 10.261/68, assinale a alternativa correta.
- A prescrição começa a correr, nas faltas continuadas ou permanentes, do dia em que tenha se iniciado a continuação ou permanência.
 - O lapso prescricional corresponde, na hipótese de desclassificação, ao da pena efetivamente aplicada.
 - A prescrição é interrompida durante o prazo estabelecido para o cumprimento do Termo de Ajustamento de Conduta.
 - A extinção da punibilidade pela prescrição não autoriza a autoridade julgadora a determinar o registro do fato nos assentamentos individuais do servidor.
 - É causa de suspensão do prazo prescricional a expedição da portaria que instaura processo disciplinar.

- 54.** Considere que Isafas é servidor público e teve contra si aplicada pena disciplinar. Inconformado com a decisão, decide interpor recurso. Com base na situação hipotética e no disposto na Lei nº 10.261/68, é correto afirmar que
- (A) o recurso deverá ser apresentado à autoridade que deverá julgá-lo, salvo se Isafas desejar que a autoridade que aplicou a pena exerça um juízo de retratação.
 - (B) na hipótese de a decisão recorrida ser mantida pela autoridade que julgou o recurso, Isafas poderá, a qualquer tempo, apresentar pedido de reconsideração, caso surjam fatos ou circunstâncias ainda não apreciados no processo.
 - (C) o recurso será apreciado, ainda que incorretamente denominado ou endereçado à autoridade incompetente.
 - (D) o recurso deverá ser interposto no prazo de 20 dias, a contar da publicação da decisão impugnada no Diário Oficial do Estado.
 - (E) o recurso terá efeito suspensivo e, na sua elaboração, o recorrente deverá indicar, além do seu nome e qualificação, a exposição das razões de seu inconformismo.
- 55.** De acordo com a Lei nº 10.261/68, o processo disciplinar será concluído, em regra, no prazo de até
- (A) 90 dias.
 - (B) 60 dias.
 - (C) 120 dias
 - (D) 180 dias.
 - (E) 30 dias.
- 56.** Considere que José é agente público recém-empossado no Estado de São Paulo e está desenvolvendo um projeto de pesquisa sobre justiça restaurativa no âmbito administrativo. Durante as suas investigações descobriu que a Lei nº 10.261/68 possui um longo regramento sobre Práticas Autocompositivas, Termo de Ajustamento de Conduta e Suspensão Condicional da Sindicância, o que o motiva a procurar o setor responsável pela implantação prática da Lei. Com base na situação hipotética, um servidor público desse Setor poderá informar, de forma correta, a José que
- (A) o cumprimento das condições de Termo de Ajustamento de Conduta importará na minoração da pena disciplinar aplicável, e o prazo para o cumprimento de suas condições não poderá ser inferior a 2 anos.
 - (B) a autoridade competente para apuração da irregularidade e o Procurador responsável pela condução do processo poderão, em qualquer fase, encaminhar o caso para as práticas autocompositivas, o que importará na suspensão do processo disciplinar e na suspensão do prazo prescricional.
 - (C) as sessões de práticas autocompositivas serão conduzidas por um Procurador do Estado e realizadas em ambiente que assegure a publicidade do processo e a indisponibilidade do interesse público.
 - (D) a celebração de acordo em sessão autocompositiva ensejará a extinção de punibilidade caso a conduta do funcionário não gere prejuízo ao erário e sejam cabíveis, em tese, as penas de repreensão, suspensão e multa.
 - (E) o Termo de Ajustamento de Conduta não poderá ser adotado nos casos de extravio ou dano a bem público praticado de forma culposa por servidor público.
- 57.** A respeito das penas aplicadas com base na Lei nº 8.429/92, é correto afirmar que
- (A) a aplicação das penas previstas na Lei de Improbidade depende, em regra, da efetiva ocorrência de dano ao patrimônio público.
 - (B) no caso de procedência da ação de improbidade, as custas e as demais despesas processuais serão pagas ao final.
 - (C) as sentenças civis e penais não produzirão efeitos em relação à ação de improbidade administrativa, dada a diferença de natureza jurídica das infrações envolvidas em cada uma delas.
 - (D) as sanções eventualmente aplicadas em outras esferas não poderão ser compensadas com as sanções aplicadas nos termos da Lei de Improbidade Administrativa.
 - (E) na apuração dos ilícitos de que trata a Lei, a critério do Ministério Público, poderá ser autorizada a junta de manifestação escrita do investigado e documentos que auxiliem na elucidação dos fatos.

58. Considere que Matias e Zenóbio foram aprovados em concurso público e convocados para posse e exercício nas respectivas funções. A portaria publicada no Diário Oficial indica, dentre os documentos exigidos, a necessidade de apresentar declaração de bens à repartição competente. Com base na situação hipotética e no disposto na Lei nº 8.429/92, é correto afirmar que
- (A) não é necessário fornecer declaração de imposto de renda, bastando para o início do exercício o fornecimento de declaração escrita que compreenda imóveis, móveis, semoventes, dinheiro, títulos, ações e qualquer outra espécie de bens e valores patrimoniais, localizados no País ou no exterior.
 - (B) caso cumpram as formalidades legais iniciais para a posse e exercício, serão punidos com a pena de suspensão, sem prejuízo de outras sanções cabíveis, caso venham a, no futuro, recusar-se a prestar declaração dos bens, dentro do prazo determinado.
 - (C) as declarações de imposto de renda deverão ser apresentadas no momento da posse e da extinção do vínculo com a Administração, ficando autorizada a autoridade competente a exigir a sua renovação anual.
 - (D) ambos poderão entrar em exercício e apresentar, no prazo de até 30 dias, a declaração de imposto de renda que tenha sido fornecida à Secretaria Especial da Receita Federal do Brasil.
 - (E) a posse e o exercício de ambos ficarão condicionados à apresentação de declaração de imposto de renda e proventos de qualquer natureza, que tenha sido apresentada à Secretaria Especial da Receita Federal do Brasil, a fim de ser arquivada no serviço de pessoal competente.
59. Com base na Lei nº 8.429/92, a respeito das ações de improbidade administrativa, o dolo
- (A) não é indispensável para a prática da improbidade administrativa, já que a Lei admite a punição de condutas culposas.
 - (B) estará configurado com o mero exercício da função pública.
 - (C) corresponde à vontade livre e consciente de alcançar os ilícitos tipificados em lei.
 - (D) também estará configurado caso o agente público pratique ato identificado como erro grave.
 - (E) confunde-se com a voluntariedade do agente em praticar a conduta.

NORMAS DA CORREGEDORIA GERAL DA JUSTIÇA

60. Considere que João é escrevente judiciário e recebeu mensagem eletrônica do Diretor de Secretaria da Vara em que trabalha, noticiando que a Vara passará por uma correição ordinária. Diante dessa informação, é correto concluir que
- (A) a ata descrevendo os atos executados será encaminhada à Corregedoria Geral de Justiça em até 15 dias após a sua realização, bem como poderá a correição atingir apenas parte dos serviços prestados pela Vara.
 - (B) a correição será realizada no mês de janeiro e a sua execução caberá ao Juiz Corregedor Permanente, lavrando-se o termo em livro próprio.
 - (C) consistirá em fiscalização precedida de prévio anúncio e que visará à verificação de regularidade do funcionamento da unidade.
 - (D) a execução da correição deve ter sido precedida de anúncio por Edital publicado no Diário Oficial de Justiça Eletrônico, com pelo menos quinze dias de antecedência, devendo também ser realizada prévia comunicação à Ordem dos Advogados do Brasil.
 - (E) trata-se de fiscalização prevista, cuja ata contendo o relato de sua execução será encaminhada à Corregedoria Geral de Justiça em até 60 dias.

- 61.** Considere que Mário é advogado e representa uma empresa em processo judicial que tramita, há mais de dez anos, ainda em formato físico. Diante do descumprimento de uma decisão, dirigiu-se ao gabinete de um Magistrado e solicitou audiência para despachar um pedido contido em petição. Com base na situação hipotética e nas Normas da Corregedoria Geral da Justiça, é correto afirmar que
- (A) a petição poderá ser juntada ao processo, sem prévio encaminhamento do setor de protocolo, caso o juiz tenha dispensado de forma fundamentada e expressa o protocolo no setor próprio.
 - (B) a petição poderá ser juntada diretamente no processo, salvo se vier acompanhada de objeto de inviável entranhamento ao processo, hipótese em que o escrevente deverá certificar essa circunstância e manter no próprio cartório o objeto, até o encerramento da ação.
 - (C) caso haja a anotação de urgência na petição, o ofício deverá, independentemente de protocolo no setor próprio, juntá-la e emitir termo de juntada na própria petição.
 - (D) o advogado deverá protocolar, previamente, a petição no setor próprio, pois as normas não autorizam, em hipótese alguma, a sua juntada diretamente no processo pelo ofício.
 - (E) a petição somente poderá ser juntada diretamente no processo pelo ofício caso contenha nova procuração conferida ao advogado, circunstância que deverá ser certificada no termo de juntada.
- 62.** O capítulo XI, Seção IV, das Normas da Corregedoria Geral de Justiça disciplina o protocolo de petições intermediárias em processos eletrônicos. A respeito do assunto, assinale a alternativa correta.
- (A) Caso o juiz defira o recebimento de petição física direcionada a processo eletrônico, em função de inconsistência do sistema de processamento, a parte a apresentará perante o Setor de Protocolo, bem como procederá o protocolo eletrônico, no prazo de 05 (cinco) dias, a contar do retorno do funcionamento do sistema.
 - (B) Em caso de indisponibilidade do sistema de peticionamento eletrônico, o Setor de Protocolo não pode receber petições em papel, pois os prazos judiciais se prorrogam para o dia útil subsequente.
 - (C) Na hipótese de materialização do processo, cuja tramitação era em meio eletrônico, passarão a ser admitidas petições em meio físico. Retomada a tramitação no meio eletrônico, não mais serão admitidas petições em meio físico.
 - (D) Não se admite, ainda que nos Foros Digitais, o protocolo integrado de petições em papel dirigidas a processos físicos em tramitação nas demais Comarcas do Estado.
 - (E) Em caso de recebimento indevido de petição física direcionada a processo eletrônico, o Setor de Protocolo de origem promoverá a digitalização do documento e a sua inserção no processo judicial eletrônico.
- 63.** A solicitação e o recebimento de informações da Receita Federal do Brasil relacionadas a endereço ou situação econômico-financeira da parte em processo judicial serão realizados pelo sistema
- (A) PJe.
 - (B) ICP-Brasil.
 - (C) BacenJud.
 - (D) Infojud.
 - (E) e-SAJ.
- 64.** A respeito da tramitação de processos eletrônicos, é correto afirmar que
- (A) para a elaboração dos documentos, serão utilizados os modelos de expediente institucionais padronizados, autorizados e aprovados pelo Diretor da respectiva unidade judiciária.
 - (B) é de exclusiva responsabilidade do titular de certificação digital o uso e o sigilo da chave privada da sua identidade digital, não sendo oponível, em nenhuma hipótese, alegação de seu uso indevido.
 - (C) o acesso ao sistema de processamento eletrônico do Tribunal de Justiça do Estado de São Paulo será realizado pelo seu sítio eletrônico, sendo vedado o uso de outros meios.
 - (D) os documentos produzidos de forma eletrônica serão assinados e rubricados.
 - (E) os advogados, defensores públicos, procuradores e membros do Ministério Público, não vinculados a processo, previamente identificados, poderão acessar todos os atos e documentos processuais armazenados, incluídos os casos de processos em sigilo ou segredo de justiça.

CONHECIMENTOS GERAIS

ATUALIDADES

65. O arcabouço fiscal é um conjunto de medidas, regras e parâmetros para a condução da política fiscal – controle dos gastos e receitas do país. A nova regra fiscal, anunciada nesta quinta-feira (30) pelo governo, substituirá o teto de gastos que vigora desde 2016 e limita o crescimento das despesas ao ano anterior, corrigido pela inflação oficial (Índice Nacional de Preços ao Consumidor Amplo – IPCA).

(*ebc*. Disponível em <https://shre.ink/kNjM>. Acesso em 03/04/2023. Adaptado)

A respeito da proposta anunciada, é correto afirmar que ela

- (A) estipula o teto de crescimento da despesa a 10% ao ano acima da inflação.
- (B) determina que a dívida pública bruta cairá levemente até 2025 e será estabilizada a partir de 2026.
- (C) prevê que o excedente de superávit primário acima do teto da banda será usado para investimentos em saúde.
- (D) projeta que o déficit primário será zerado em 2026, com superávit de 5% do PIB em 2024 e 6% em 2025.
- (E) limita o crescimento da despesa a 70% da variação da receita dos 12 meses anteriores.

66. As agências de notícias internacionais informaram que após sucessivos aumentos da produção no ano passado, a Arábia Saudita e outros países produtores de petróleo da Organização dos Países Exportadores de Petróleo (Opep+) informaram, neste domingo (2), cortes voluntários na produção do óleo. O cartel deve reduzir cerca de 1,15 milhão de barril por dia (bdp) até o final de maio.

(*seudinheiro*. Disponível em <https://shre.ink/kNA4>. Acesso em 03.03.23. Adaptado)

O anúncio não agradou

- (A) aos Estados Unidos, porque é um dos países que mais pressionam pelo aumento da oferta da Opep+ para conter a disparada de preços, sobretudo de energia, com impacto na inflação americana.
- (B) ao Mercosul, porque os países que o compõem não são produtores de petróleo e, como consequência do aumento do preço, deverão desviar recursos orçamentários da saúde, educação e habitação para adquirir o combustível.
- (C) aos países da comunidade europeia que necessitam do petróleo para abastecer os aquecedores residenciais no período compreendido entre os meses de maio e agosto.
- (D) à Venezuela que, segundo Nicolas Maduro, com a retomada de venda de petróleo aos Estados Unidos, estava obtendo recursos para suprir as necessidades da população e apoio para concorrer a um novo mandato.
- (E) à Rússia, que precisará produzir mais petróleo para abastecer os veículos de guerra que atuam em território ucraniano e deixará de vender combustível que gera os fundos necessários para a manutenção da guerra.

67. Em mais um efeito colateral da invasão russa da Ucrânia, as Forças Aéreas de quatro países nórdicos tomaram a inédita decisão de unificar suas frotas, planejamento, operações e patrulhas. Em conjunto, eles somam 247 caças, poderio equivalente ao individual dos principais membros europeus da Otan, como França e Turquia.

(*uol*. Disponível em <https://shre.ink/kNqm>. Acesso em 03.03.23. Adaptado)

Os países que unificaram suas frotas são os seguintes:

- (A) Suécia, Croácia, Noruega e Países Baixos.
- (B) Suécia, Finlândia, Noruega e Polônia.
- (C) Suécia, Finlândia, Noruega e Dinamarca.
- (D) Groenlândia, Finlândia, Bélgica e Irlanda.
- (E) Groenlândia, Finlândia, Noruega e Dinamarca.

68. A comitiva do Ministério da Agricultura e Pecuária (Mapa) encerrou nesta quarta-feira (29) sua missão oficial na China, com a participação no “Seminário Econômico Brasil-China” que contou com a presença de autoridades governamentais e empresários dos dois países. Na abertura do evento, o ministro da Agricultura e Pecuária do Brasil, Carlos Fávaro, comemorou os resultados da visita.

(*gov.br*. Disponível em <https://shre.ink/kgUc>. Acesso em 03.03.23. Adaptado)

A primeira conquista da viagem, que iniciou no dia 22 de março, foi o anúncio do governo chinês de

- (A) participar da FUNBIO, uma associação sem fins lucrativos que trabalha para a conservação da biodiversidade brasileira.
- (B) investir em uma fábrica de componentes eletrônicos na região amazônica para abastecer as montadoras de veículos do Brasil.
- (C) doar vultosos recursos para o Fundo Amazônia que promove ações de prevenção, monitoramento e combate ao desmatamento da Amazônia.
- (D) montar, em Itapetininga (SP), uma fábrica de veículos da maior empresa automotiva estatal chinesa, a *Great Wall Motors*.
- (E) levantar o embargo às importações de carne bovina brasileira, que estavam suspensas desde fevereiro.

69. Considere que Alice tem 25 anos, é considerada uma pessoa com deficiência e há cinco anos namora com Jackson, que não tem deficiência física, mental, intelectual ou sensorial. Eles desejam se casar em seis meses. Com base na situação hipotética e no disposto no Estatuto da Pessoa com Deficiência, é correto afirmar que

- (A) o casamento apenas poderá ser realizado depois que a mãe e o pai de Alice emitirem autorização expressa, com firma reconhecida em cartório.
- (B) eles devem pedir autorização expressa ao juízo competente pelo menos 120 dias antes do casamento.
- (C) a deficiência não afeta a plena capacidade civil de Alice, inclusive para se casar e exercer seus direitos sexuais e reprodutivos.
- (D) Jackson deve solicitar autorização para o casamento ao responsável legal de Alice, devendo formalizar o pedido com firma reconhecida em cartório.
- (E) como Jackson não é uma pessoa com deficiência, apenas poderá se casar com Alice depois que obter do cartório de registro civil competente autorização para tanto.

70. De acordo com o Estatuto da Pessoa com Deficiência, garantir ambientes de trabalho acessíveis e inclusivos é obrigação

- (A) exclusiva dos órgãos públicos.
- (B) das pessoas jurídicas de direito público, privado ou de qualquer natureza.
- (C) exclusiva das fundações e pessoas jurídicas de direito público.
- (D) exclusiva das associações e fundações.
- (E) expressa apenas das pessoas de direito privado.

71. Uma fórmula muito usada por motoristas de aplicativos, para saber se vale mais a pena abastecer o carro de motor flex com gasolina ou álcool (etanol), é dividir o preço do litro de etanol pelo da gasolina. Se o resultado for maior do que 0,7, é mais vantajoso abastecer o carro com gasolina, se for menor do que 0,7 é mais vantajoso abastecer o carro com etanol e, se for igual a 0,7, é indiferente abastecer o carro com gasolina ou etanol.

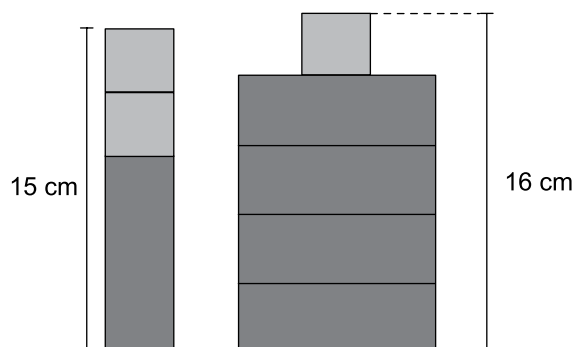
Renan, que é motorista de aplicativo, fez as contas por essa fórmula e verificou que seria mais vantajoso abastecer seu carro com etanol, já que o preço do litro de gasolina estava R\$ 5,10. O preço do litro de etanol usado nos cálculos de Renan, necessariamente,

- (A) era menor do que R\$ 3,57.
- (B) era maior do que R\$ 4,40.
- (C) estava entre R\$ 3,57 e R\$ 4,40.
- (D) era menor do que R\$ 3,50.
- (E) estava entre R\$ 3,50 e R\$ 3,57.

72. De acordo com a escala de um mapa, cada 6 cm de distância no mapa corresponde a uma distância real de 19 km. Uma distância real de 570 m corresponde, nesse mapa, a distância de

- (A) 9 cm.
- (B) 9 mm.
- (C) 18 mm.
- (D) 1,8 mm.
- (E) 18 cm.

73. A figura indica a altura de duas pilhas envolvendo cinco retângulos idênticos e três quadrados idênticos. Sabe-se, ainda, que a largura do retângulo é igual a medida do lado do quadrado.



Na condição dada, a área de cada um dos cinco retângulos da figura, em cm^2 , é igual a

- (A) 10,24.
- (B) 32,00.
- (C) 10,89.
- (D) 27,52.
- (E) 20,48.

74. O preço à vista de um celular é de R\$ 1.280,00. Caso o comprador queira pagar a prazo, em 10 prestações mensais fixas, cada prestação será de R\$ 153,60. Nesse caso, o acréscimo que o comprador pagará, em relação ao preço do pagamento à vista, corresponderá a:

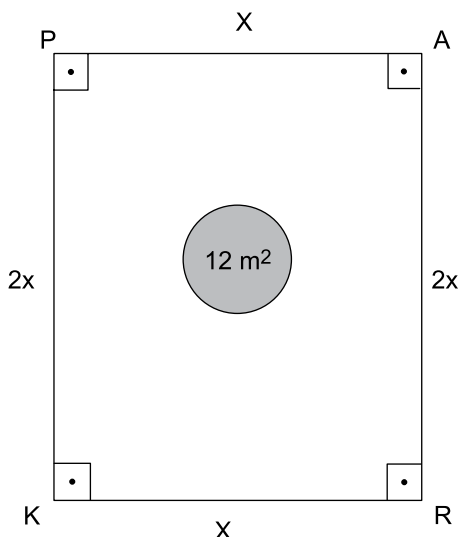
- (A) 15%
- (B) 12%
- (C) 18%
- (D) 16%
- (E) 20%

75. Um concurso consiste de três provas de pesos diferentes, que são: matemática (peso 1), legislação (peso 3) e português (peso 4). Cada uma das três provas vale de 0 a 10 pontos, e a nota final de cada candidato é a média ponderada das três provas.

Rafaela prestou esse concurso, tirou 6 na prova de português e na de matemática tirou o dobro da nota que tirou na prova de legislação. Sabendo-se que Rafaela foi aprovada nesse concurso com média ponderada igual a 5, sua nota na prova de matemática superou a nota na prova de português em

- (A) 0,4 ponto.
- (B) 0,8 ponto.
- (C) 0,6 ponto.
- (D) 0,5 ponto.
- (E) 0,2 ponto.

76. A figura indica o estacionamento retangular PARK, cujo comprimento PA mede a metade da largura AR. No meio desse estacionamento, há uma rotatória circular, de área 12 m^2 , que é a única parte do interior do estacionamento que não pode ser ocupada por veículos.



Se a área da parte desse estacionamento que pode ser ocupada com veículos é de 500 m^2 , então o perímetro do retângulo PARK, em metros, é igual a

- (A) 102.
- (B) 90.
- (C) 96.
- (D) 78.
- (E) 84.

77. Em um computador com Microsoft Windows 11, em sua configuração original, um usuário está com a pasta C:\TEMP aberta no Explorador de Arquivos, também em sua configuração original, que contém apenas um arquivo, chamado Controle.txt, conforme imagem a seguir.

Nome	Data de modificação	Tipo	Tamanho
Controle.txt	25/04/2023 21:33	Documento de Te...	5 KB

Esse usuário pressionou as teclas CTRL+Z e o Explorador de Arquivos passou a exibir, na mesma pasta C:\TEMP, apenas o arquivo Projeto.txt, conforme imagem a seguir.

Nome	Data de modificação	Tipo	Tamanho
Projeto.txt	25/04/2023 21:33	Documento de Te...	5 KB

Assinale a alternativa correta.

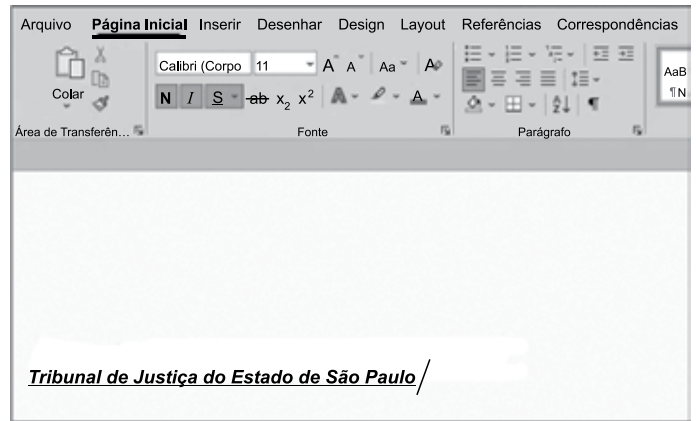
- (A) O arquivo Controle.txt foi apagado em definitivo, sem ser enviado para Lixeira do Windows.
- (B) O arquivo Projeto.txt havia sido renomeado para Controle.txt.
- (C) O arquivo Projeto.txt foi recuperado da Lixeira do Windows.
- (D) O arquivo Controle.txt foi configurado como oculto.
- (E) O arquivo Controle.txt foi enviado para a Lixeira do Windows.

78. Em uma pasta do Microsoft Windows 11, em sua configuração original, existem 4 arquivos, chamados arquivo1.txt, arquivo2.txt, arquivo3.txt e arquivo4.txt. Um usuário selecionou o arquivo arquivo1.txt, apenas, e pressionou as teclas CTRL+C. Em seguida, selecionou o arquivo arquivo2.txt, apenas, e pressionou as teclas CTRL+C. Após, selecionou o arquivo arquivo3.txt, apenas, e pressionou as teclas CTRL+X. Finalmente, selecionou o arquivo arquivo4.txt, apenas, e pressionou as teclas CTRL+X.

Assinale a alternativa que indica qual(is) arquivo(s) será(ão) colados em uma outra pasta, vazia, ao pressionar as teclas CTRL+V, considerando que o usuário tem todas as permissões no computador.

- (A) arquivo3.txt e arquivo4.txt, apenas.
- (B) arquivo1.txt e arquivo2.txt, apenas.
- (C) arquivo4.txt, apenas.
- (D) arquivo1.txt, arquivo2.txt, arquivo3.txt e arquivo4.txt.
- (E) arquivo1.txt, apenas.

79. Tem-se a seguinte imagem, do Microsoft Word 365, em sua configuração original, exibida parcialmente, com um texto editado:



O cursor do mouse está posicionado ao final do texto. Se o usuário clicar nos ícones Negrito e Itálico, e digitar uma palavra, essa palavra estará formatada da seguinte maneira:

- (A) sublinhado, apenas.
- (B) sem nenhuma formatação.
- (C) negrito e itálico, apenas.
- (D) itálico, apenas.
- (E) negrito, apenas.

80. Um usuário criou uma tabela no Microsoft Word 365, em sua configuração original, com 1 linha e 2 colunas. Com o cursor do mouse na primeira célula da tabela, esse usuário digitou A e pressionou _____. Depois digitou B e pressionou _____. Após, digitou C e pressionou _____. Finalmente, digitou D e pressionou _____. Ao final, a tabela continha 3 linhas e 2 colunas.

Assinale a alternativa que preenche, correta e respectivamente, as lacunas do texto.

- (A) TAB ... ENTER ... ENTER ... ENTER
- (B) ENTER ... ENTER ... ENTER ... TAB
- (C) ENTER ... ENTER ... ENTER ... ENTER
- (D) TAB ... TAB ... TAB ... TAB
- (E) ENTER ... TAB ... ENTER ... TAB

81. Tem-se o seguinte documento, editado no Microsoft Word 365, em sua configuração original:

- 1 Palavra1 → Palavra2 ¶
- 2 Palavra1·Palavra2 ¶
- 3 Palavra1.....Palavra2 ¶
- 4 Palavra1 → → Palavra2 ¶
- 5 Palavra1 → → → Palavra2 ¶

Considerando que as marcas de parágrafo estão ativas e que os números de 1 a 5 são apenas uma referência às linhas, assinale a alternativa que indica a linha que contém a maior quantidade de espaços em branco entre as palavras Palavra1 e Palavra2.

- (A) Linha 2.
- (B) Linha 1.
- (C) Linha 5.
- (D) Linha 4.
- (E) Linha 3.

82. Tem-se a seguinte planilha, criada no Microsoft Excel 365, em sua configuração padrão:

	A	B	C
1	8	7	11
2	6	10	9
3	12	11	8
4			

Assinale a alternativa com o resultado correto da função =CONT.SE(A1:C3;MAIOR(A1:C3;1)) ao ser inserida na célula A4.

- (A) 9
- (B) 12
- (C) 1
- (D) 2
- (E) 11

83. Considere a seguinte planilha, criada no Microsoft Excel 365, em sua configuração original, com as células A1 e B1 formatadas como data.

	A	B
1	20/03/2023	20/04/2023
2		

Ao inserir na célula A2 a fórmula =DIA(B1)-DIA(A1), o resultado será:

- (A) 20
- (B) 0
- (C) 31
- (D) 1
- (E) 4

84. Tem-se a seguinte planilha, criada no Microsoft Excel 365, em sua configuração padrão, onde a célula A7 contém a função =SOMA(A1:B5), exibindo assim o valor 62:

	A	B
1	6	6
2	8	8
3	6	7
4	5	4
5	4	8
6		
7	62	

Um usuário selecionou a coluna B por completo, clicou com o botão secundário do mouse sobre a letra B e clicou na opção Inserir, inserindo assim uma coluna em branco, conforme imagem a seguir, onde o conteúdo da célula A7 foi propositalmente oculto.

	A	B	C
1	6		6
2	8		8
3	6		7
4	5		4
5	4		8
6			
7			

Nessa coluna em branco, o usuário inseriu o valor 1 em todas as células de B1 até B5, conforme imagem a seguir.

	A	B	C
1	6	1	6
2	8	1	8
3	6	1	7
4	5	1	4
5	4	1	8
6			
7			

Assinale a alternativa com o conteúdo da célula A7 após as operações descritas no enunciado.

- (A) 5
- (B) 29
- (C) 34
- (D) 62
- (E) 67

Considere a seguinte mensagem de correio eletrônico, criada usando o Microsoft Outlook 365, em sua configuração padrão, de usuários que estão todos na mesma empresa e usando seus e-mails corporativos, que foi enviada e recebida com sucesso, para as questões de números **85** e **86**:

De: João
Para: Ricardo
Cc: Fabio
Cco: Pedro
Assunto: Reunião em 20 minutos

85. Ricardo, ao receber a mensagem, clicou no botão Responder a Todos e propôs uma alteração para que a reunião fosse atrasada em 1 hora. Todos os usuários que receberam a mensagem de Ricardo aceitaram a proposta.

Assinale a alternativa com o usuário que não recebeu a mensagem de Ricardo e, portanto, não sabia do atraso da reunião.

- (A) João, apenas.
- (B) Fabio e Pedro, apenas.
- (C) Pedro, apenas.
- (D) Fabio, apenas.
- (E) Fabio e João, apenas.

86. Assinale a alternativa que indica quais usuários receberam a mensagem original de João, e em qual pasta do Outlook essa mensagem foi automaticamente gravada.

- (A) Ricardo e Fábio na pasta Caixa de Entrada, e Pedro na pasta Arquivo Morto.
- (B) Ricardo e Fabio na pasta Caixa de Entrada, e Pedro na pasta Rascunhos.
- (C) Ricardo na pasta Caixa de Entrada, Fabio na pasta Rascunhos e Pedro na pasta Arquivo Morto.
- (D) Ricardo, Fabio e Pedro, todos na pasta Caixa de Entrada.
- (E) Ricardo na pasta Caixa de Entrada, Fabio na pasta Arquivo Morto e Pedro na pasta Lixo Eletrônico.










87. Assinale a alternativa que indica o termo de pesquisa do buscador Google, em sua configuração padrão, que pesquisa pela palavra Tribunal, mas exclui a palavra Justiça dos resultados.

- (A) Tribunal -Justiça
- (B) "Tribunal" Justiça
- (C) Tribunal &Justiça
- (D) Tribunal "Justiça"
- (E) Tribunal [Justiça]

88. Na URL <https://www.meusite.com.br/descontos%20especiais.html>, o %20 representa

- (A) um traço.
- (B) um site não seguro.
- (C) um sinal de adição.
- (D) um espaço em branco.
- (E) um site marcado como Favorito.

89. Têm-se 3 arquivos em um computador com Microsoft Windows 11 (A, B e C), com o status do OneDrive exibido no Explorador de Arquivos, todos em sua configuração padrão.

Nome	Status
 Atividades.txt	 
 Contrato.docx	 
 Financeiro.xlsx	 

Assinale a alternativa com o(s) arquivo(s) que não consume(m) espaço em disco nesse computador.

- (A) Atividades.txt e Contrato.docx, apenas.
- (B) Financeiro.xlsx, apenas.
- (C) Contrato.docx, apenas.
- (D) Contrato.docx e Financeiro.xlsx, apenas.
- (E) Atividades.txt, apenas.

90. Ao criar uma equipe no Microsoft Teams, em sua configuração original, são criados também, por padrão, 2 recursos, que estão hachurados na imagem a seguir, ao lado do nome da equipe.

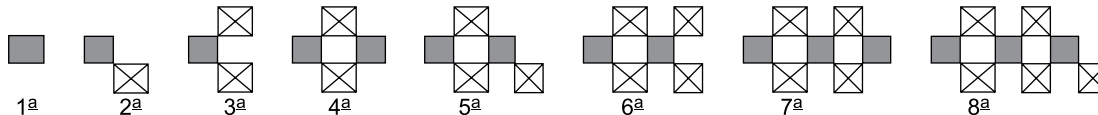


Assinale a alternativa com o nome desses recursos.

- (A) Arquivos e Membros.
- (B) Wiki e Arquivos.
- (C) Postagens e Arquivos.
- (D) Postagens e Membros.
- (E) Word e Excel.

RACIOCÍNIO LÓGICO

91. A seguir estão desenhadas as oito primeiras figuras de uma sequência ilimitada com um padrão lógico.



Na 34ª figura dessa sequência, a diferença entre o número de quadriláteros que tem as diagonais traçadas e o número de quadriláteros sombreados é igual a

- (A) 12.
- (B) 10.
- (C) 13.
- (D) 11.
- (E) 9.

92. Em relação a um grupo de pessoas e quanto ao domínio de quatro habilidades: P, Q, R e T, sabe-se que:

- I. Todos que possuem a habilidade Q também possuem a habilidade P.
- II. Não há quem possua a habilidade R, que não possua também a habilidade P, mas desses nem todos possuem a habilidade Q.
- III. Há quem possua a habilidade T que possui também a habilidade Q, e não há quem possua a habilidade R que possui a habilidade T.

A alternativa que contém o diagrama lógico que satisfaz plenamente as três afirmações dadas é:

- (A)
- (B)
- (C)
- (D)
- (E)

93. Acerca de cinco servidores de um tribunal foram feitas quatro afirmações. A terceira afirmação é FALSA e as demais são VERDADEIRAS.

- I. Se Fabiana é técnica judiciária, então Gerusa é escrevente.
- II. Se Humberto é juiz, então Gerusa não é escrevente.
- III. Se Janice é desembargadora, então Ivo é promotor.
- IV. Ivo é promotor ou Humberto é juiz.

A partir dessas afirmações, é logicamente VERDADEIRO que

- (A) Fabiana não é técnica judiciária.
- (B) Humberto não é juiz.
- (C) Janice não é desembargadora.
- (D) Gerusa é escrevente.
- (E) Ivo é promotor.

94. A sequência a seguir é ilimitada e foi criada com um padrão lógico:

20, 5, 4, **40**, 10, 8, **60**, 15, 12, **80**, 20, 16, ..., **180**,
 K, _L_, ..., **260**, _M_, _N_, ...

O valor de $K + L + M + N$ é

- (A) 208.
- (B) 192.
- (C) 198.
- (D) 202.
- (E) 186.

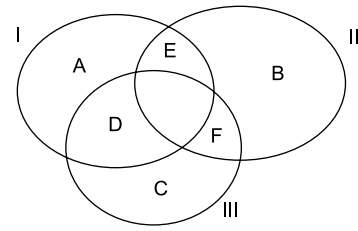
95. Em uma reunião, com seus colaboradores, o chefe do atendimento diz:

“Se o atendimento é bom, então o cliente fica satisfeito e volta”.

A alternativa que contém uma afirmação equivalente à afirmação do chefe é:

- (A) Se o cliente fica satisfeito e volta, então o atendimento é bom.
- (B) Se o cliente não fica satisfeito ou não volta, então o atendimento não é bom.
- (C) O cliente fica satisfeito ou volta e o atendimento é bom.
- (D) Se o cliente não fica satisfeito ou volta, então o atendimento não é bom.
- (E) O atendimento é bom e o cliente fica satisfeito e volta.

96. Três conjuntos: I, II e III formam um diagrama lógico com a seguinte disposição:



As regiões A, D e E são regiões do conjunto I. As regiões B, E e F são regiões do conjunto II. As regiões C, D e F são regiões do conjunto III. As letras representam o número de elementos da região na qual a letra está inserida. A intersecção simultânea dos três conjuntos não possui elementos. A união dos três conjuntos possui 55 elementos, e sabe-se que:

$$A + B = 23$$

$$A + C = 26$$

$$B + C = 25$$

A região D tem um elemento a mais que a região E, que, por sua vez, tem um elemento a mais que a região F.

Sendo assim, é correto afirmar que o conjunto que tem mais elementos supera o conjunto com o menor número de elementos em

- (A) 5 elementos.
- (B) 1 elemento.
- (C) 3 elementos.
- (D) 2 elementos.
- (E) 4 elementos.

97. Mara, Roberto, Sônia e Tadeu são professores de disciplinas diferentes. As disciplinas são: Física, Matemática, Biologia e Química, não necessariamente nessa ordem. Cada um deles leciona em cidades diferentes: Campinas, Bauru, Santos e São Paulo, não necessariamente nessa ordem. Sobre eles, há as seguintes informações:

- I. A pessoa que leciona Matemática, que não é o Roberto, leciona em Campinas e Mara leciona em Santos.
- II. Sônia, que leciona em Bauru, não dá aulas de Física, e é amiga de quem leciona Biologia em Santos.

A afirmação cujo valor lógico é verdadeiro é:

- (A) Tadeu leciona em São Paulo ou quem leciona em Bauru leciona Química.
- (B) Roberto não é professor de Física ou quem leciona Biologia o faz em Bauru.
- (C) Ou o professor de Física leciona em São Paulo ou Sônia é professora de Química.
- (D) Se Tadeu é professor de Matemática, então Mara é professora de Química.
- (E) Roberto leciona em São Paulo e Mara não leciona em Santos.

98. A negação lógica da afirmação: 'Todos amigos são leais ou não adianta acreditar nas pessoas', está contida na seguinte alternativa:

- (A) Adianta acreditar nas pessoas ou há algum amigo que é leal.
- (B) Se adianta acreditar nas pessoas, então todos os amigos não são leais.
- (C) Há algum amigo que não é leal e adianta acreditar nas pessoas.
- (D) Se todos os amigos são leais, então adianta acreditar nas pessoas.
- (E) Nenhum amigo é leal e adianta acreditar nas pessoas.

99. Para descobrir se André é ou não é arquiteto, se Célia é ou não é cineasta, se Daniel é ou não é dançarino, se Elisa é ou não é escultora, se Luisa é ou não é literata, se Paulo é ou não é pintor, afirmou-se o que segue:

- I. Se André é arquiteto, então Célia não é cineasta.
- II. Se Daniel não é dançarino, então Elisa é escultora.
- III. Se Luisa é literata, então Célia é cineasta e Elisa é escultora.
- IV. Se André não é arquiteto e Daniel é dançarino, então Paulo é pintor.
- V. Celia não é cineasta ou Elisa é escultora.

Em relação às afirmações anteriores, as afirmações III e V são falsas e as demais afirmações são verdadeiras.

Dessa forma, a afirmação com valor lógico verdadeiro é:

- (A) Luisa não é literata e Paulo é pintor.
- (B) Daniel não é dançarino e Luisa é literata.
- (C) Se Luisa é literata, então André é arquiteto.
- (D) Paulo não é pintor ou Daniel não é dançarino.
- (E) Se Paulo não é pintor, então André é arquiteto.

100. A seguir estão cinco pares de afirmações. Analise cada um desses pares de afirmações sob os seguintes aspectos: se formam um par de afirmações equivalentes ou se formam um par de afirmações que são negações lógicas entre si. Se o par em questão for de duas afirmações equivalentes, considere isso um SIM. Se o par em questão for de afirmações que se comportam como negações lógicas entre si, considere isso um NÃO. Se o par em questão não for uma coisa nem outra considere isso um NÃO.

I) $\left\{ \begin{array}{l} \text{Se os gatos têm quatro patas, então os gatos são quadrúpedes.} \\ \text{Se os gatos não são quadrúpedes, então os gatos não têm quatro patas.} \end{array} \right.$

II) $\left\{ \begin{array}{l} \text{O cão é amigo fiel e o cão não abandona seu dono.} \\ \text{O cão não é amigo fiel e o cão abandona seu dono.} \end{array} \right.$

III) $\left\{ \begin{array}{l} \text{Se o chão está molhado, então é perigoso andar por ele.} \\ \text{O chão não está molhado ou é perigoso andar por ele.} \end{array} \right.$

IV) $\left\{ \begin{array}{l} \text{Carina chegou cedo e foi embora tarde.} \\ \text{Carina não chegou cedo ou não foi embora tarde.} \end{array} \right.$

V) $\left\{ \begin{array}{l} \text{Tomás é hábil ao jogar tênis e ao jogar basquete.} \\ \text{Tomás é hábil ao jogar tênis e Tomás é hábil ao jogar basquete.} \end{array} \right.$

A verificar os cinco pares de afirmações, a quantidade de considerações com o SIM é igual a

- (A) 5.
- (B) 1.
- (C) 3.
- (D) 4.
- (E) 2.

